

# EKONOMI

**KEMENTERIAN PENDIDIKAN, KEBUDAYAAN, RISET, DAN TEKNOLOGI**

**2022**

**SMA/MA KELAS XII**

**Hak Cipta pada Kementerian Pendidikan, Kebudayaan, Riset, dan Teknologi Republik Indonesia**  
Dilindungi Undang-Undang

Penafian: Buku ini disiapkan oleh Pemerintah dalam rangka pemenuhan kebutuhan buku pendidikan yang bermutu, murah, dan merata sesuai dengan amanat dalam UU No. 3 Tahun 2017. Buku ini disusun dan ditelaah oleh berbagai pihak di bawah koordinasi Kementerian Pendidikan, Kebudayaan, Riset, dan Teknologi. Buku ini merupakan dokumen hidup yang senantiasa diperbaiki, diperbarui, dan dimutakhirkan sesuai dengan dinamika kebutuhan dan perubahan zaman. Masukan dari berbagai kalangan yang dialamatkan kepada penulis atau melalui alamat surel buku@kemdikbud.go.id diharapkan dapat meningkatkan kualitas buku ini.

## **Ekonomi untuk SMA/MA Kelas XII**

### **Penulis**

Aisyah Nurjanah  
Yeni Fitriani

### **Penelaah**

Regina Niken Wilantari  
Fiktor Piawai

### **Penyelia/Penyelaras**

Supriyatno  
Lenny Puspita Ekawaty  
Anggraeni Dian Permatasari  
Galuh Ayu Mungkashi

### **Kontributor**

Kasmadi  
Nany Lidya

### **Ilustrator**

Febrilia Syahputri

### **Editor**

Ria Nita Fatimah

### **Desainer**

Muhammad Nichal Zaki

### **Penerbit**

Kementerian Pendidikan, Kebudayaan, Riset, dan Teknologi

### **Dikeluarkan oleh:**

Pusat Perbukuan  
Kompleks Kemdikbudristek Jalan RS. Fatmawati, Cipete, Jakarta Selatan  
<https://buku.kemdikbud.go.id>

### **Cetakan pertama, 2022**

ISBN 978-602-244-851-8 (no.jil.lengkap)

ISBN 978-602-427-972-1 (jil.2)

Isi buku ini menggunakan huruf Noto Serif 12/18 pt, Steve Matteson.  
xii, 220 hlm.; 17,6 cm × 25 cm.

# Kata Pengantar

Pusat Perbukuan; Badan Standar, Kurikulum, dan Asesmen Pendidikan; Kementerian Pendidikan, Kebudayaan, Riset, dan Teknologi memiliki tugas dan fungsi mengembangkan buku pendidikan pada satuan Pendidikan Anak Usia Dini, Pendidikan Dasar, dan Pendidikan Menengah, termasuk Pendidikan Khusus. Buku yang dikembangkan saat ini mengacu pada Kurikulum Merdeka. Kurikulum ini memberikan keleluasaan bagi satuan/program pendidikan dalam mengimplementasikan kurikulum dengan prinsip diversifikasi sesuai dengan kondisi satuan pendidikan, potensi daerah, dan peserta didik.

Pemerintah dalam hal ini Pusat Perbukuan mendukung implementasi Kurikulum Merdeka di satuan pendidikan dengan mengembangkan buku siswa dan buku panduan guru sebagai buku teks utama. Buku ini dapat menjadi salah satu referensi atau inspirasi sumber belajar yang dapat dimodifikasi, dijadikan contoh, atau rujukan dalam merancang dan mengembangkan pembelajaran sesuai karakteristik, potensi, dan kebutuhan peserta didik.

Adapun acuan penyusunan buku teks utama adalah Pedoman Penerapan Kurikulum dalam rangka Pemulihan Pembelajaran yang ditetapkan melalui Keputusan Menteri Pendidikan, Kebudayaan, Riset, dan Teknologi No. 262/M/2022 Tentang Perubahan atas Keputusan Mendikbudristek No. 56/M/2022 Tentang Pedoman Penerapan Kurikulum dalam rangka Pemulihan Pembelajaran, serta Keputusan Kepala Badan Standar, Kurikulum, dan Asesmen Pendidikan Nomor 033/H/KR/2022 tentang Perubahan Atas Keputusan Kepala Badan Standar, Kurikulum, dan Asesmen Pendidikan Kementerian Pendidikan, Kebudayaan, Riset, dan Teknologi Nomor 008/H/KR/2022 tentang Capaian Pembelajaran pada Pendidikan Anak Usia Dini, Jenjang Pendidikan Dasar, dan Jenjang Pendidikan Menengah pada Kurikulum Merdeka.

Sebagai dokumen hidup, buku ini tentu dapat diperbaiki dan disesuaikan dengan kebutuhan dan perkembangan keilmuan dan teknologi. Oleh karena itu, saran dan masukan dari para guru, peserta didik, orang tua, dan masyarakat sangat dibutuhkan untuk pengembangan buku ini di masa yang akan datang. Pada kesempatan ini, Pusat Perbukuan menyampaikan terima kasih kepada semua pihak yang telah terlibat dalam penyusunan buku ini, mulai dari penulis, penelaah, editor, ilustrator, desainer, dan kontributor terkait lainnya. Semoga buku ini dapat bermanfaat khususnya bagi peserta didik dan guru dalam meningkatkan mutu pembelajaran.

Jakarta, Desember 2022  
Kepala Pusat,

Supriyatno  
NIP 196804051988121001

# Prakata

Puji dan syukur senantiasa kita panjatkan kehadiran Tuhan Yang Maha Esa, atas terbitnya Buku Siswa Ekonomi untuk Kelas XII ini.

Ilmu ekonomi yang dipelajari khususnya di kelas XII yang berada pada satu fase dengan ekonomi kelas XI masih berpusat pada ekonomi makro, yaitu pada materi pertumbuhan dan pembangunan ekonomi, kegiatan ekonomi internasional, APBN, dan APBD juga materi akuntansi.

Buku pelajaran ekonomi kelas XII menjadi salah satu alternatif sumber belajar bagi peserta didik. Dimana materi yang disajikan dalam buku teks ini sudah disesuaikan dengan capaian pembelajaran dari pendekatan merdeka belajar, peserta didik diarahkan mengembangkan kemampuan berpikir tingkat tinggi atau *higher order thinking skill* (HOTS) dalam aktivitas pembelajaran.

Semoga adanya buku ini, dapat membantu peserta didik maupun guru dalam melaksanakan pembelajaran di kelas agar peserta didik mampu memahami materi ekonomi dan berhasil dalam mencapai tujuan pembelajaran dengan menerapkan pembelajaran yang berprinsip pada profil pelajar Pancasila, sehingga bisa berdampak pada peningkatan kualitas pendidikan di Indonesia.

Tentunya dalam penyusunan buku ini pasti terdapat kekurangan. Kritik dan saran yang konstruktif sangat diharapkan oleh penulis untuk perbaikan ke depannya.

Jakarta, Oktober 2022

Penulis



# Daftar Isi

Kata Pengantar .....	iii
Prakata.....	iv
Daftar Isi.....	v
Daftar Gambar.....	vii
Daftar Tabel.....	ix
Petunjuk Penggunaan Buku.....	x

## Bab 1

<b>Pertumbuhan dan Pembangunan Ekonomi .....</b>	<b>1</b>
A. Pertumbuhan Ekonomi.....	4
B. Pembangunan Ekonomi.....	15
C. Ekonomi Digital .....	24

## Bab 2

<b>Ekonomi Internasional.....</b>	<b>39</b>
A. Konsep dan Manfaat Perdagangan Internasional.....	42
B. Faktor Pendorong dan Penghambat dalam Perdagangan Internasional.....	46
C. Teori Perdagangan Internasional .....	52
D. Kebijakan Perdagangan Internasional .....	54
E. Neraca Pembayaran.....	63
F. Kerja Sama Ekonomi Internasional.....	70

## Bab 3

<b>APBN dan APBD.....</b>	<b>91</b>
A. APBN .....	94
B. APBD.....	105
C. Perpajakan.....	116

## Bab 4

<b>Akuntansi.....</b>	<b>133</b>
A. Persamaan Dasar Akuntansi .....	136
B. Laporan Keuangan .....	170
Glosarium.....	198
Daftar Pustaka .....	208
Daftar Kredit Gambar .....	211
Indeks.....	212
Profil Pelaku Perbukuan.....	214

# Daftar Gambar

Gambar 1.1	Kegiatan produksi di sebuah pabrik.....	4
Gambar 1.2	Pembangunan jalan tol .....	15
Gambar 1.3	Pendidikan sebagai upaya peningkatan kualitas sumber daya manusia .....	23
Gambar 1.4	Penggunaan QRIS sebagai kegiatan ekonomi digital ..	24
Gambar 2.1	Ponsel merupakan salah satu contoh barang yang diperdagangkan di kegiatan perdagangan internasional .....	42
Gambar 2.2	Contoh barang yang diekspor dari Indonesia.....	45
Gambar 2.3	Contoh neraca perdagangan.....	68
Gambar 2.4	Kantor kedutaan AS untuk Indonesia di Jakarta.....	70
Gambar 2.5	Indonesia dan Malaysia merupakan contoh negara yang melakukan kerja sama bilateral.....	71
Gambar 3.1	Vaksinasi Covid-19 .....	94
Gambar 3.2	Pembangunan jalan merupakan salah satu penerapan fungsi pajak.....	116
Gambar 3.3	Penerimaan calon aparatur sipil negara (ASN) merupakan salah satu bentuk perluasan lapangan kerja .....	118
Gambar 4.1	Laporan keuangan perusahaan .....	136
Gambar 4.2	Contoh nota belanja .....	147
Gambar 4.3	Contoh memo .....	148
Gambar 4.4	Contoh kuitansi.....	148
Gambar 4.5	Contoh cek.....	149

Gambar 4.6	Contoh nota kontan .....	149
Gambar 4.7	Bukti transaksi faktur .....	150
Gambar 4.8	Contoh nota debit.....	151
Gambar 4.9	Contoh nota kredit.....	152

# Daftar Tabel

Tabel 2.1	Barang Produksi Negara Lain.....	43
Tabel 2.2	Jenis Transaksi dalam Neraca Pembayaran .....	63
Tabel 4.1	Jenis Transaksi dalam Persamaan Dasar Akuntansi...	154
Tabel 4.2	Pengaruh Transaksi dalam Persamaan Dasar Akuntansi .....	154

# Petunjuk Penggunaan Buku

Materi ekonomi yang dipelajari khususnya di kelas XII berpusat pada kajian ekonomi makro, kajian tersebut meliputi pertumbuhan dan pembanguana ekonomi, kerjasama internasional, APBN dan APBD, serta akuntansi. Melalui pembelajaran ekonomi, kalian dilatih untuk mampu menganalisis dan memecahkan suatu permasalahan yang terjadi di kehidupan sehari-hari.

Buku teks pelajaran ekonomi ini dirancang dengan berbagai lembar aktivitas yang bisa mengasah kemampuan berfikir kritis dan analisis, kemampuan memecahkan masalah dan pengambilan keputusan serta mengembangkan keterampilan proses.

Buku ini terdiri dari 5 bab dengan bagian-bagian sebagai berikut.

## 1. Cover bab

Menunjukkan ilustrasi yang menggambarkan materi yang akan kalian pelajari di bab tersebut.

## 2. Tujuan pembelajaran

Berisi tujuan pembelajaran yang harus kalian capai setelah mempelajari materi pada masing-masing bab.



### 3. Peta konsep

Pada setiap awal bab, terdapat peta konsep yang menunjukkan konsep materi dari setiap bab secara umum. Peta konsep juga memberikan gambaran hubungan antar materi dari masing-masing bab.



### 4. Pertanyaan pemantik

Pertanyaan yang dimunculkan pada bab awal dengan tujuan memberikan stimulus kepada peserta didik sehingga memunculkan ketertarikan pada materi yang akan dipelajari

**Pertanyaan Pemantik**  
Pertumbuhan ekonomi di setiap negara tentunya berbeda-beda. Pertumbuhan ekonomi di Indonesia dengan pertumbuhan ekonomi di Malaysia, Amerika Serikat, dan Arab Saudi jelas berbeda. Apa yang menyebabkan hal tersebut dapat terjadi? Apa indikator perkembangan suatu negara bertumbuh?

**Kata Kunci**  
Pertumbuhan ekonomi, produk domestik bruto, teori pertumbuhan ekonomi, pembangunan ekonomi, indeks pembangunan manusia, ekonomi digital, fintech.

**Pertumbuhan dan Pembangunan Ekonomi**  
Pada materi kelas XI, kalian telah mempelajari pandangan nasional yang memiliki kesamaan dengan pertumbuhan dan pembangunan ekonomi. Apakah yang kalian ketahui mengenai pertumbuhan dan pembangunan ekonomi? Apa perbedaan lingkungan sekitar, apakah sedang ada pembangunan fasilitas umum yang dilaksanakan oleh pemerintah? Pertumbuhan dan pembangunan ekonomi seringkali menjadi topik yang diperbincangkan dari suatu pemerintahan. Oleh karena itu, pemerintah selalu menyusun rencana pembangunan ekonomi mulai dari jangka pendek, jangka menengah, dan jangka panjang. Hal ini dilakukan agar target-target yang dibuat pemerintah dapat tercapai, salah satunya yaitu untuk meningkatkan kesejahteraan bagi masyarakat. Pada bab ini, kalian akan membahas dan menganalisis kondisi pertumbuhan ekonomi dan pelaksanaan pembangunan ekonomi sehingga kalian dapat turut aktif dalam mendukung tercapainya pertumbuhan dan pembangunan ekonomi sesuai peran kalian sebagai peserta didik.

### 5. Kata kunci

Bagian ini menunjukkan kata kunci yang menjadi pokok masalah dari materi setiap bab.

### 6. Pengantar bab

Pada bagian awal masing-masing bab disajikan gambar atau pengantar materi yang terjadi dalam kehidupan nyata yang berkaitan dengan materi tersebut.

**A. Pertumbuhan Ekonomi**

**Kegiatan produksi di sebuah pabrik.**  
Sumber: <https://www.shutterstock.com>

Perhatikan gambar kegiatan produksi di atas. Selain bertujuan untuk mencari keuntungan, kegiatan produksi juga dilakukan dalam rangka memenuhi berbagai kebutuhan hidup manusia. Semakin tinggi tingkat produksi suatu negara, semakin tinggi pertumbuhan ekonomi di suatu negara. Inilah yang membuat kegiatan produksi barang dan jasa di suatu negara menjadi penting.

Apa yang dimaksud dengan pertumbuhan ekonomi? Pertumbuhan ekonomi adalah peningkatan produksi barang dan jasa yang dihasilkan oleh suatu negara dari waktu ke waktu. Pertumbuhan ekonomi dilatarbelakangi peningkatan total output suatu negara atau produk domestik bruto (PDB) dari suatu produk nasional bruto (PNB). PDB merupakan nilai total dari semua barang dan jasa akhir yang diproduksi masyarakat pada suatu negara selama periode waktu tertentu. Hal ini

### 7. Materi

Berisi materi-materi yang akan dipelajari di setiap bab. Materi yang disajikan dalam buku teks ini berfokus pada materi esensial.

## 8. Lembar aktivitas

Dalam buku ini disajikan juga berbagai lembar aktivitas yang bisa mengasah kemampuan berfikir kalian. Lembar aktivitas juga disajikan dalam berbagai kegiatan baik dikerjakan secara kelompok maupun individu seperti melakukan pengamatan di lingkungan sekitar, mencari informasi dari internet, melakukan kunjungan ke tempat tertentu, dan lain-lain.

**Aktivitas 5**

### Pembangunan Ekonomi

**Petunjuk Pengerjaan**

- Kerjakanlah aktivitas berikut secara berkelompok!
- Melalui situs atau sumber yang relevan, carilah informasi terbaru tentang PDB per kapita, angka harapan hidup, serta angka melek huruf Indonesia. Isi tabel berikut ini dengan hasil temuan kalian!

Negara	PDB	Angka Melek Huruf		
		per Kapita	Harapan Hidup	Melek Huruf
América Serikat				
Cina				
India				
Indonesia				
Malaysia				

- Analisis hubungan antara PDB, angka harapan hidup, dan angka melek huruf dengan pembangunan ekonomi berdasarkan tabel di atas!
- Diskusikan jawaban dengan kelompok kalian!
- Presentasikan hasil kerja kelompok kalian!

**2. Perbedaan Pertumbuhan dan Pembangunan Ekonomi**

Pertumbuhan ekonomi menghitungkan peningkatan produksi barang dan jasa pada satu periode tertentu yang diukur berdasarkan PDB. Dengan kata lain, pertumbuhannya hanya diukur secara kuantitatif saja, tanpa

## 9. Asesmen

Bagian ini disajikan di akhir materi. Pada bagian ini kalian diminta untuk menjawab pertanyaan sebagai alat ukur untuk menilai ketercapaian pembelajaran.

**Asesmen**

### I. Bentuk soal AKM

Pilihlah jawaban yang tepat!

- Diketahui produk nasional bruto negara "X" (milyar dolar)

Tahun	Produk Nasional Bruto
2015	44.000
2016	53.173
2017	55.540
2018	65.923
2019	80.782

Dari data di atas laju pertumbuhan ekonomi tahun 2019 adalah ...

- 122,54%
- 81,60%
- 60,66%
- 22,54%
- 16,29%

- Pada tahun 2018 negara maju mengalami peningkatan produksi barang dan jasa. Negara Sejahtera pada tahun yang sama mengalami perubahan kesejahteraan bagi masyarakat golongan ekonomi rendah. Kesimpulan dari pernyataan di atas adalah ...
  - negara maju mengalami pembangunan sedangkan negara sejahtera mengalami pertumbuhan
  - negara maju mengalami pertumbuhan sedangkan negara sejahtera mengalami pembangunan
  - negara maju dan negara sejahtera mengalami pembangunan

## 10. Pengayaan

Pada bagian akhir setiap bab, terdapat pengayaan yang dapat diberikan kepada peserta didik yang sudah mencapai target pembelajaran tertentu.

tingginya jumlah penduduk menjadi penghambat pertumbuhan ekonomi. Analisislah mengapa hal tersebut dapat terjadi!

- Buatlah analisis dampak perkembangan ekonomi digital pada pertumbuhan ekonomi!

**Pengayaan**

**Petunjuk Pengerjaan**

Bacalah artikel UMKM Go-Digital dan Go-Legal dengan memperhatikan tatanan di bawah ini atau scan QR code:

<https://www.ekes.go.id/publikasi/detail/2019/optimisasi-produktivitas-umkm-melalui-go-digital-dan-go-legal>

**Refleksi**

Kalian telah belajar tentang pertumbuhan ekonomi dan pembangunan ekonomi. Manfaat apa yang kalian dapatkan setelah mempelajari bab ini? Apa peran yang dapat kalian lakukan untuk meningkatkan pembangunan ekonomi dan pertumbuhan ekonomi Indonesia?

## 11. Refleksi

Pada kegiatan ini kalian diminta untuk mengemukakan manfaat yang kalian dapatkan setelah mempelajari materi pada setiap bab.



**KEMENTERIAN PENDIDIKAN, KEBUDAYAAN, RISET, DAN TEKNOLOGI  
REPUBLIK INDONESIA, 2022**

Buku Siswa Ekonomi untuk SMA/MA Kelas XII

Penulis: Aisyah Nurjanah dan Yeni Fitriani

ISBN 978-602-427-972-1 (jil.2)

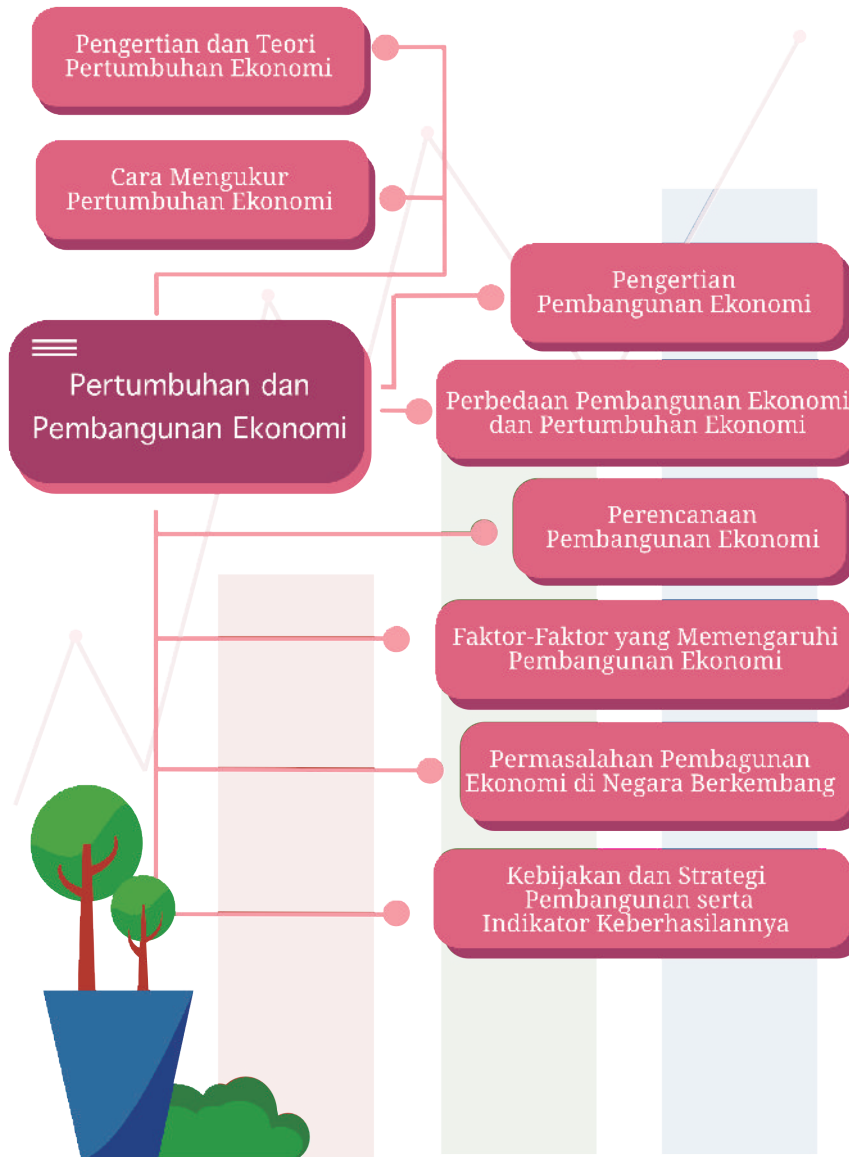


## **BAB 1**

# **Pertumbuhan dan Pembangunan Ekonomi**

Dalam bab ini, kalian akan mempelajari pertumbuhan dan pembangunan ekonomi. Setelah pembelajaran, kalian diharapkan mampu menjelaskan konsep pertumbuhan dan pembangunan ekonomi serta menganalisis fenomena pertumbuhan, dan pembangunan ekonomi di Indonesia.

## Peta Konsep



## **Pertanyaan Pemantik**

Pertumbuhan ekonomi di setiap negara tentunya berbeda-beda. Pertumbuhan ekonomi di Indonesia dengan pertumbuhan ekonomi di Malaysia, Amerika Serikat, dan Arab Saudi jelas berbeda. Apa yang menyebabkan hal tersebut dapat terjadi? Apa indikator perekonomian suatu negara bertumbuh?

## **Kata Kunci**

Pertumbuhan ekonomi, produk domestik bruto, teori pertumbuhan ekonomi pembangunan ekonomi, indeks pembangunan manusia, ekonomi digital, *fintech*, laju pertumbuhan ekonomi.

## **Apersepsi**

Pada materi kelas XI, kalian telah mempelajari pendapatan nasional yang memiliki keterkaitan dengan pertumbuhan dan pembangunan ekonomi. Apakah yang kalian ketahui mengenai pertumbuhan dan pembangunan ekonomi? Coba perhatikan lingkungan sekitar, apakah sedang ada pembangunan fasilitas umum yang dilaksanakan oleh pemerintah? Pertumbuhan dan pembangunan ekonomi seringkali menjadi tolak ukur keberhasilan dari suatu pemerintahan. Oleh karena itu, pemerintah selalu menyusun rencana pembangunan ekonomi mulai dari jangka pendek, jangka menengah, dan jangka panjang. Hal ini dilakukan agar target-target yang dibuat pemerintah dapat tercapai, salah satunya yaitu untuk meningkatkan kesejahteraan bagi masyarakat. Pada bab ini, kalian akan memahami dan menganalisis kondisi pertumbuhan ekonomi dan pelaksanaan pembangunan ekonomi sehingga kalian dapat turut aktif dalam mendukung terciptanya pertumbuhan dan pembangunan ekonomi sesuai peran kalian sebagai peserta didik.

## A. Pertumbuhan Ekonomi



**Gambar 1.1** Kegiatan produksi di sebuah pabrik.

*Sumber: Angga Yuniar/Liputan6.com (2015)*

Perhatikan gambar kegiatan produksi di atas. Selain bertujuan untuk mencari keuntungan, kegiatan produksi juga dilakukan dalam rangka memenuhi berbagai kebutuhan hidup manusia. Semakin tinggi tingkat produksi suatu negara, semakin tinggi pertumbuhan ekonomi di suatu negara. Inilah yang membuat kegiatan produksi barang dan jasa di suatu negara menjadi penting.

Apa yang dimaksud dengan pertumbuhan ekonomi? Pertumbuhan ekonomi adalah peningkatan produksi barang dan jasa yang dihasilkan oleh suatu negara dari waktu ke waktu. Pertumbuhan ekonomi diukur melalui peningkatan total *output* suatu negara atau produk domestik bruto (PDB) riil atau produk nasional bruto (PNB). PDB merupakan nilai total dari semua barang dan jasa akhir yang diproduksi masyarakat pada suatu negara selama periode waktu tertentu. Hal ini menunjukkan bahwa peningkatan PDB suatu negara mengindikasikan

terjadinya pertumbuhan ekonomi. Hal-hal yang perlu diperhatikan dalam pertumbuhan ekonomi, sebagai berikut.

## 1. Laju Pertumbuhan Ekonomi

Pertumbuhan ekonomi merupakan indikator untuk mengukur peningkatan produksi barang dan jasa, sehingga produk domestik bruto (PDB) dapat digunakan sebagai alat untuk mengukur pertumbuhan ekonomi. Pemerintah akan memperhitungkan laju pertumbuhan ekonomi guna mengetahui seberapa besar persentase peningkatan produksi barang dan jasa (*output*) dari tahun ke tahun.

Laju pertumbuhan ekonomi dapat diformulasikan sebagai berikut.

$$\text{Laju pertumbuhan ekonomi} = \left( \frac{PDB_t - PDB_{t-1}}{PDB_{t-1}} \right) \times 100\%$$

Keterangan:

$PDB_t$  = Pendapatan nasional riil tahun tertentu.

$PDB_{t-1}$  = Pendapatan nasional riil tahun sebelumnya.



### Contoh Soal

Pada tahun 2017 produk domestik bruto (PDB) riil Rp13.588,8 triliun. Nilai PDB riil Indonesia pada tahun 2018 sebesar Rp14.837,4 triliun. Berdasarkan data tersebut hitunglah laju pertumbuhan ekonomi Indonesia tahun 2018!

Jawaban:

$PDB_t$  = Rp13.588,8

$PDB_{t-1}$  = Rp14.837,4

Penghitungan laju pertumbuhan ekonomi Indonesia tahun 2018.

$$\begin{aligned} \text{Laju pertumbuhan ekonomi} &= \left( \frac{14.837,4 - 13.588,8}{13.588,8} \right) \times 100\% \\ &= \left( \frac{1.248,6}{13.588,8} \right) \times 100\% \\ &= 9,18\% \end{aligned}$$

Jadi, laju pertumbuhan ekonomi Indonesia tahun 2018 sebesar 9,18 %.

Untuk menguatkan pemahaman kalian tentang laju pertumbuhan ekonomi, kerjakanlah aktivitas berikut!

## Aktivitas 1

### Laju Pertumbuhan Ekonomi

- Perhatikan data PDB Indonesia berikut! Hitunglah laju pertumbuhan ekonomi tahun 2018, 2019, dan 2020!


No.	Tahun	PDB (dalam miliar USD)
1.	2017	1.02
2.	2018	1.04
3.	2019	1.12
4.	2020	1.06

- Berdasarkan data di atas, hitunglah sebagai berikut.
  - Laju pertumbuhan ekonomi paling tinggi!
  - Nilai laju pertumbuhan ekonomi!
- Carilah pada sumber yang relevan mengenai data produk domestik bruto (PDB) tahun terbaru, kemudian hitunglah laju pertumbuhan

ekonomi Indonesia berdasarkan data tersebut dan bandingkan dengan laju pertumbuhan ekonomi periode sebelumnya!

4. Buatlah kesimpulan berdasarkan hasil perhitungan laju pertumbuhan ekonomi Indonesia yang telah kalian hitung!
5. Peserta didik dapat mengunjungi link di bawah ini atau *scan QR code* untuk melihat data PDB Indonesia terbaru.

[https://data.worldbank.org/  
indicator/NY.GDP.MKTP.  
CD?end=2020&locations=ID&start=2010](https://data.worldbank.org/indicator/NY.GDP.MKTP.CD?end=2020&locations=ID&start=2010)



## Aktivitas 2

# Analisis Pertumbuhan Ekonomi

Perhatikan infografis berikut ini dengan saksama!



Sumber: Badan Pusat Statistik/www.bps.go.id (2022)

Setelah memperhatikan infografis tersebut, jawablah pertanyaan berikut.

- 1) Pada Triwulan berapakah laju pertumbuhan ekonomi tertinggi ditahun 2022?
- 2) Berapakah nilai pertumbuhan ekonomi paling tinggi tahun 2022?
- 3) Berdasarkan data yang tercantum pada infografis, berapa nilai Produk Domestik Bruto (PDB) Indonesia pada triwulan IV tahun 2021?
- 4) Pertumbuhan ekonomi Indonesia triwulan I-2022 mengalami peningkatan sebesar 5,01% year on year (y-on-y). Apa maksud dari pernyataan tersebut?



## 2. Teori Pertumbuhan Ekonomi

Teori pertumbuhan ekonomi adalah teori yang menjelaskan faktor-faktor apa saja yang dapat meningkatkan pertumbuhan ekonomi. Dengan kata lain, teori pertumbuhan ekonomi merujuk pada keterkaitan antar faktor yang dapat meningkatkan *output* jangka panjang. Teori pertumbuhan ekonomi mengalami perkembangan sesuai dengan zaman, hal tersebut menyebabkan terdapat beberapa mazhab teori pertumbuhan ekonomi. Beberapa teori pertumbuhan ekonomi di antaranya sebagai berikut.

### a. Teori klasik

Teori klasik atau sering disebut mazhab klasik merupakan buah pemikiran yang berkembang antara abad 18 dan 19. Tokoh yang memberikan gagasan pada teori klasik di antaranya seperti Adam Smith dan David Ricardo. Analisis proses dari pertumbuhan ekonomi menjadi pokok pemikiran para ekonom klasik, beberapa faktor seperti pembagian kerja, akumulasi modal, dan keuntungan dari perdagangan internasional dipandang sebagai faktor utama terciptanya pertumbuhan ekonomi. Inti dari teori klasik yaitu mendukung gagasan pentingnya perdagangan bebas antarnegara, usaha bebas dari tiap individu, dan akumulasi kepemilikan pribadi.

### b. Teori Harrod-Domar

Teori Harrod-Domar atau biasa disebut model Harrod-Domar, menunjukkan pentingnya tabungan dan investasi untuk mengembangkan perekonomian. Teori ini dikembangkan oleh Roy F. Harrod dan Evsey Domar pada tahun 1939. Teori ini menyatakan terdapat hubungan positif antara pertumbuhan ekonomi dengan rasio tabungan dan sebaliknya pertumbuhan ekonomi berhubungan negatif dengan rasio *capital-output*. Semakin rendah rasio *capital output* maka semakin efisien investasi sehingga berdampak pada tingginya pertumbuhan ekonomi.

### c. Teori Schumpeter

Teori Schumpeter berkembang pada tahun 1942, menyatakan bahwa inovasi dari pengusaha atau wirausahawan berperan penting dalam meningkatkan pertumbuhan ekonomi. Menurut Schumpeter, fungsi utama dari wirausahawan adalah memperkenalkan inovasi. Schumpeter mendefinisikan inovasi sebagai kebijakan baru untuk meningkatkan efisiensi dalam proses produksi dan juga meningkatkan permintaan produk. Oleh sebab itu, inovasi merupakan dasar untuk meningkatkan keuntungan dalam ekonomi.

### d. Teori pertumbuhan endogen

Teori pertumbuhan endogen merupakan teori yang dikembangkan oleh Romer sejak tahun 1990-an, teori ini menjelaskan bahwa tingkat kemakmuran dipengaruhi oleh proses internal seperti sumber daya manusia, inovasi, dan modal investasi. Teori pertumbuhan endogen percaya bahwa peningkatan produktivitas dapat dikaitkan dengan inovasi yang lebih cepat dan lebih banyak investasi pada sumber daya manusia.



## Aktivitas 3

# Teori Pertumbuhan Ekonomi



## Petunjuk Pengerjaan

1. Kerjakan aktivitas ini secara berkelompok!
2. Bersama-sama dengan anggota kelompok kalian, cermati artikel pertumbuhan ekonomi Indonesia yang diterbitkan oleh Badan Koordinasi Penanaman Modal (BKPM) berikut!

## Pertumbuhan Ekonomi Indonesia Melejit, Waktu yang Tepat Memulai Investasi

Badan Pusat Statistik (BPS) melaporkan pertumbuhan ekonomi Indonesia kuartal II-2021 mengalami peningkatan hingga 7,07% secara tahunan (*year on year/yoy*). Lebih lanjut, ekonomi Indonesia triwulan II-2021 mengalami pertumbuhan sebesar 3,31 persen (*kuartal-to-kuartal*) dari triwulan sebelumnya. Peningkatan ekonomi Indonesia pada triwulan II-2021 terutama didorong oleh peningkatan kinerja ekspor, konsumsi rumah tangga, investasi, dan konsumsi pemerintah. Perbaikan ekonomi ini menunjukkan bahwa Indonesia berhasil bangkit setelah mengalami tekanan selama beberapa triwulan terakhir akibat Covid-19.

Peningkatan ekonomi tersebut memang menjadi pertanda yang baik, namun tetap penting untuk memastikan bahwa tidak akan terjadi penurunan kembali pada triwulan berikutnya. Salah satu hal yang cukup berperan dalam pertumbuhan ekonomi Indonesia adalah investasi. Kinerja investasi sebagai salah satu mesin pertumbuhan mulai mengalami peningkatan, yaitu sebesar 7,54% (*year on year/yoy*).

Sejak diberlakukan Undang-Undang Cipta Kerja Nomor 11 Tahun 2020 dan petunjuk operasionalnya yaitu Peraturan Pemerintah Nomor 5 Tahun 2021 tentang Penyelenggaraan Perizinan Berusaha Berbasis Risiko telah memberikan sentimen positif pada para investor untuk tetap merealisasikan investasinya, baik yang sedang dalam masa persiapan, konstruksi, maupun masa produksi. Pada periode April-Juni 2021, investasi berjalan dengan baik dimana beberapa perusahaan besar telah melakukan *groundbreaking*.

*Sumber:* <https://www.bkpm.go.id/id/publikasi/detail/berita/pertumbuhan-ekonomi-di-indonesia>

## Realisasi Investasi atau Penanaman Modal

Realisasi investasi di Indonesia selama triwulan II-2021 mengalami peningkatan sebesar 16,2% dibandingkan periode yang sama pada tahun sebelumnya (Rp191,9 triliun). Kementerian Investasi/Badan Koordinasi Penanaman Modal (BKPM) mempublikasikan data realisasi investasi pada triwulan II-2021 (April–Juni) yang mencapai Rp223,0 triliun. Selain itu, terdapat juga data realisasi investasi kumulatif sepanjang periode Januari hingga Juni 2021 yang mencapai Rp442,8 triliun.

Jika dilihat berdasarkan persebarannya, persentase realisasi investasi di Pulau Jawa mencapai 52,4% dengan nilai investasi sebesar Rp100,6 triliun. Persentase realisasi investasi di luar Pulau Jawa adalah sebesar 47,6% dengan nilai investasi sebesar Rp91,3 triliun. Menteri Investasi/Kepala BKPM, Bahlil Lahadalia, menyatakan bahwa “Besarnya proporsi realisasi investasi PMDN yang hampir menyamai PMA adalah tendensi yang positif bahwa PMDN kita memiliki ketahanan uji terhadap dampak pandemi Covid-19. Lebih menggembirakan lagi apabila kita melihat angka penyerapan tenaga kerja dari realisasi investasi PMDN yang melampaui penyerapan tenaga kerja dari realisasi investasi PMA.”

Capaian investasi pada periode Januari–Juni menyumbang 49,2% terhadap target tahun 2021, yaitu Rp900 triliun. Jika dilihat capaian triwulan II dibandingkan dengan periode yang sama pada tahun sebelumnya, Penanaman modal asing (PMA) tumbuh sebesar 19,6% dan penanaman modal dalam negeri (PMDN) sebesar 12,7%. Capaian PMA di triwulan II meningkat sebesar 4,5% dibandingkan dengan capaian pada triwulan I-2021.

Kontribusi yang cukup signifikan dari PMDN terlihat sebesar Rp106,2 atau 47,6% dari total capaian dengan penyerapan tenaga kerja Indonesia sebanyak 165.684 orang atau 53,1% dari total penyerapan tenaga kerja terjadi. Sektor penyumbang terbesar berasal dari sektor perumahan, kawasan industri dan perkantoran (19,3%), sedangkan untuk lokasi proyek dengan realisasi investasi terbesar (13,1%) berada di Jawa Timur.

Realisasi PMA pada periode yang sama adalah sebesar Rp97,6 triliun atau 50,9% dari total capaian dengan kemampuan penyerapan tenaga kerja Indonesia sebanyak 117.798 orang. Sektor penyumbang realisasi PMA terbesar berasal dari sektor listrik, gas, dan air, yaitu sebesar 21,6%. Lokasi proyek dengan realisasi investasi terbesar berada di Jawa Barat (19,9%). PMA yang menyumbangkan realisasi terbesar berasal dari negara Singapura, yaitu sebesar 28,8%.

*Sumber: <https://www.bkpm.go.id/id/publikasi/detail/berita/pertumbuhan-ekonomi-di-indonesia>*

## **Investasi Dapat Memengaruhi Pertumbuhan Ekonomi**

Investasi merupakan salah satu indikator yang penting bagi pertumbuhan ekonomi. Melalui investasi akan berdampak positif pada proses produksi dalam bisnis yang semakin giat, kemudian juga akan berimbas pada meningkatnya konsumsi rumah tangga. Investasi berperan dalam pemulihan ekonomi dan memiliki korelasi positif terhadap pembangunan infrastruktur negara. Pendapatan nasional atau PDB yang meningkat akan mendukung upaya pembangunan yang akan dilakukan oleh pemerintah.

Investasi juga dapat membantu menumbuhkan iklim bisnis. Semakin banyak penanaman modal yang dilakukan, maka

semakin banyak pula bisnis baru yang bermunculan. Hal ini akan berdampak kepada ketersediaannya lapangan pekerjaan serta penyerapan tenaga kerja, akan mendukung pertumbuhan daya beli, sehingga dapat membantu meningkatkan pertumbuhan ekonomi Indonesia dan mencegah terjadinya penurunan pada triwulan berikutnya.

*Sumber: <https://www.bkpm.go.id/id/publikasi/detail/berita/pertumbuhan-ekonomi-di-indonesia>*

3. Setelah mencermati artikel di atas dengan saksama, berdiskusilah dengan teman dalam kelompok kalian untuk menjawab pertanyaan berikut.
  - a. Berapa persen peningkatan pertumbuhan ekonomi Indonesia kuartal II-2021?
  - b. Apa saja faktor-faktor yang memengaruhi pertumbuhan ekonomi Indonesia kuartal II-2021?
  - c. Berapa target nilai investasi tahun 2021?
  - d. Menteri Investasi/Kepala BKPM, Bahlil Lahadalia, menyatakan bahwa “Besarnya proporsi realisasi investasi PMDN yang hampir menyamai PMA adalah tendensi yang positif bahwa PMDN kita memiliki ketahanan uji terhadap dampak pandemi Covid-19”. Apa maksud dari pernyataan tersebut?
  - e. Berdasarkan teori pertumbuhan ekonomi Indonesia yang telah kalian pahami, apa teori yang paling sesuai untuk menggambarkan kondisi pertumbuhan ekonomi Indonesia kuartal II-2021? Kemukakan alasan kalian!


## Aktivitas 4

### Paradigma Pertumbuhan Ekonomi Endogen Indonesia

#### Petunjuk Pengerjaan

1. Kunjungi tautan di bawah ini atau *scan QR code!*

<http://publication-bi.org/repec/idn/wpaper/WP112018.pdf>



2. Bersama dengan teman kelompok kalian, buatlah ringkasan dari bacaan yang terdapat pada tautan atau *scan barcode* tersebut!
3. Presentasikan ringkasan yang telah kalian buat secara kelompok di depan kelas!

## **B.** Pembangunan Ekonomi



**Gambar 1.2** Pembangunan jalan tol.

*Sumber: Tommy Saputra/ANTARA FOTO (2020)*

Perhatikan gambar pembangunan jalan tol di atas. Mengapa pembangunan jalan tol harus dilakukan? Apa dampak pembangunan jalan tol tersebut bagi perekonomian Indonesia? Pelajarilah bab berikut dengan saksama!

## 1. Konsep Pembangunan Ekonomi

Pembangunan ekonomi adalah proses yang melibatkan berbagai dimensi perubahan seperti perubahan sikap masyarakat, perubahan kelembagaan, perubahan struktural, dan pertumbuhan ekonomi, yang mana proses perubahan tersebut merupakan upaya meningkatkan kualitas hidup. Pembangunan ekonomi antara lain mengacu pada proses peningkatan kesehatan, kesejahteraan, dan akademik secara keseluruhan populasi secara umum. Sederhananya, pembangunan ekonomi adalah tentang meningkatkan standar hidup.

Pengertian pembangunan ekonomi menurut kamus Cambridge sebagai berikut.

*“The process in which an economy grows or changes and becomes more advanced, especially when both economic and social conditions are improved.”*

Artinya, “pembangunan ekonomi adalah proses di mana ekonomi tumbuh atau berubah dan menjadi lebih maju, terutama ketika kondisi ekonomi dan sosial membaik.”

Untuk menambah pemahaman kalian tentang pembangunan ekonomi, kerjakan aktivitas berikut.



## **Aktivitas 5**

# Pembangunan Ekonomi

## **Petunjuk Pengerjaan**

1. Kerjakanlah aktivitas berikut secara berkelompok!
2. Melalui situs atau sumber yang relevan, carilah informasi terbaru tentang PDB, PDB per kapita, angka harapan hidup, serta angka melek huruf Indonesia. Isi tabel berikut ini dengan hasil temuan kalian!

Negara	PDB	PDB per Kapita	Angka Harapan Hidup	Angka Melek Huruf
Amerika Serikat				
Cina				
India				
Indonesia				
Malaysia				

3. Analisis hubungan antara PDB, angka harapan hidup, dan angka melek huruf dengan pembangunan ekonomi berdasarkan tabel di atas!
4. Diskusikan jawaban dengan kelompok kalian!
5. Presentasikan hasil kerja kelompok kalian!

## 2. Perbedaan Pertumbuhan dan Pembangunan Ekonomi

Pertumbuhan ekonomi menghitung peningkatan produksi barang dan jasa pada satu periode tertentu yang diukur berdasarkan PDB. Dengan kata lain, peningkatannya hanya diukur secara kuantitatif saja, tanpa melihat dimensi lain. Sedangkan pembangunan ekonomi adalah proses yang berfokus pada pertumbuhan ekonomi baik kualitatif maupun kuantitatif. Secara kualitatif pembangunan ekonomi antara lain mengukur tingkat kemakmuran, tingkat kesehatan, tingkat pendidikan, dan kemudahan akses rumah yang layak bagi penduduk di suatu negara. Sedangkan secara kuantitatif, pembangunan ekonomi diukur dari peningkatan pendapatan perkapita suatu negara.

Peningkatan standar hidup dalam pembangunan ekonomi dapat dilihat dari berbagai aspek, misalnya ketersediaan sumber air minum utama yang bersih, peningkatan sistem sanitasi, kemudahan akses fasilitas medis, angka melek huruf meningkat, dan peningkatan kesempatan kerja.

## 3. Indikator Pembangunan Ekonomi

Pembangunan ekonomi dikatakan berhasil apabila terjadi peningkatan dari berbagai aspek. Indikator untuk mengukur keberhasilan pembangunan ekonomi sebagai berikut.

### a. Produk domestik bruto (PDB) meningkat

Produk domestik bruto (PDB) diartikan sebagai total produksi di suatu negara pada periode waktu tertentu. Indikator pembangunan ekonomi dikatakan berhasil apabila hasil produksi meningkat, hal tersebut menunjukkan perekonomian berjalan dengan optimal.

### **b. Pendapatan per kapita meningkat**

Meningkatnya pendapatan per kapita mengindikasikan bahwa terjadi pula peningkatan taraf hidup di masyarakat. Pendapatan per kapita merupakan salah satu indikator yang menunjukkan keberhasilan pembangunan ekonomi.

### **c. Indeks kualitas hidup meningkat**

Terdapat tiga indikator indeks kualitas hidup yaitu angka kematian bayi, angka harapan hidup, dan tingkat melek huruf. Apabila ketiga indikator tersebut nilainya tinggi maka pembangunan ekonomi dikatakan berhasil.

### **d. Indeks pembangunan manusia**

Indeks pembangunan manusia (IPM) mengukur kualitas manusia yang diukur melalui beberapa indikator antara lain tingkat pendidikan, kesehatan, dan indeks pengeluaran. Semakin mudah masyarakat dalam mengakses indikator IPM, maka pembangunan ekonomi dapat dikatakan berhasil. Kerjakanlah tugas berikut untuk menambah pemahaman kalian tentang indikator pembangunan ekonomi!



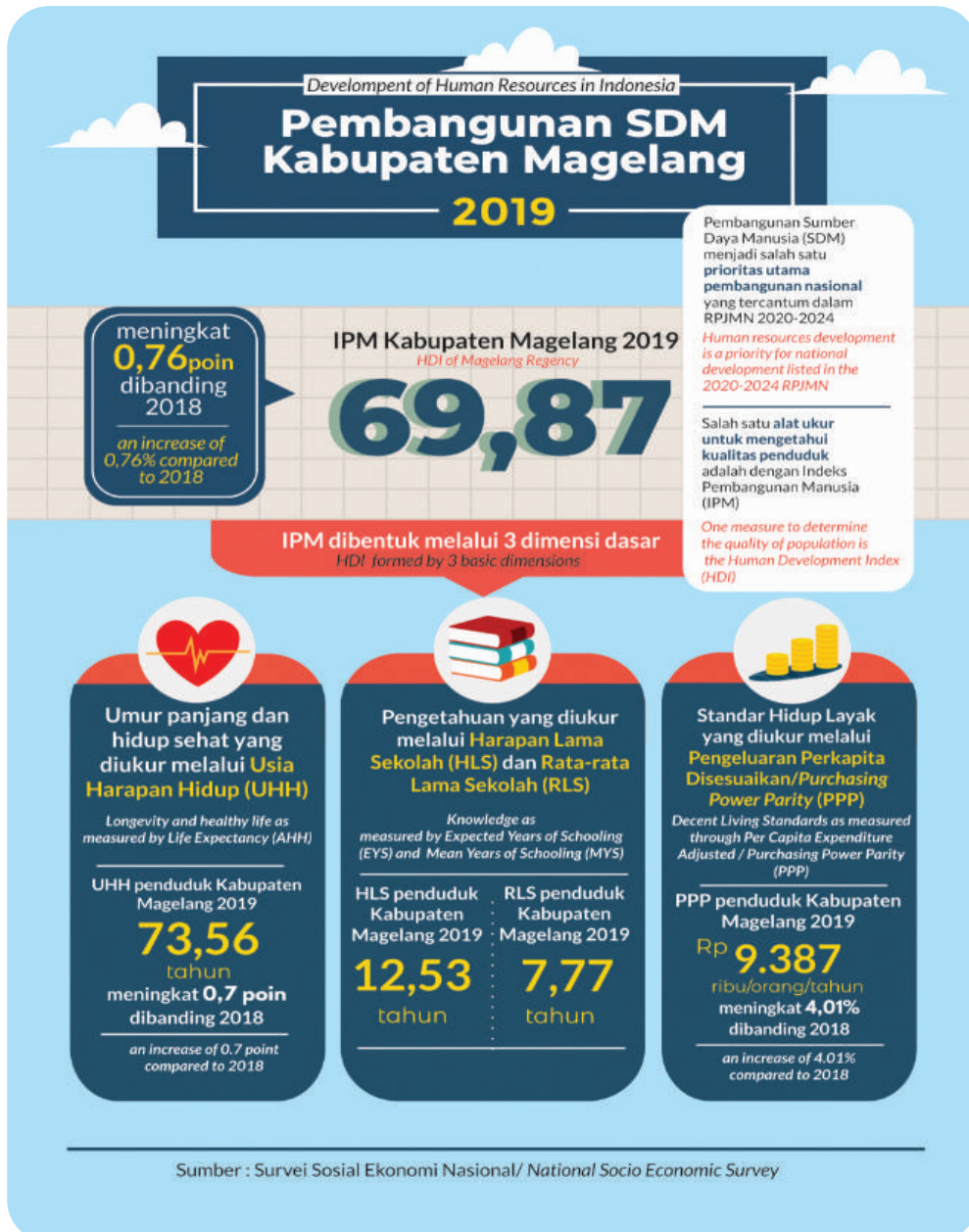
## **Aktivitas 6**

# **Indeks Pembangunan Manusia (IPM)**



## **Petunjuk Pengerjaan**

1. Kerjakanlah aktivitas ini secara berpasangan.
2. Bersama teman kalian, cermati infografis Pembangunan SDM Kabupaten Magelang tahun 2019 yang diterbitkan oleh Badan Pusat Statistik (BPS) berikut.



Sumber: Badan Pusat Statistik Kabupaten Magelang (2019)

3. Setelah mencermati infografis tersebut, kemukakan pendapat kalian dengan memberikan tanda centang pada kolom “Setuju” atau “Tidak Setuju” sesuai dengan pernyataan yang tercantum dalam

tabel. Presentasikan jawaban kalian kepada guru dan teman-teman kalian dengan mengemukakan alasan di balik jawaban tersebut!

Pernyataan	Setuju	Tidak Setuju
Usia harapan hidup, harapan lama sekolah, rata-rata lama sekolah, serta pengeluaran perkapita disesuaikan merupakan indikator yang digunakan untuk mengukur indeks pembangunan manusia di Kabupaten Magelang.	<input type="radio"/>	<input type="radio"/>
Indeks pembangunan manusia (IPM) merupakan satu-satunya alat ukur yang digunakan pemerintah daerah untuk menilai kualitas penduduk Kabupaten Magelang.	<input type="radio"/>	<input type="radio"/>
Berdasarkan indikator harapan lama sekolah (HLS) dan rata-rata lama sekolah (RLS), dapat disimpulkan bahwa sebagian besar penduduk di Kabupaten Magelang pada tahun 2019 tergolong melek huruf.	<input type="radio"/>	<input type="radio"/>
Besarnya pengeluaran perkapita disesuaikan penduduk Kabupaten Magelang tahun 2018 sebesar Rp9.052 ribu per tahun.	<input type="radio"/>	<input type="radio"/>
Angka indeks pembangunan manusia (IPM) Kabupaten Magelang 2019 menggambarkan bahwa penduduk di Kabupaten Magelang berada pada kondisi yang sejahtera.	<input type="radio"/>	<input type="radio"/>

#### 4. Faktor-Faktor yang Memengaruhi Pembangunan Ekonomi

Setiap negara akan selalu melakukan pembangunan ekonomi agar masyarakat negara tersebut mencapai kesejahteraan. Keberhasilan pembangunan ekonomi dipengaruhi berbagai faktor, sebagai berikut.

### **a. Sumber daya alam (SDA)**

Ketersediaan sumber daya alam merupakan salah satu faktor yang menunjang pembangunan ekonomi. Sumber daya alam yang melimpah dan dikelola dengan optimal memungkinkan meningkatkan pertumbuhan ekonomi.

Sumber daya alam merupakan salah satu faktor produksi yang diperlukan dalam meningkatkan pertumbuhan ekonomi. sehingga diperlukan kehati-hatian dalam pengelolaan guna menyeimbangkan permintaan dan penawaran untuk menghindari kelangkaan.

### **b. Investasi**

Peningkatan investasi dalam barang modal seperti pabrik dan mesin akan menurunkan biaya kegiatan ekonomi. Pabrik dan mesin yang lebih baik akan mendorong produktivitas yang lebih tinggi sehingga dapat meningkatkan *output*.

Investasi dapat memengaruhi pertumbuhan iklim bisnis melalui munculnya usaha atau bisnis baru sehingga dapat menciptakan kesempatan kerja yang akan membantu mengurangi pengangguran. Kondisi tersebut memiliki dampak positif pada meningkatnya daya beli masyarakat serta konsumsi rumah tangga, yang pada akhirnya menunjang pembangunan ekonomi.

### **c. Jumlah penduduk**

Penduduk merupakan modal dasar dalam pembangunan ekonomi. Peningkatan jumlah penduduk dapat meningkatkan ketersediaan tenaga kerja. Tenaga kerja yang jumlahnya memadai dan berkualitas dapat mendorong pembangunan ekonomi. Sebaliknya, jumlah penduduk yang banyak namun kurang berkualitas dapat menghambat pertumbuhan ekonomi.

Tenaga kerja merupakan sumber daya manusia yang mempunyai potensi dan peran dalam pembangunan. Oleh sebab itu, peningkatan kualitas sumber daya manusia melalui pendidikan sangat diperlukan. Peningkatan kualitas ini akan menghasilkan peningkatan keterampilan, kemampuan, dan keahlian. Tenaga kerja terampil memiliki pengaruh signifikan terhadap pembangunan karena pekerja yang terampil dapat lebih produktif.



**Gambar 1.3** Pendidikan sebagai upaya peningkatan kualitas sumber daya manusia.

*Sumber : Aisyah Nurjanah (2022)*

#### **d. Teknologi**

Faktor lain yang memengaruhi pembangunan ekonomi adalah teknologi. Dengan jumlah tenaga kerja yang sama, penggunaan teknologi dapat meningkatkan produktivitas sehingga mempercepat pertumbuhan dan pembangunan ekonomi. Dengan teknologi, perusahaan dapat lebih produktif dengan biaya lebih rendah. Teknologi juga berpotensi akan mengarah pada pertumbuhan jangka panjang yang berkelanjutan.



## C. Ekonomi Digital

Teknologi memiliki peran dalam pembangunan ekonomi. Penggunaan teknologi tidak hanya dirasakan pada proses produksi barang, tetapi juga pada produksi jasa dan transaksi ekonomi. Dewasa ini masyarakat lebih sering menggunakan pembayaran digital dalam kesehariannya, terutama di daerah perkotaan. Fenomena ini merupakan salah satu dampak dari berkembangnya ekonomi digital.



**Gambar 1.4** Penggunaan QRIS sebagai kegiatan ekonomi digital.

*Sumber: Aisyah Nurjanah (2022)*

Ekonomi digital adalah kegiatan ekonomi menggunakan teknologi digital atau internet. Ekonomi digital juga dikenal sebagai *new economy*, *web economy*, dan *internet economy*. Adapun kegiatan ekonomi digital di antaranya adalah munculnya *financial technology (fintech)*. *Financial technology* merupakan inovasi teknologi dari perusahaan jasa keuangan untuk meningkatkan berbagai aspek pelayanan keuangan. Keberadaan *fintech* sudah berkembang sangat pesat dalam perekonomian,



mulai dari metode pembayaran, pinjaman, hingga investasi, semuanya dilakukan dengan cepat karena proses digital. Hingga saat ini kehadiran *fintech* menjadi kebutuhan bagi masyarakat. *Fintech* memiliki layanan dan produk jasa keuangan yang bisa dimanfaatkan masyarakat. Di Indonesia, jenis-jenis *fintech* yang berkembang di antaranya sebagai berikut.

### 1. *Crowdfunding*

*Crowdfunding* adalah kegiatan mengumpulkan modal dengan cara penggalangan atau donasi dana melalui lembaga khusus (*website online* atau media sosial) untuk suatu proyek tertentu. Dengan adanya inovasi teknologi ini, masyarakat dapat memberikan donasi untuk kegiatan-kegiatan sosial yang mereka ingin bantu.

### 2. *Microfinancing*

Pada dasarnya layanan *microfinancing* hadir untuk memberikan bantuan modal bagi masyarakat atau pengusaha mikro yang membutuhkan. Layanan ini menjembatani kebutuhan masyarakat yang kesulitan untuk mendapatkan pinjaman modal dari industri perbankan. Dengan regulasi yang lebih mudah, perusahaan *microfinancing* akan menghubungkan pengusaha mikro dengan pemilik modal secara digital (*online*).

### 3. *Peer to Peer Lending*

*Peer to Peer Lending* (*P2P Lending*) adalah layanan pinjam meminjam dana bagi individu/usaha yang membutuhkan dana dalam rangka memenuhi kebutuhannya. *P2P lending* atau yang lebih dikenal dengan pinjaman *online* memiliki sistem yang mudah dan cepat sehingga masyarakat tertarik untuk menggunakannya.

Berkembangnya *fintech* dan inovasi lainnya dalam ekonomi digital membantu meningkatkan pertumbuhan ekonomi. Perkembangan *Fintech* selain memberikan dampak positif juga memberikan beberapa dampak negatif, oleh karena itu keberadaan *fintech* senantiasa diawasi oleh Otoritas Jasa Keuangan (OJK) agar masyarakat atau konsumen dapat terlindungi.

## Aktivitas 7

### **Ekonomi Digital Indonesia Berpotensi Tumbuh Hingga Delapan Kali Lipat di 2030**

**Jakarta, Kominfo** - Ekonomi digital Indonesia memiliki prospek yang sangat baik dan akan terus tumbuh berkali lipat. Di tahun 2020 lalu, ekonomi digital berkontribusi terhadap empat persen *gross domestic product* (GDP). Sementara pada 2030 mendatang pertumbuhan GDP Indonesia akan tumbuh dari Rp15.400 triliun menjadi Rp24.000 triliun di mana ekonomi digital kita diyakini juga akan tumbuh hingga delapan kali lipat dari saat ini yang berada pada angka Rp632 triliun menjadi Rp4.531 triliun.

Hal itu disampaikan Menteri Perdagangan, Muhammad Lutfi, yang memberikan keterangan pers bersama Menteri Koperasi dan UKM, Teten Masduki, serta Ketua Dewan Komisioner Otoritas Jasa Keuangan, Wimboh Santoso, selepas mengikuti rapat terbatas yang dipimpin langsung oleh Presiden Joko Widodo, di kantor presiden, Jakarta, Kamis (10/06/2021).

“Di Rp4.531 triliun tersebut *e-commerce* akan memerankan peranan yang sangat besar, yaitu 34 persen atau setara Rp1.900 triliun, kemudian diikuti oleh beberapa hal yang sangat penting yaitu *B2B* dengan besaran 13 persen atau setara Rp763 triliun, dan *health tech* akan menjadi Rp471,6 triliun atau 8 persen dari pertumbuhan,” ucapnya.

Lutfi melanjutkan, pelaku perdagangan elektronik Indonesia memiliki *level playing field* yang sangat besar, mulai dari *online travel*, *online media*, *ride hailing*, hingga *financial technology*.

Meski demikian, terdapat beberapa hal yang mesti diperbaiki untuk dapat meningkatkan pertumbuhan ekonomi digital di tanah air. Beberapa di antaranya ialah infrastruktur telekomunikasi, perlindungan konsumen di era digital, sumber daya manusia yang memiliki keahlian khusus di bidang teknologi, hingga mengembangkan ekosistem digital itu sendiri.

Potensi ekonomi digital juga harus terus diperluas ke dalam sejumlah sektor industri di tanah air. Apabila hal itu dilakukan, maka ekonomi digital dapat terus tumbuh sesuai dengan yang diharapkan ke depannya.

“Kita juga sadar bahwa meski ekonomi digital kita empat persen (4%) pada hari ini, tetapi jumlah partisipasi, contohnya dalam industri makanan dan minuman, hari ini kita mempunyai besaran Rp3.669 triliun, dilayani oleh ekonomi digital baru Rp18 triliun,” ujar Lutfi.

Lutfi berujar, di masa yang akan datang, hilirisasi dari ekonomi digital ini akan bertumpu pada teknologi 5G, rantai blok (*blockchain*), kecerdasan buatan (*artificial intelligence*), dan komputasi awan (*cloud computing*).

“Kita berharap ekonomi digital ini akan memperbaiki pertumbuhan Indonesia paling tidak dalam sektor logistik dan industri. Kalau kita lihat bahwa target sektor logistik kita yang akan tumbuh dari 23 persen ongkos pada hari ini menjadi 17 persen, dengan adanya ekonomi digital ini perbaikan pada logistiknya akan jauh lebih baik,” tandasnya.

*Sumber: <https://www.kominfo.go.id/content/detail/34996/ekonomi-digital-indonesia-berpotensi-tumbuh-hingga-delapan-kali-lipat-di-2030/0/berita> (Diakses pada 8 oktober 2022)*

Berdasarkan artikel di atas jawablah pertanyaan berikut.

Manakah pernyataan berikut yang sesuai dengan isi wacana yang berjudul “Ekonomi Digital Indonesia Berpotensi Tumbuh Hingga Delapan Kali Lipat di 2030”? Berilah tanda centang (✓) pada kolom “Sesuai” jika sesuai dan pada kolom “Tidak Sesuai” jika pernyataan tidak sesuai!

No.	Pernyataan	Sesuai	Tidak sesuai
1.	Infrastruktur telekomunikasi merupakan satu-satunya yang perlu diperbaiki untuk meningkatkan ekonomi digital.	<input type="radio"/>	<input type="radio"/>
2.	Perdagangan elektronik berkontribusi paling besar pada peningkatan ekonomi digital.	<input type="radio"/>	<input type="radio"/>
3.	Pada tahun 2030 ekonomi Indonesia akan tumbuh sebesar 55,8%.	<input type="radio"/>	<input type="radio"/>
4.	Ekonomi digital dapat memperbaiki pertumbuhan ekonomi di sektor industri.	<input type="radio"/>	<input type="radio"/>

Uraikan langkah yang perlu dilakukan untuk melindungi konsumen dalam melakukan transaksi *fintech*! Analisis hubungan antara berkembangnya ekonomi digital dengan pertumbuhan ekonomi!

## Aktivitas 8

### Edukasi *Fintech*

1. Kerjakanlah aktivitas ini secara berkelompok!
2. Buatlah poster digital atau *paper based* dengan tema berikut.
  - a. Informasi *peer to peer lending*/pinjaman *online* ilegal.
  - b. Langkah menghindari pinjaman *online* ilegal.
  - c. Layanan aduan dari OJK.
3. Sebarlah poster yang telah kalian buat di lingkungan sekolah dan rumah melalui media sosial atau media yang terdapat di lingkungan kalian!
4. Peserta didik boleh mencari informasi dari media internet!
5. Peserta didik dapat mengunjungi tautan di bawah ini atau *scan QR code* untuk melihat contoh poster!

PINJAMAN ONLINE ID (ojk.go.id)

[https://www.ojk.go.id/id/berita-dan-kegiatan/info-terkini/Documents/Pages/Infografis-OJK-Bersama-Kementerian-atau-Lembaga-Terkait-Berkomitmen-Berantas-Pinjol-Ilegal/OJK BERSAMA KEMENTERIAN ATAU LEMBAGA TERKAIT BERKOMITMEN BERANTAS PINJOL ILEGAL.pdf](https://www.ojk.go.id/id/berita-dan-kegiatan/info-terkini/Documents/Pages/Infografis-OJK-Bersama-Kementerian-atau-Lembaga-Terkait-Berkomitmen-Berantas-Pinjol-Ilegal/OJK%20BERSAMA%20KEMENTERIAN%20ATAU%20LEMBAGA%20TERKAIT%20BERKOMITMEN%20BERANTAS%20PINJOL%20ILEGAL.pdf)





### I. Bentuk soal AKM

Pilihlah jawaban yang tepat!

1. Diketahui produk nasional bruto negara “X” (milyar dolar)

Tahun	Produk Nasional Bruto
2015	48.860
2016	52.173
2017	55.540
2018	65.925
2019	80.785

Dari data di atas laju pertumbuhan ekonomi tahun 2019 adalah ...

- A. 122,54%
  - B. 81,60%
  - C. 60,66%
  - D. 22,54%
  - E. 18,39%
2. Pada tahun 2018 negara maju mengalami peningkatan produksi barang dan jasa. Negara sejahtera pada tahun yang sama mengalami perbaikan kesejahteraan bagi masyarakat golongan ekonomi rendah.

Kesimpulan dari pernyataan di atas adalah ....

- A. negara maju mengalami pembangunan sedangkan negara sejahtera mengalami pertumbuhan
- B. negara maju mengalami pertumbuhan sedangkan negara sejahtera mengalami pembangunan
- C. negara maju dan negara sejahtera mengalami pembangunan

- D. negara maju dan negara sejahtera mengalami pertumbuhan
  - E. baik negara maju maupun negara sejahtera tidak mengalami pertumbuhan maupun pembangunan
3. Menilik kondisi negara berkembang, pertambahan dalam arus uang lebih cepat menimbulkan kenaikan harga daripada kenaikan *output*/hasil produksi. hal ini disebabkan oleh ....
- A. masalah keuangan
  - B. kurang meratanya uang yang beredar
  - C. kenaikan harga secara umum
  - D. kesulitan struktural di bidang ekonomi
  - E. pengangguran tinggi
4. Tiga masalah utama pembangunan ekonomi di negara berkembang, berkaitan dengan ....
- A. kemiskinan, kebodohan, dan keterbelakangan
  - B. pengangguran, kemiskinan, dan ketimpangan dalam distribusi pendapatan
  - C. kemiskinan, kebodohan, dan pengangguran
  - D. kemiskinan, ketimpangan pendapatan, dan rusaknya lingkungan hidup
  - E. kemiskinan, rendahnya produktivitas, dan kebodohan
5. Pada dasarnya investasi merupakan hal yang dinamis, sehingga investasi tergantung dari faktor-faktor yang sifatnya juga dinamis. Berikut ini adalah faktor yang bukan termasuk faktor dinamis adalah ....
- A. perkembangan teknik
  - B. pembentukan modal
  - C. iklim usaha
  - D. pertambahan penduduk
  - E. penambahan harga

6. Kenaikan PDB tanpa memperhatikan apakah kenaikan itu lebih besar atau lebih kecil dari pertumbuhan penduduk adalah ....
- A. perkembangan ekonomi
  - B. pertumbuhan ekonomi
  - C. pembangunan ekonomi
  - D. pendapatan ekonomi
  - E. pendapatan nasional
7. Diketahui pendapatan domestik bruto (PDB) negara X pada tahun 2022 sebesar Rp230 triliun. Sementara itu, PDB negara X pada tahun 2023 sebesar Rp250 triliun. Berdasarkan data tersebut pertumbuhan ekonomi negara A pada tahun 2015 sebesar....
- A. 6,48%
  - B. 6,89%
  - C. 8,48%
  - D. 8,69%
  - E. 9,69%
8. Salah satu indikator keberhasilan pembangunan ekonomi adalah peningkatan pendapatan nasional. Adapun indikator keberhasilan pembangunan ekonomi lainnya adalah ....
- A. peningkatan PDB tanpa diikuti peningkatan jumlah penduduk
  - B. peningkatan kualitas hidup masyarakat dari berbagai aspek
  - C. kesenjangan ekonomi pada masyarakat dengan kemampuan ekonomi yang berbeda
  - D. peningkatan pendapatan per kapita dari setiap tahun
  - E. peningkatan pendapatan tiap rumah tangga setiap tahun
9. Nilai konsumsi rumah tangga negara A tahun 2022 sebesar Rp21,13 triliun sedangkan tahun 2023 sebesar Rp20,78 triliun. Berdasarkan pernyataan tersebut pertumbuhan ekonomi negara A cenderung ....
- A. stabil
  - B. meningkat
  - C. tetap



- D. menurun
  - E. maju
10. Berikut yang bukan merupakan faktor yang memengaruhi pertumbuhan ekonomi menurut teori pertumbuhan ekonomi klasik adalah ....
- A. jumlah penduduk
  - B. persediaan barang-barang modal
  - C. investasi karena kebutuhan modal
  - D. luas tanah dan kekayaan alam
  - E. penerapan teknologi

## II. Pilihan Ganda Komplek

Pilihlah tiga (3) jawaban yang tepat dengan cara memberikan tanda centang (✓)!

11. Berikut faktor non ekonomi yang mempengaruhi keberhasilan ekonomi.
- sumber daya alam
  - sumber daya manusia
  - kondisi sosial masyarakat
  - birokrasi yang terintegrasi
  - etos kerja masyarakat dan pemerintah
12. Berikut ini kunci pertumbuhan ekonomi.
- akumulasi modal yang memadai
  - pertumbuhan penduduk atau angkatan kerja
  - perluasan dari hasil-hasil produksi
  - sistem pembagian kerja rasionalisasi
13. Berikut yang termasuk ke dalam pembangunan ekonomi.
- peningkatan kualitas produksi
  - kenaikan kuantitas produksi

- adanya perubahan struktur ekonomi
- menaikkan GNP

14. Berikut yang mempengaruhi pertumbuhan *output* total menurut teori pertumbuhan Adam Smith.

- sumber daya alam
- perkembangan penduduk
- jumlah persediaan barang modal
- kemajuan teknologi

15. Berikut ini merupakan dampak adanya pengangguran.

- menimbulkan ketidakstabilan sosial dan politik
- meningkatkan harga barang
- menurunkannya pendapatan nasional
- ketimpangan jumlah penduduk

16. Berikut ini ciri umum pertumbuhan ekonomi dan pembangunan suatu negara maju.

- berorientasi ekspor
- produsen barang-barang primer
- tersedia modal dan tenaga ahli
- berorientasi pada perdagangan bahan mentah
- merupakan penghasil barang-barang jadi dan barang-barang modal

17. Berikut ini asumsi teori Harrod-Domar.

- perekonomian dalam keadaan *full employment*
- perekonomian terdiri dari tiga sektor
- besar tabungan masyarakat proporsional dengan pendapatan nasional
- kecenderungan untuk menabung tidak tetap
- barang-barang modal dalam masyarakat digunakan penuh

18. Berikut ini konsep paradigma pertumbuhan endogen.

- penguasaan teknologi untuk mendukung pengembangan ekonomi kreatif
- pentingnya penguatan kualitas sumber daya manusia
- pengembangan inovasi diperkuat melalui pendekatan non-tradisional
- peningkatan kualitas sumber daya manusia tidak dipengaruhi aspek *values* dan religius
- tidak diperlukan penciptaan sumber baru pertumbuhan ekonomi

19. Berikut ini teori Schumpeter terkait pengembangan ekonomi.

- inovasi dapat meningkatkan *output* bagi pembangunan ekonomi
- kunci utama perkembangan ekonomi adalah pemerintah
- pertumbuhan ekonomi meningkat tanpa adanya perubahan teknologi
- pengusaha dapat meningkatkan standar hidup masyarakat

20. Berikut ini ciri pertumbuhan ekonomi.

- kondisi sosial budaya yang membaik
- jumlah produksi barang dan jasa meningkat
- usaha untuk meningkatkan pendapatan perkapita
- upaya meningkatkan jumlah pasar untuk mengembangkan kegiatan ekonomi

### III. Kategori Benar-Salah

Berikan centang (✓) pada jawaban "Benar" atau "Salah"!

No	Pertanyaan	Kategori	
		Benar	Salah
21.	Keberhasilan pertumbuhan ekonomi diukur melalui meningkatnya pendapatan nasional.	<input type="radio"/>	<input type="radio"/>
22.	Peningkatan kesenjangan GDP yang positif terkait dengan peningkatan tingkat pengangguran.	<input type="radio"/>	<input type="radio"/>
23.	Pertumbuhan ekonomi terlihat dengan adanya peningkatan produksi barang dan jasa, peningkatan GNP, dan pendapatan per kapita.	<input type="radio"/>	<input type="radio"/>
24.	Pembangunan ekonomi dan peningkatan kesejahteraan rakyat dapat terlaksana dengan cepat, harus diiringi dengan pertumbuhan jumlah penduduk yang besar.	<input type="radio"/>	<input type="radio"/>
25.	Pembangunan ekonomi terlihat dengan adanya efisiensi penggunaan sumber-sumber ekonomi, penyediaan lapangan kerja, dan berkurangnya kemiskinan absolut.	<input type="radio"/>	<input type="radio"/>

No	Pertanyaan	Kategori	
		Benar	Salah
26.	<i>Microfinancing merupakan salah satu finansial teknologi yang dapat mendorong pertumbuhan ekonomi.</i>	<input type="radio"/>	<input type="radio"/>
27.	Ekonomi digital dapat meningkatkan pembangunan ekonomi hanya pada aspek ekonomi dan sosial.	<input type="radio"/>	<input type="radio"/>
28.	Bantuan teknologi pada penerapan ekonomi digital dapat meningkatkan penyerapan tenaga kerja sehingga membantu mengatasi masalah pengangguran.	<input type="radio"/>	<input type="radio"/>
29.	Kemudahan regulasi dalam berinvestasi dapat mendorong pertumbuhan ekonomi.	<input type="radio"/>	<input type="radio"/>
30.	Pembangunan ekonomi dikatakan berhasil apabila tingkat melek huruf, angka harapan hidup tinggi, dan angka kelahiran sangat tinggi.	<input type="radio"/>	<input type="radio"/>

## IV. Uraian

Jawablah pertanyaan berikut dengan tepat!

1. Mengapa setiap negara perlu untuk menghitung laju pertumbuhan ekonominya dari tahun ke tahun?
2. Buatlah analisis hubungan pendidikan dengan peningkatan pertumbuhan ekonomi!
3. Pada tahun 2023, Pendapatan Domestik Bruto (PDB) Negara Bahagia sebesar Rp700 triliun. Nilai PDB Negara Bahagia tahun 2022 Rp600

triliun. Berdasarkan data tersebut hitunglah laju pertumbuhan ekonomi Negara Bahagia!

4. Jumlah penduduk yang tinggi merupakan modal bagi suatu negara untuk meningkatkan pembangunan ekonomi, namun di sisi lain tingginya jumlah penduduk menjadi penghambat pertumbuhan ekonomi. Buatlah analisis mengapa hal tersebut dapat terjadi!
5. Buatlah analisis dampak perkembangan ekonomi digital pada pertumbuhan ekonomi!

### Refleksi

Kalian telah belajar tentang pertumbuhan ekonomi dan pembangunan ekonomi. Manfaat apa yang kalian dapatkan setelah mempelajari bab ini? Apa peran yang dapat kalian lakukan untuk meningkatkan pembangunan ekonomi dan pertumbuhan ekonomi Indonesia?

### Pengayaan

### Petunjuk Pengerjaan

Bacalah artikel UMKM *Go-Digital* dan *Go-Legal* dengan mengunjungi tautan di bawah ini atau *scan QR code*.

<https://www.ekon.go.id/publikasi/detail/3016/optimalisasi-produktivitas-umkm-melalui-go-digital-dan-go-legal>



**KEMENTERIAN PENDIDIKAN, KEBUDAYAAN, RISET, DAN TEKNOLOGI  
REPUBLIK INDONESIA, 2022**

Buku Siswa Ekonomi untuk SMA/MA Kelas XII

Penulis: Aisyah Nurjanah dan Yeni Fitriani

ISBN 978-602-427-972-1 (jil.2)



## **BAB 2**

# **Ekonomi Internasional**

Pada bab ini, kalian akan mempelajari kegiatan ekonomi internasional. Setelah mempelajari bab ini, kalian mampu memahami berbagai konsep mengenai kegiatan ekonomi internasional dan dampaknya terhadap perekonomian suatu negara serta menyajikan hasil analisis atau penelitian sederhana mengenai permasalahan dalam kegiatan ekonomi internasional.

## Ekonomi Internasional







## Pertanyaan Pemantik

Pernahkan kalian membeli barang di *e-commerce* dan barang tersebut dikirim dari luar negeri? Mengapa kalian membeli barang tersebut dari luar negeri? Apakah kalian menyadari bahwa kalian sudah berperan dalam kegiatan perdagangan internasional?



## Kata Kunci

Perdagangan internasional, ekspor, impor, tarif, kuota, dumping, neraca pembayaran, transaksi debit, transaksi kredit, kerja sama internasional, bilateral, multilateral.




## Apersepsi

Pada bab sebelumnya, kalian sudah mempelajari materi pertumbuhan dan pembangunan ekonomi. Masih ingatkah kalian apa itu pertumbuhan ekonomi? Bagaimana menghitung pertumbuhan ekonomi suatu negara? Faktor apa saja yang dapat memengaruhi pertumbuhan ekonomi suatu negara?

Setelah kalian mempelajari materi pertumbuhan dan pembangunan ekonomi, materi selanjutnya yang akan kalian pelajari adalah tentang ekonomi internasional, meliputi kebijakan perdagangan internasional, neraca pembayaran, dan kerja sama internasional. Tahukah kalian apa itu perdagangan internasional? Mengapa negara harus terlibat dalam kegiatan perdagangan internasional? Lalu bagaimana hubungan pertumbuhan ekonomi dan kegiatan perdagangan internasional?

Sejumlah informasi yang tidak termuat dalam materi, dapat kalian telusuri dari sumber lainnya yang relevan, misalnya dari buku lain, jurnal ilmiah, maupun situs internet yang terpercaya.

## A. Konsep dan Manfaat Perdagangan Internasional



**Gambar 2.1** Ponsel merupakan salah satu contoh barang yang diperdagangkan di kegiatan perdagangan internasional.

*Sumber:* Yeni Fitriani/  
Kemendikbudristek (2022)

Apakah kalian memiliki telepon seluler atau lebih dikenal dengan ponsel (*handphone*)? Coba amati ponsel yang kalian miliki! Apakah ponsel yang kalian miliki diproduksi di dalam negeri? Dimanakah ponsel yang kalian miliki tersebut diproduksi?

Jika ponsel yang kalian miliki tidak bisa diproduksi di dalam negeri, bagaimana caranya agar kita tetap bisa membeli atau memperoleh ponsel tersebut? Apa yang akan terjadi apabila suatu negara tidak dapat menyediakan barang yang dibutuhkan oleh masyarakatnya? Kegiatan perdagangan internasional adalah salah satu solusinya.

Untuk memahami konsep perdagangan internasional, kerjakanlah aktivitas berikut!

## **Aktivitas 1**

### **Pengamatan Individu**

#### **Petunjuk Pengerjaan**

1. Kerjakan aktivitas berikut secara mandiri!
2. Amati berbagai barang yang kalian miliki kemudian tuliskan nama negara yang menghasilkan barang tersebut!
3. Apabila tidak ada barang yang kalian miliki dari negara lain, silakan untuk mencari tahu informasi tentang nama produk yang dihasilkan oleh negara lain, minimal 10 barang dari 3 negara yang berbeda!
4. Isikan hasil penemuan kalian pada tabel dibawah ini!

**Tabel 2.1 Barang Produksi Negara Lain**

<b>Barang Produksi Negara Lain</b>	
Contoh: Barang Elektronik dari Jepang	
1. ....	6. ....
2. ....	7. ....
3. ....	8. ....
4. ....	9. ....
5. ....	10. ....

### Jawablah pertanyaan-pertanyaan berikut dengan tepat!

1. Uraikan bagaimana cara kalian melakukan pengamatan tersebut!
2. Apakah kalian menemukan kesulitan untuk mendata barang-barang tersebut?
3. Apakah barang yang kalian temukan kebanyakan berasal dari negara lain? Kenapa barang tersebut tidak bisa dihasilkan di dalam negeri?

---

Secara teori, perdagangan internasional merupakan kegiatan untuk tukar menukar barang dan jasa yang melibatkan dua negara atau lebih dengan tujuan mencari keuntungan. Perdagangan internasional disebut juga sebagai perdagangan yang dilakukan oleh penduduk suatu negara dengan penduduk negara lain. Penduduk yang dimaksud bisa berupa antar individu, antara individu dengan pemerintah suatu negara, maupun pemerintah antarnegara. Adapun yang dimaksud pihak individu disini adalah bukan individu perorangan, tetapi warga negara pemilik perusahaan, lembaga pemerintahan atau suatu organisasi dagang lainnya.

Perdagangan internasional memungkinkan bagi setiap negara untuk memperluas pasar dan membuka akses mendapatkan suatu barang yang tidak bisa dihasilkan di dalam negeri. Perdagangan internasional merupakan hal yang penting bagi perekonomian suatu negara dan menjadi salah satu faktor utama untuk meningkatkan pertumbuhan ekonomi. Terdapat dua kegiatan utama dalam perdagangan internasional yaitu ekspor dan impor.

Ekspor merupakan kegiatan menjual barang dan jasa dari dalam negeri ke luar negeri. Istilah ekspor juga merujuk pada kegiatan menjual produk ke pasar global.



**Gambar 2.2** Contoh barang yang diekspor dari Indonesia.

*Sumber: PPEI Kementerian Perdagangan (2022)*

Impor merupakan kegiatan membeli barang dari negara lain atau membeli barang atau jasa dari pasar global.

Ketika suatu negara menjalin perdagangan internasional dengan negara lain, ada banyak manfaat yang dapat dirasakan oleh kedua belah pihak. Beberapa manfaat yang dapat diperoleh dari kegiatan perdagangan internasional, sebagai berikut.

1. Terjalinnnya persahabatan antarnegara.
2. Bertambahnya pendapatan negara salah satunya melalui adanya penerapan bea impor, pajak pertambahan nilai untuk barang mewah (PPnBM), dan cukai.
3. Terpenuhinya kebutuhan barang atau sumber daya yang tidak dapat dihasilkan di dalam negeri.
4. Bertambahnya pangsa pasar sehingga menambah keuntungan yang diperoleh.

5. Bertambahnya ketersediaan jumlah barang.
6. Terjadinya pertukaran penggunaan teknologi sehingga mempercepat pertumbuhan ekonomi.
7. Terbukanya lapangan pekerjaan baru atau memperluas kesempatan kerja.
8. Meningkatnya kualitas produksi.

## **B. Faktor Pendorong dan Penghambat dalam Perdagangan Internasional**

Dewasa ini, semakin banyak negara yang terlibat dalam perdagangan internasional. Beberapa faktor pendorong suatu negara terlibat di dalam kegiatan perdagangan internasional, sebagai berikut.

1. Adanya perbedaan sumber daya alam maupun sumber daya manusia sehingga menyebabkan hasil produksi yang berbeda.
2. Adanya perbedaan kemampuan penguasaan teknologi dalam mengolah sumber daya alam.
3. Perbedaan biaya produksi. Adanya perbedaan biaya produksi akan memengaruhi harga jual suatu barang. Apabila suatu negara bisa menekan biaya produksi, maka harga barang yang dijual bisa lebih murah. Sehingga ketika suatu negara tidak bisa menekan biaya produksinya, maka negara tersebut lebih baik untuk membelinya dari negara lain.
4. Selera masyarakat. Sebagian masyarakat memiliki selera atau ketertarikan terhadap barang impor, hal tersebut antara lain disebabkan barang yang dihasilkan di luar negeri lebih unik dan kualitasnya lebih bagus.
5. Keinginan untuk memenuhi kebutuhan di dalam negeri, karena tidak semua barang bisa dihasilkan di dalam negeri. Ketika suatu negara tidak bisa memproduksi suatu barang atau jumlah barang yang diproduksi lebih sedikit dibandingkan kebutuhan masyarakatnya, maka untuk memenuhi kebutuhan tersebut melalui impor.

6. Keinginan untuk memperoleh pendapatan dan meningkatkan keuntungan. Hal ini bisa menjadi peluang bagi perusahaan atau masyarakat yang bisa menjual barangnya ke luar negeri, dengan demikian akan diperoleh keuntungan dari kegiatan perdagangan internasional.
7. Adanya kelebihan produk yang dihasilkan di dalam negeri sehingga perlu dijual ke negara lain.
8. Adanya era globalisasi sehingga tidak ada satu negara yang bisa hidup sendiri.

Selain faktor pendorong, terdapat juga beberapa faktor yang dapat menghambat kegiatan perdagangan internasional, yaitu:

1. kebijakan proteksi,
2. tidak stabilnya kurs mata uang asing,
3. kondisi geopolitik suatu negara,
4. perbedaan kebijakan dalam sistem pembayaran,
5. rendahnya kualitas sumber daya alam dan sumber daya manusia.

### **Ayo Cari Tahu**

Tahukah kalian mengapa kondisi geopolitik suatu negara bisa menghambat kegiatan perdagangan internasional? Carilah jawabannya dari sumber yang relevan!

## Aktivitas 2

# Pendorong dan Penghambat Perdagangan Internasional

## I. Kerjakan tugas berikut!

### Petunjuk Pengerjaan

1. Kerjakan aktivitas berikut ini secara berkelompok!
2. Baca artikel berikut ini dengan saksama!
3. Setelah membaca artikel, kerjakan soal-soal di bawah!
4. Presentasikan hasil diskusi kelompok kalian di depan kelas!

### Artikel Perdagangan Internasional

## Ketergantungan Dunia pada Nikel Indonesia itu Nyata!

NEWS - Wilda Asmarini, CNBC Indonesia

20 Agustus 2021 10:25

**Jakarta, CNBC Indonesia** - Indonesia patut bersyukur karena dilimpahi sejumlah sumber daya energi dan tambang, termasuk nikel. Bahkan, “harta karun” nikel Indonesia merupakan terbesar dibandingkan negara lainnya. Indonesia memiliki cadangan nikel sebesar 72 juta ton Ni (nikel).

Jumlah cadangan tersebut merupakan 52% dari total cadangan nikel dunia yang mencapai 139.419.000 ton Ni.



Data tersebut berdasarkan data Kementerian Energi dan Sumber Daya Mineral (ESDM) 2020 dalam *booklet* bertajuk “Peluang Investasi Nikel Indonesia” yang merupakan hasil olahan data dari USGS Januari 2020 dan Badan Geologi 2019.

Besarnya cadangan nikel di Tanah Air ini menjadi salah satu pemicu banyak pihak luar melirik nikel Indonesia, termasuk untuk berinvestasi di Indonesia.

Begitu pun dari sisi harga, harga nikel ke depannya dinilai akan sangat bergantung pada Indonesia. Pasalnya, fluktuasi harga akan bergantung pada suplai dan permintaan. Meskipun harga nikel dalam sepekan ini mengalami penurunan, namun rata-rata masih berada di sekitar US\$ 19.000 per ton.

Steven Brown, konsultan independen di industri pertambangan, mengatakan permintaan nikel dunia ke depannya diperkirakan meningkat karena adanya transisi ke energi baru terbarukan (EBT) seperti peningkatan permintaan kendaraan listrik dan pembangkit listrik energi baru terbarukan yang membutuhkan bahan baku nikel.

Sementara dari sisi pasokan, peningkatan produksi nikel dunia hanya terjadi di Indonesia. Sedangkan pasokan dari luar Indonesia mengalami tren penurunan.

Oleh karena itu, tak ayal bila pasokan nikel dunia mengandalkan pasokan dari Indonesia.

“Ada banyak *forecast* terkait harga, saya rasa nggak akan naik terlalu jauh dari saat ini karena masih bergantung *supply* dan *demand*. Yang jelas *demand* pasti akan meningkat jauh karena ada mobil listrik dan sebagainya, tapi tampaknya suplai juga seimbang kalau dilihat terutama dari perkembangan di Indonesia. Suplai bisa

*keep up* dengan *demand*. Tapi itu semua tergantung dari Indonesia,” jelasnya kepada CNBC Indonesia, Kamis (19/08/2021).

“Jadi di luar Indonesia sama sekali gak *keep up* dengan *demand*. Jadi ini semua sangat bergantung pada satu negara (Indonesia),” ujarnya.

Dia menjelaskan, dunia kini bergantung pada pasokan nikel Indonesia karena sejumlah proyek smelter nikel yang tengah dibangun, terutama menggunakan teknologi *high pressure acid leaching* (HPAL) yang telah diumumkan, terdapat di Indonesia

Adapun produk dari smelter HPAL ini bisa berupa *mix sulphide precipitate* (MSP) maupun *mix hydroxide precipitate* (MHP) yang kemudian bisa diolah menjadi *nickel sulphate* yang bisa menjadi komponen baterai lithium.

Dia mengatakan, pada semester I-2021, pasokan nikel hanya bertumbuh di Indonesia, yakni meningkat 320 ribu ton atau naik 140% secara tahunan (*year on year*) dibandingkan periode yang sama 2020. Jumlah tersebut belum termasuk dari produksi nikel PT Vale Indonesia.

Sementara di luar Indonesia secara global, pasokan nikel justru menurun 265 ribu ton atau turun 26% dibandingkan periode semester I-2020.

Ini menunjukkan pasokan nikel dunia hanya meningkat dari Indonesia, sehingga tak ayal bila pasokan nikel dunia bergantung pada Indonesia.

“Luar biasa memang. Total produksi nikel meningkat hanya karena Indonesia,” ujarnya.

Dia mengatakan, peningkatan pasokan nikel ini terutama dari smelter di sejumlah kawasan industri nikel seperti di Morowali,

Sulawesi Tengah ada PT Indonesia Morowali Industrial Park (IMIP), lalu Weda Bay, Halmahera Tengah, Maluku Utara ada PT Indonesia Weda Bay Industrial Park (IWIP), Pulau Obi, Halmahera Selatan, Maluku Utara ada Harita Group, serta di Konawe, Sulawesi Tenggara terdapat PT Virtue Dragon Nickel Industry (VDNI).

Steven mengatakan, banyak pihak luar berminat untuk memperoleh maupun berinvestasi untuk proyek nikel di Indonesia karena selain besarnya cadangan bijih nikel di Indonesia, kualitas dan ongkos produksi nikel di Tanah Air jauh lebih murah dibandingkan di luar negeri.

Sementara di luar negeri, produksi bijih nikel kini lebih sulit karena perlu menggali lebih dalam, jumlahnya tak sebanyak di Indonesia, dan ongkosnya lebih mahal.

**Sumber:**

<https://www.cnbcindonesia.com/news/20210820095020-4-269844/ketergantungan-dunia-pada-nikel-indonesia-itu-nyata>  
(diakses pada Tanggal 14 Agustus 2022 Pukul 11.00 WIB).

Berdasarkan artikel di atas, berilah tanda centang (✓) jawaban yang dianggap benar (B) atau salah (S) pada kolom yang telah disediakan!

No	Pernyataan	B	S
1.	Indonesia memiliki cadangan nikel sebesar 72 juta ton Ni (nikel) dan merupakan yang terbesar dibandingkan dengan negara lain.	<input type="radio"/>	<input type="radio"/>
2.	Besarnya cadangan nikel di Indonesia, menjadi faktor utama bagi pihak luar untuk investasi di Indonesia.	<input type="radio"/>	<input type="radio"/>
3.	Adanya peningkatan permintaan nikel karena diakibatkan adanya transisi ke energi baru terbarukan (EBT) seperti permintaan kendaraan listrik dan pembangkit listrik energi baru.	<input type="radio"/>	<input type="radio"/>

No	Pernyataan	B	S
4.	Banyaknya pihak luar yang ingin mendapatkan nikel dari Indonesia karena kualitas dan ongkos produksinya lebih murah apabila dibandingkan dengan negara lain.	<input type="radio"/>	<input type="radio"/>
5.	Meskipun pasokan nikel di pasar global mengalami penurunan, akan tetapi pasokan nikel di Indonesia mengalami peningkatan pesat sebesar 140%. Pasokan ini salah satunya bersumber dari PT. Vale Indonesia.	<input type="radio"/>	<input type="radio"/>

## II. Jawablah pertanyaan-pertanyaan berikut dengan tepat!

1. Mengapa dunia menggantungkan pasokan nikelnya dari Indonesia?
2. Apakah Indonesia mengalami hambatan ketika mengekspor nikelnya ke negara lain atau pasar global?
3. Mengapa permintaan terhadap nikel mengalami peningkatan? Jelaskan faktor penyebabnya!
4. Bagaimana dampak meningkatnya ekspor nikel bagi neraca perdagangan Indonesia? Berikan argumen kalian!
5. Bagaimana upaya yang bisa dilakukan oleh pemerintah supaya ketersediaan nikel tetap terjaga?

### C. Teori Perdagangan Internasional

Teori perdagangan internasional menjelaskan hubungan perdagangan antar negara serta bagaimana dampaknya terhadap perekonomian suatu negara. Terdapat empat teori yang menjelaskan teori perdagangan internasional, sebagai berikut.

1. Teori merkantilisme.
2. Teori keunggulan mutlak (*absolute advantage*) yang dikemukakan oleh Adam Smith.
3. Teori keunggulan komparatif (*comparative advantage*) yang dikemukakan oleh David Ricardo.
4. Teori heckscher-ohlin (HO).

Untuk lebih memahami pemahaman kalian tentang teori perdagangan internasional, kerjakanlah aktivitas berikut.

### **Aktivitas 3**

## **Teori Perdagangan Internasional**

### **Petunjuk Pengerjaan**

1. Kerjakan aktivitas ini secara berkelompok!
2. Cari dari sumber yang relevan terkait materi teori perdagangan internasional yang berkembang di dunia!
3. Presentasikan hasil diskusi kelompok kalian di depan kelas!

No.	Teori Perdagangan Internasional	Tokoh (Tempelkan Foto)	Teori	Kelemahan
1.	Teori merkantilisme.			
2.	Keuntungan absolut ( <i>absolute advantage</i> ).			
3.	Keunggulan komparatif ( <i>komparatif advantage</i> ).			
4.	Teori heckscher-ohlin.			

## **D. Kebijakan Perdagangan Internasional**

Kebijakan perdagangan internasional merupakan rangkaian kegiatan atau kebijakan yang diterapkan oleh pemerintah guna untuk melindungi industri dalam negeri atau kepentingan nasional. Kebijakan ini juga diterapkan untuk mengatasi berbagai kesulitan atau hambatan yang ditemukan di dalam kegiatan perdagangan internasional. Terdapat jenis-jenis kebijakan perdagangan internasional, sebagai berikut.

### **1. Kebijakan Proteksi**

Kebijakan ini diterapkan untuk melindungi industri dalam negeri agar bisa bersaing dengan produk luar negeri. Adapun jenis kebijakan proteksi, sebagai berikut.

#### **a. Kebijakan bea masuk**

Pungutan negara atas barang impor yang bertujuan untuk membatasi masuknya barang impor dalam rangka melindungi produk dalam negeri. Adanya pengenaan bea masuk, akan mengakibatkan harga barang menjadi lebih mahal.

#### **b. Kebijakan tarif**

Menurut Undang-Undang Nomor 17 Tahun 2006, tentang perubahan Undang-Undang Nomor 10 Tahun 1995 tentang Kepabeanan, tarif merupakan klasifikasi barang dan pembebanan bea masuk dan bea keluar. Terdapat dua muatan utama tarif, yaitu melalui klasifikasi barang dan pembebanan bea masuk atau keluar yang dinyatakan dalam bentuk persentase atau nilai mata uang tertentu.

### **c. Kebijakan kuota impor**

Membatasi jumlah barang yang diimpor atau barang yang diekspor dengan tujuan melindungi produk di dalam negeri.

### **d. Subsidi**

Pemberian bantuan kepada pengusaha untuk bisa menekan biaya produksi sehingga bisa menetapkan harga yang bersaing.

### **e. Dumping**

Menjual barang dengan harga yang murah ke negara lain dan menjual harga yang tinggi di dalam negeri.

### **f. Larangan impor**

Adanya larangan masuknya barang tertentu dari negara lain karena ingin melindungi industri dalam negeri.

### **g. Larangan ekspor**

Larangan untuk mengekspor sejumlah barang tertentu ke negara lain dengan berbagai pertimbangan.

### **h. Diskriminasi harga**

Memberlakukan harga yang berbeda untuk satu negara dengan negara lain.

Lalu, kebijakan proteksi apa yang sudah pernah diterapkan di Indonesia? Untuk menambah pengetahuan kalian, silakan kerjakan aktivitas berikut.

## Aktivitas 4

# Jenis Kebijakan Proteksi Indonesia

## Petunjuk Pengerjaan

1. Kerjakan aktivitas ini secara berkelompok!
2. Identifikasi jenis kebijakan proteksi dalam kegiatan perdagangan internasional yang pernah diterapkan Indonesia dalam kurun 5 tahun terakhir!
3. Carilah dari sumber yang relevan dan jangan lupa untuk mencantumkan sumbernya!
4. Presentasikan hasil diskusi kelompok kalian di depan kelas!

No.	Jenis Kebijakan	Tahun Berlaku	Tujuan Penerapan Kebijakan	Hasil Penerapan Kebijakan

## 2. Kebijakan Perdagangan Bebas

Kebijakan perdagangan bebas atau yang dikenal dengan *free trade policy* merupakan penghapusan kebijakan atau menghilangkan hambatan-hambatan yang biasanya berlaku di dalam suatu perdagangan internasional. Dengan diberlakukannya kebijakan perdagangan bebas, tidak akan ditemukan lagi pengenaan tarif, pembatasan kuota, dan lain-lain. Adapun manfaat diberlakukannya kebijakan perdagangan bebas, sebagai berikut.



- a. Konsumen memiliki banyak pilihan barang atau produk di pasaran dengan harga yang murah dan berkualitas.
- b. Terciptanya kualitas produk dan teknologi modern sehingga mampu bersaing.
- c. Setiap negara akan berlomba-lomba untuk mengefisienkan biaya produksi.
- d. Mobilitas atau arus pertukaran sumber daya manusia dan modal semakin meningkat.

Kebijakan perdagangan bebas juga bisa memberikan dampak negatif apabila negara tersebut tidak bisa bersaing dengan negara lain dan memiliki ketergantungan yang tinggi terhadap negara lain.

Untuk menambah pemahaman kalian tentang penerapan kebijakan perdagangan internasional, kerjakanlah aktivitas berikut!



## Aktivitas 5

# Dampak Penerapan Kebijakan Perdagangan Internasional



## Petunjuk Pengerjaan

1. Lengkapilah tabel di bawah!
2. Kerjakan aktivitas ini secara berpasangan!
3. Perhatikan masing-masing pernyataan, analisis dampak yang ditimbulkan dari setiap masalah tersebut!
4. Bagaimana dampaknya terhadap hambatan perdagangan?
5. Bagaimana dampaknya terhadap perubahan harga?
6. Bagaimana pengaruhnya terhadap tingkat ketergantungan negara lain?
7. Bagaimana dampaknya terhadap ketersediaan jumlah barang?

No.	Pernyataan	Dampak			
		Hambatan Perdagangan	Perubahan Harga	Perubahan Ketergantungan	Perubahan Ketersediaan Jumlah Barang
1.	Amerika Serikat menaikkan tarif impor jam tangan dari negara lain.				
2.	Indonesia melarang ekspor minyak sawit ke beberapa negara.				
3.	Kawasan ASEAN menerapkan kebijakan perdagangan bebas, salah satunya dengan menghapus tarif sejumlah barang.				
4.	Taiwan memberlakukan kebijakan penurunan tarif untuk barang impor buatan Amerika.				

No.	Pernyataan	Dampak			
		Hambatan Perdagangan	Perubahan Harga	Perubahan Ketergantungan	Perubahan Ketersediaan Jumlah Barang
5.	Singapura menghapus kuota impor atas peralatan mesin Amerika Serikat. Sebaliknya, Amerika Serikat menghapus penetapan tarif impor atas pakaian dari Singapura.				
6.	Indonesia membatasi jumlah daging sapi yang diimpor dari Australia.				
7.	Indonesia merupakan produsen tempe. Akan tetapi bahan baku pembuatan tempe yaitu kedelai diperoleh dari Amerika. Ketika Amerika sempat mengalami bencana, ekspor kedelainya mengalami penurunan.				

No.	Pernyataan	Dampak			
		Hambatan Perdagangan	Perubahan Harga	Perubahan Ketergantungan	Perubahan Ketersediaan Jumlah Barang
8.	Arab Saudi menaikkan harga minyak bumi yang diekspor ke Indonesia.				
9.	Pemerintah Indonesia memberikan subsidi atas udang yang diekspor ke beberapa negara seperti Jepang, Hongkong, dan Singapura.				
10.	Amerika Serikat menetapkan undang-undang baru yang memberlakukan kenaikan tarif sebesar 12% untuk setiap barang impor.				

## **Aktivitas 6**

# **Menganalisis Kebijakan Perdagangan Internasional yang Diterapkan Indonesia**

## **Petunjuk Pengerjaan**

1. Aktivitas ini meminta kalian untuk melakukan debat terbuka di dalam kelas!
2. Dalam setiap kelas terdapat dua kelompok besar (kelompok pro dan kontra)!
3. Kajiilah berbagai kebijakan perdagangan internasional yang diterapkan pemerintah.
4. Topik yang bisa dipilih, sebagai berikut.
  - a. Haruskah Indonesia mengimpor daging sapi atau beras?
  - b. Pemberhentian ekspor minyak goreng.
5. Kalian terlebih dahulu mencari materi secara mandiri, mencari data yang relevan dan menyusunnya untuk bahan debat!
6. Susunlah dalam bentuk laporan dan mendiskusikannya terlebih dahulu dengan guru!
7. Lakukan debat terbuka dengan bimbingan guru!

## Aktivitas 7

# Analisis Artikel Perdagangan Internasional

## Petunjuk Pengerjaan

1. Kerjakan aktivitas ini secara berkelompok!
2. Carilah salah satu artikel tentang kegiatan ekspor impor Indonesia dengan beberapa negara di dunia selama 5 tahun terakhir!
3. Setiap kelompok mendiskusikan tugas yang diberikan oleh guru!
4. Catat hasil diskusi dalam lembar kerja yang diberikan guru!
5. Presentasikan hasil diskusi didepan kelas!

No.	Pertanyaan	Jawaban
1.	Apa manfaat yang diperoleh Indonesia dari perdagangan internasional tersebut?	
2.	Apa yang mendorong Indonesia untuk melakukan perdagangan internasional?	
3.	Uraikan hambatan yang sering ditemui Indonesia dalam kegiatan perdagangan internasional!	
4.	Uraikan jenis kebijakan perdagangan internasional yang sudah diterapkan oleh Indonesia! Berikan contoh!	
5.	Bagaimana peran Indonesia di mata dunia dalam kegiatan perdagangan internasional?	

## E. Neraca Pembayaran

Menurut *International Monetary Fund* (IMF), neraca pembayaran adalah suatu catatan ringkas dan sistematis dari semua transaksi ekonomi internasional yang melibatkan suatu negara dengan negara lain dalam kurun waktu tertentu. Transaksi tersebut bisa dilakukan oleh penduduk dengan non penduduk meliputi transaksi barang, jasa, pendapatan, transfer, serta kewajiban finansial terhadap negara lain.

Transaksi yang dicatat pada neraca pembayaran terdiri dari transaksi debit dan transaksi kredit.

1. Transaksi debit, digunakan untuk mencatat transaksi yang mengakibatkan adanya kewajiban bagi suatu negara untuk melakukan pembayaran ke luar negeri. Transaksi ini menunjukkan adanya aliran dana dari dalam negeri ke luar negeri
2. Transaksi kredit digunakan untuk mencatat transaksi yang mengakibatkan suatu negara menerima pembayaran dari negara lain. Transaksi ini menunjukkan adanya aliran dana dari luar negeri ke dalam negeri.

Berikut ini merupakan komponen dari transaksi kredit dan transaksi debit.

**Tabel 2.2 Jenis Transaksi dalam Neraca Pembayaran**

<b>Transaksi kredit (+)</b>	<b>Transaksi debit (-)</b>
Kegiatan ekspor.	Kegiatan impor.
Pendapatan investasi milik penduduk domestik yang berada di luar negeri.	Investasi penduduk dalam negeri ke luar negeri.
Penerimaan uang dari luar negeri.	Pengeluaran uang ke luar negeri.

Transaksi kredit (+)	Transaksi debit (-)
Penerimaan hibah atau hadiah dari luar negeri.	Pemberian hibah atau hadiah ke luar negeri.
Penjualan saham atau obligasi ke luar negeri.	Pembelian saham atau obligasi dari luar negeri.

Menurut Bank Indonesia, tujuan pembuatan neraca pembayaran, sebagai berikut.

1. Memberikan informasi kepada pemerintah mengenai posisi pembayaran internasional.
2. Membantu pemerintah dalam menetapkan kebijakan fiskal dan moneter serta perdagangan dan pembayaran internasional.
3. Merupakan alat untuk mengukur berapa besar utang dan piutang negara terhadap luar negeri.
4. Mengukur keadaan perekonomian dan posisi keuangan internasional suatu negara.

Berdasarkan laporan neraca pembayaran Indonesia yang dirilis oleh Bank Indonesia setiap tahunnya, terdapat beberapa komponen neraca pembayaran, sebagai berikut.

## 1. Transaksi Berjalan

- a. Neraca perdagangan, meliputi kegiatan ekspor dan impor barang. ketentuannya sebagai berikut.
  - 1) Surplus, apabila nilai ekspor lebih tinggi dibandingkan nilai impor.
  - 2) Defisit, apabila nilai ekspor lebih rendah dibandingkan nilai impor.
  - 3) Seimbang, apabila nilai ekspor proporsional dengan nilai impor.



- 4) Neraca jasa, meliputi transaksi jasa dari atau ke negara lain. Contohnya seperti jasa pariwisata, pengiriman tenaga kerja, jasa asuransi dan dana pensiun, jasa keuangan, dan lain-lain.
- 5) Pendapatan primer terdiri dari kompensasi tenaga kerja dan pendapatan dari investasi, baik itu dari pendapatan investasi langsung, pendapatan investasi portofolio, dan pendapatan dari investasi lainnya.
- 6) Pendapatan sekunder yang terdiri dari penerimaan transfer dari penghasilan dari tenaga kerja Indonesia (TKI).

## 2. Transaksi modal

Neraca ini mencatat transaksi penerimaan dan pembayaran penanaman modal yang terjadi di antara dua negara.

## 3. Transaksi finansial

Neraca ini mencatat transaksi investasi langsung (*direct investment*) dari pihak swasta asing, investasi portofolio, dan investasi lainnya.

Kerjakan aktivitas berikut untuk membedakan transaksi-transaksi dalam neraca pembayaran!

### Aktivitas 8

## Membedakan Transaksi Debit dan Transaksi Kredit

### Petunjuk Pengerjaan

1. Kerjakan lembar aktivitas ini secara individu!
2. Menentukan jenis transaksi dari setiap kegiatan perdagangan internasional!

3. Berilah tanda ceklis pada setiap pertanyaan yang tersedia!

D = untuk jenis transaksi debit

K = untuk jenis transaksi kredit

U = bukan keduanya

No.	Pernyataan	D	K	U
1.	Pemerintah mengirim tenaga kerja Indonesia ke Arab Saudi.	<input type="radio"/>	<input type="radio"/>	<input type="radio"/>
2.	Pemerintah mengekspor buah manggis khas Purwakarta ke luar negeri dan tembus pasar Eropa.	<input type="radio"/>	<input type="radio"/>	<input type="radio"/>
3.	Sejak beberapa tahun terakhir ini, pemerintah mengimpor bawang putih dari Vietnam karena stok bawang putih sedikit diakibatkan gagal panen.	<input type="radio"/>	<input type="radio"/>	<input type="radio"/>
4.	Wisatawan yang berkunjung ke Bali mengalami kenaikan sebesar 10% pada tahun 2018.	<input type="radio"/>	<input type="radio"/>	<input type="radio"/>
5.	Anggota DPR melakukan studi banding ke sebagian negara di kawasan Eropa.	<input type="radio"/>	<input type="radio"/>	<input type="radio"/>
6.	Indonesia setiap tahunnya membayar cicilan utang ke Bank Dunia. Besaran cicilannya termaktub dalam APBN.	<input type="radio"/>	<input type="radio"/>	<input type="radio"/>
7.	Indonesia memperoleh dana pinjaman dari <i>Islamic Development Bank</i> untuk membangun jalan di beberapa wilayah di Indonesia.	<input type="radio"/>	<input type="radio"/>	<input type="radio"/>
8.	Indonesia menjadi tuan rumah ASEAN Games pada tahun 2018.	<input type="radio"/>	<input type="radio"/>	<input type="radio"/>
9.	Indonesia membeli perlengkapan persenjataan lengkap untuk TNI Angkatan Darat dari negara Jerman.	<input type="radio"/>	<input type="radio"/>	<input type="radio"/>
10.	Indonesia setiap tahunnya melakukan pertukaran pelajar dengan negara Belanda.	<input type="radio"/>	<input type="radio"/>	<input type="radio"/>

No.	Pernyataan	D	K	U
11	Pemerintah Indonesia mengimpor daging sapi dari Australia.	<input type="radio"/>	<input type="radio"/>	<input type="radio"/>
12	Pemerintah Jepang menginvestasikan uangnya di Indonesia sebesar ¥27.500.000.	<input type="radio"/>	<input type="radio"/>	<input type="radio"/>
13	Daniel merupakan warga negara Inggris yang sejak setahun lalu tinggal di Indonesia. Saat ini ia menyimpan uangnya dalam bentuk rupiah di salah satu bank milik pemerintah.	<input type="radio"/>	<input type="radio"/>	<input type="radio"/>
14	Allea merupakan salah satu penggemar drama korea. Karena kecintaannya terhadap hal yang berbau korea, ia membeli banyak barang langsung dari negara tersebut.	<input type="radio"/>	<input type="radio"/>	<input type="radio"/>
15	Banyak orang kaya di Indonesia menanamkan uangnya di bank luar negeri.	<input type="radio"/>	<input type="radio"/>	<input type="radio"/>

Setelah kalian mengerjakan aktivitas 8, silahkan kerjakan aktivitas berikut secara berkelompok.



## Aktivitas 9

# Neraca Perdagangan

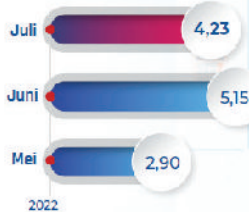


## Petunjuk Pengerjaan

1. Kerjakan lembar aktivitas ini secara berkelompok!
2. Perhatikan infografis berikut ini!

# Surplus Neraca Perdagangan Berlanjut

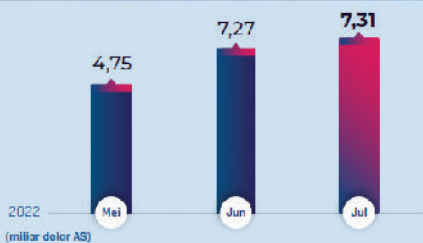
Neraca perdagangan Indonesia pada Juli 2022 kembali mencatat surplus, meskipun lebih rendah dibandingkan dengan surplus pada bulan sebelumnya.



Sumber: BPS, diolah

(miliar dolar AS)

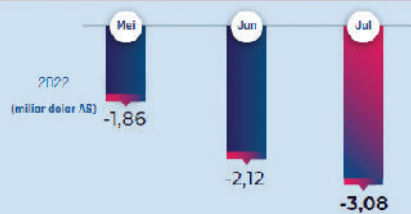
## Neraca Perdagangan Nonmigas



Perkembangan tersebut ditopang oleh:

- Kinerja ekspor nonmigas meski sedikit menurun dibandingkan dengan bulan sebelumnya.
- Tetap kuatnya kinerja ekspor nonmigas terutama bersumber dari ekspor komoditas berbasis sumber daya alam, seperti bahan bakar mineral termasuk batu bara, CPO, serta produk manufaktur, seperti *pulp* dan kayu yang tercatat meningkat.
- Harga komoditas global yang masih tinggi.

## Neraca Perdagangan Migas



Meningkatnya defisit sejalan dengan:

- Kenaikan impor migas di tengah penurunan ekspor migas



Bank Indonesia memandang surplus neraca perdagangan telah berkontribusi positif dalam menjaga ketahanan eksternal perekonomian Indonesia.

Ke depan, Bank Indonesia terus memperkuat sinergi kebijakan dengan Pemerintah dan otoritas kebijakan terkait untuk meningkatkan ketahanan eksternal serta mendukung pemulihan ekonomi nasional.

Agustus 2022



[www.bi.go.id](http://www.bi.go.id)



[BankIndonesiaChannel](#)



[BankIndonesiaOfficial](#)



[bank\\_indonesia](#)



[bank\\_indonesia](#)



Contact Center 131

**Gambar 2.3** Contoh neraca perdagangan.

Sumber: Bank Indonesia (2022)

3. Berdasarkan infografis di atas, jawablah pertanyaan berikut.
  - a. Berapa nilai surplus neraca perdagangan Indonesia selama 3 bulan terakhir?
  - b. Mengapa neraca perdagangan migas masih mengalami defisit?
  - c. Mengapa neraca perdagangan nonmigas mengalami surplus?
  - d. Hitunglah persentase kenaikan atau penurunan surplus neraca perdagangan Indonesia pada bulan Juni dan Juli tahun 2022!
  - e. Bank Indonesia memandang surplus neraca perdagangan telah berkontribusi positif dalam menjaga ketahanan eksternal perekonomian Indonesia. Apakah kalian setuju atau tidak setuju dengan pernyataan tersebut? Berikan argumen kalian!

## F. Kerja Sama Ekonomi Internasional

### 1. Pengertian

Pernahkah kalian melihat kantor kedutaan besar salah satu negara di Indonesia?



**Gambar 2.4** Kantor kedutaan Amerika Serikat untuk Indonesia di Jakarta.

*Sumber: Kedubes AS/Liputan6.com (2019)*

Adanya kantor kedutaan negara lain di negara kita, mencerminkan bahwa negara kita menjalin kerja sama dengan negara lain, salah satunya pada bidang ekonomi. Apa yang kalian ketahui tentang kerja sama ekonomi internasional?

Kerja sama ekonomi internasional merupakan kerja sama yang dilakukan antara satu negara dengan negara lain yang saling menguntungkan pada bidang ekonomi untuk meningkatkan kesejahteraan dan pertumbuhan ekonomi. Kerja sama ekonomi ini meliputi kegiatan perdagangan internasional, pertukaran faktor produksi, dan hubungan utang-piutang.

## 2. Jenis Kerja Sama Ekonomi Internasional

### a. Kerja sama bilateral

Kerja sama bilateral melibatkan dua negara atau hanya terdiri dari dua negara yang menjalin kerja sama. Contohnya adalah kerja sama Indonesia dan Malaysia dalam bidang pendidikan, pengadaan tenaga kerja Indonesia (TKI), dan kerja sama dalam penanggulangan perdagangan manusia.



**Gambar 2.5** Indonesia dan Malaysia merupakan contoh negara yang melakukan kerja sama bilateral.

*Sumber: Laily Rachev/ANTARA (2021)*

### b. Kerja sama multilateral

Kerja sama ini merupakan kerja sama yang melibatkan dua negara atau lebih yang tidak terbatas pada wilayah atau kawasan tertentu. Contohnya adalah *International Monetary Fund* (IMF).



### c. Kerja sama regional

Kerja sama regional merupakan bentuk kerja sama ekonomi yang melibatkan beberapa negara dalam suatu kawasan tertentu. Contohnya adalah ASEAN (bentuk kerja sama negara-negara di kawasan Asia Tenggara).

### d. Kerja sama antarregional

Kerja sama antarregional merupakan kerja sama antara negara-negara di satu kawasan dengan negara-negara di kawasan lain. Contohnya adalah kerja sama negara-negara ASEAN dengan Uni Eropa.



## Aktivitas 10

# Organisasi Kerja Sama Ekonomi Internasional



## Petunjuk Pengerjaan

1. Kerjakan aktivitas ini secara berkelompok!
2. Perhatikan daftar gambar yang diberikan oleh guru!
3. Pilih salah satu gambar yang masuk ke salah satu jenis lembaga kerja sama ekonomi internasional!
4. Deskripsikan ciri-ciri dari salah satu gambar tersebut!

No.	Gambar	Nama Lembaga Ekonomi Internasional dan Lokasi Markas Besar	Bentuk Kerja Sama	Deskripsi	Manfaat Bergabung untuk Indonesia
1.					



No.	Gambar	Nama Lembaga Ekonomi Internasional dan Lokasi Markas Besar	Bentuk Kerja Sama	Deskripsi	Manfaat Bergabung untuk Indonesia
2.					
3.					
4.					
5.					
6.					
7.					
8.					
9.					
10.					

Kerjakan aktivitas di bawah ini untuk mengecek pemahaman kalian terhadap materi bentuk kerja sama internasional!



### Aktivitas 11

## Bentuk Kerja Sama Internasional



### Petunjuk Pengerjaan

1. Kerjakan aktivitas ini secara mandiri!
2. Berikan tanda ceklis (✓) pada masing-masing pilihan bentuk kerja sama.

No.	Pernyataan	Bentuk Kerja Sama			
		Bilateral	Multilateral	Regional	Antarregional
1.	Indonesia menjalin kemitraan strategis khusus dengan Korea Selatan dengan berfokus terhadap perdagangan dan pertahanan.	<input type="radio"/>	<input type="radio"/>	<input type="radio"/>	<input type="radio"/>
2.	Malaysia, Indonesia, dan Filipina (MAPHILINDO) tergabung dalam konfederasi nonpolitik.	<input type="radio"/>	<input type="radio"/>	<input type="radio"/>	<input type="radio"/>
3.	Indonesia merupakan salah satu negara anggota Organisasi Kerja sama Islam (OKI).	<input type="radio"/>	<input type="radio"/>	<input type="radio"/>	<input type="radio"/>
4.	Indonesia tergabung dalam keanggotaan Perserikatan bangsa-bangsa dan organisasi di bawah naungannya.	<input type="radio"/>	<input type="radio"/>	<input type="radio"/>	<input type="radio"/>
5.	Indonesia menjalin kerja sama dengan Amerika Serikat dalam penanggulangan COVID dan peningkatan neraca perdagangan .	<input type="radio"/>	<input type="radio"/>	<input type="radio"/>	<input type="radio"/>

No.	Pernyataan	Bentuk Kerja Sama			
		Bilateral	Multilateral	Regional	Antarregional
6.	Indonesia tergabung dalam Asosiasi negara-negara Asia Tenggara (ASEAN).	<input type="radio"/>	<input type="radio"/>	<input type="radio"/>	<input type="radio"/>
7.	Indonesia menjalin kerja sama dengan IMF untuk mengatasi defisit neraca pembayaran.	<input type="radio"/>	<input type="radio"/>	<input type="radio"/>	<input type="radio"/>
8.	Indonesia menjalin kerja sama dengan Jepang melalui pertukaran pelajar dan mahasiswa dalam bidang teknologi.	<input type="radio"/>	<input type="radio"/>	<input type="radio"/>	<input type="radio"/>
9.	Kerja sama Indonesia dan Arab Saudi dalam penanganan ibadah haji.	<input type="radio"/>	<input type="radio"/>	<input type="radio"/>	<input type="radio"/>
10.	Indonesia dan Malaysia menjalin kerja sama dalam pengiriman TKI ke Malaysia.	<input type="radio"/>	<input type="radio"/>	<input type="radio"/>	<input type="radio"/>
11.	Indonesia menjalin kerja sama dengan beberapa negara di Kawasan Asia Pasifik.	<input type="radio"/>	<input type="radio"/>	<input type="radio"/>	<input type="radio"/>

No.	Pernyataan	Bentuk Kerja Sama			
		Bilateral	Multilateral	Regional	Antarregional
12.	<i>European Economic Community (EEC)</i> atau masyarakat ekonomi Eropa merupakan kerja sama ekonomi di wilayah Eropa dan menjalin kerja sama ekonomi dengan ASEAN.	○	○	○	○
13.	RCEP merupakan kerja sama ekonomi yang membentuk kesempatan pasar bebas ( <i>free trade area</i> ) antara negara ASEAN dengan 6 negara lain yaitu China, Jepang, Korea Selatan, Australia, India, dan Selandia Baru.	○	○	○	○
14.	Indonesia menjalin kerja sama dengan Jerman dalam penanaman usaha di perusahaan Krakatau Steel dan Industri Pesawat Terbang Nusantara (IPTN).	○	○	○	○
15.	Indonesia pernah tergabung dalam organisasi OPEC akan tetapi memutuskan keluar pada Tahun 2008.	○	○	○	○



### I. Bentuk soal AKM

Pilihlah jawaban yang tepat!

1. Negara-negara maju mengimpor banyak bahan baku dari negara berkembang seperti Indonesia. Berdasarkan ilustrasi di atas, faktor yang menyebabkan terjadinya perdagangan internasional adalah ....
  - A. selera masyarakat terhadap produk luar negeri
  - B. memaksimalkan keuntungan yang diperoleh
  - C. perbedaan ilmu pengetahuan dan teknologi
  - D. perbedaan sumber daya dan keadaan alam
  - E. upaya mengefisiensikan biaya produksi
2. Perdagangan internasional merupakan perdagangan lintas dunia, sehingga setiap negara tidak bisa lepas dari yang namanya perdagangan internasional. Faktor utama yang menyebabkan timbulnya perdagangan internasional adalah ....
  - A. adanya persamaan sumber-sumber alam antar dua negara atau lebih sehingga timbul kerjasama
  - B. adanya keinginan untuk memenuhi kebutuhan yang tidak dapat dipenuhi oleh negaranya sendiri
  - C. adanya keinginan suatu negara untuk menguasai negara lain
  - D. adanya keinginan untuk mendapatkan dan menguasai bahan-bahan mentah secara monopoli di suatu negara
  - E. adanya kesamaan tingkat kesuburan, teknologi, dan produksi antar dua negara
3. Tidak ada satu negara pun di dunia ini yang tidak melakukan kerja sama dengan negara lain. Karena dengan kerja sama antar negara, khususnya dalam bidang perdagangan akan menyebabkan pilihan

masyarakat terhadap barang dan jasa semakin bervariasi dengan kualitas yang menjanjikan.

Berdasarkan kasus tersebut, manfaat perdagangan internasional adalah ....

- A. sumber devisa
  - B. perluasan kesempatan kerja
  - C. stabilisasi harga
  - D. peningkatan kualitas konsumsi
  - E. percepatan alih teknologi
4. Negara X memutuskan untuk membeli produk kendaraan dari Negara Z karena apabila Negara X memproduksi sendiri akan membutuhkan biaya yang jauh lebih besar. Begitu juga dengan Negara Z, lebih memilih impor peralatan elektronik dari Negara X untuk efisiensi produksi. Berdasarkan ilustrasi tersebut, kedua negara sedang menerapkan salah satu teori perdagangan internasional. Teori yang dimaksud adalah ...
- A. teori merkantilisme
  - B. teori keunggulan mutlak
  - C. teori Keynesian
  - D. teori keunggulan komparatif
  - E. teori monetaris
5. Salah satu kebijakan pemerintah untuk melindungi produksi dalam negeri adalah dengan menggunakan instrumen perpajakan. Apabila bea masuk barang dinaikkan, maka dampak yang ditimbulkan dari kebijakan tersebut adalah ....
- A. jumlah barang yang diimpor akan berkurang dan harganya lebih tinggi daripada produk barang dalam negeri
  - B. jumlah produk barang yang diimpor bertambah dan harganya bersaing dengan produk dalam negeri
  - C. jumlah barang yang diimpor tidak mengalami perubahan
  - D. harga barang impor lebih murah dari produk dalam negeri
  - E. produk dalam negeri akan diekspor ke luar negeri

6. Penerimaan devisa sebagai hasil pemasukan wisatawan asing ke Indonesia akan dicatat dalam neraca pembayaran Indonesia pada neraca ....
- A. jasa di sisi kredit  
 B. jasa di sisi debit  
 C. lalu lintas modal sisi debit  
 D. lalu lintas modal sisi kredit  
 E. lalu lintas moneter sisi debit
7. Berikut ini merupakan tabel hasil perdagangan Negara “X” dan Negara “Y”!

Kegiatan	Negara X	Negara Y
Ekspor	US\$70.000	US\$110.000
Impor	US\$95.000	US\$90.000

Berdasarkan tabel tersebut dapat disimpulkan bahwa ....

- A. negara X mengalami surplus sebesar US\$25.000  
 B. negara Y mengalami surplus sebesar US\$20.000  
 C. nilai impor Negara Y lebih besar dibandingkan ekspornya  
 D. nilai ekspor Negara X lebih besar dibandingkan impornya  
 E. selisih lebih impor Negara X dapat menabung devisa negaranya
8. Diketahui neraca perdagangan negara Z pada tahun 2021 sebagai berikut (dalam miliar rupiah)!

Ekspor	6.500
Impor	4.900
Neraca perdagangan	1.600
Pinjaman otonom	1.000
Pinjaman akomodatif	500
Stok nasional	100

Berdasarkan data tersebut, kondisi neraca pembayaran negara Z mengalami ....

- A. surplus Rp600 miliar
- B. surplus Rp1.500 miliar
- C. surplus Rp1.600 miliar
- D. defisit Rp600 miliar
- E. defisit Rp1.600 miliar

9. Perhatikan pernyataan di bawah ini!

- 1) Dalam rangka meningkatkan kerja sama dengan Jepang, pemerintah Indonesia banyak memberi kemudahan bagi perusahaan-perusahaan Jepang untuk mendirikan cabang di wilayah Indonesia.
- 2) Setiap tahun ribuan tenaga kerja Indonesia bekerja di wilayah Arab Saudi sebagai salah satu hasil kesepakatan kerja sama antar kedua negara.

Dampak dari kedua kerja sama tersebut bagi Indonesia yang tepat adalah ....

- A. dari Jepang dapat mempercepat alih teknologi, sedangkan dari Arab Saudi memperoleh devisa
  - B. dari Jepang dapat memperoleh devisa, sedangkan dari Arab Saudi memperluas kesempatan kerja
  - C. dari Jepang dapat memperoleh kesempatan kerja, sedangkan dari Arab Saudi akan meningkatkan stabilitas harga
  - D. dari Jepang dapat meningkatkan stabilitas harga, sedangkan dari Arab Saudi meningkatkan kualitas konsumsi
  - E. dari Jepang dapat meningkatkan kualitas konsumsi, sedangkan dari Arab Saudi mempercepat alih teknologi
10. Terdapat beberapa jenis kerjasama ekonomi internasional yang berkembang di dunia, diantaranya kerjasama bilateral dengan kerjasama multilateral. Perbedaan kerja sama bilateral dengan kerja sama multilateral adalah ....



- A. kerja sama bilateral berlaku pada bidang ekonomi saja, sedangkan kerjasama multilateral, yaitu pada bidang yang tidak terbatas
- B. kerja sama bilateral terbatas pada bidang tertentu, sedangkan kerja sama multilateral mencakup berbagai bidang
- C. kerja sama bilateral terbatas pada kawasan tertentu, sedangkan kerja sama multilateral mencakup kawasan yang tidak terbatas
- D. kerja sama bilateral berlaku pada jangka waktu tertentu, sedangkan kerja sama multilateral untuk jangka waktu yang tidak terbatas
- E. kerja sama bilateral terbatas pada dua negara, sedangkan multilateral terjadi dengan banyak negara

## II. Pilihan Ganda Komplek

Pilihlah tiga (3) jawaban yang tepat dengan cara memberikan tanda centang (✓)!

11. Berikut ini merupakan keuntungan yang akan diperoleh suatu negara dari kegiatan perdagangan internasional.
- meningkatkan penerimaan negara
  - memenuhi kebutuhan yang tidak bisa diperoleh dari negara lain
  - meningkatkan kerja sama antarnegara
  - adanya perbedaan dalam menghasilkan barang ataupun jasa
  - perbedaan pengetahuan dan teknologi
12. Pernyataan berikut ini yang menunjukkan kebijakan kuota impor.
- pemerintah menerapkan biaya masuk untuk setiap jenis barang yang diimpor
  - pembatasan jumlah bawang putih yang diimpor dari Vietnam
  - pemerintah menetapkan batas tertinggi untuk impor gula
  - adanya pembatasan atas barang yang masuk ke dalam negeri

- pemerintah menetapkan kebijakan untuk menjual barang dengan harga yang lebih murah ke negara lain
13. Berikut ini merupakan penerapan kebijakan proteksi dalam pelaksanaan perdagangan internasional.
- penetapan bea impor yang tinggi untuk produk tertentu
  - penurunan bea yang dikenakan untuk produk ekspor
  - pemberian subsidi untuk barang-barang yang berorientasi pasar luar negeri
  - penetapan tarif atau bea yang rendah untuk bahan baku karena bahan baku lokal sangat mahal
  - deregulasi barang impor agar barang sejenis di dalam negeri bisa turun
14. Berikut ini merupakan dampak negatif dari kerja sama ekonomi internasional.
- meningkatkan nilai perdagangan
  - timbul dominasi negara maju
  - ketergantungan terhadap negara lain
  - menghilangkan hambatan perdagangan internasional
  - tersingkirnya kekuatan ekonomi dalam negeri
15. Berikut ini merupakan dampak positif dari kerjasama ekonomi internasional.
- meningkatkan nilai perdagangan
  - timbul dominasi negara maju
  - meningkatkan neraca pembayaran
  - menghilangkan hambatan perdangan internasional
  - tersingkirnya kekuatan ekonomi dalam negeri
16. Berikut merupakan transaksi yang tercatat dalam neraca pembayaran sisi kredit.
- pinjaman yang diterima dari luar negeri

- bunga dan deviden yang diterima dari luar negeri
  - hasil pariwisata dari masyarakat luar negeri di dalam negeri
  - jasa-jasa yang dikerjakan untuk luar negeri
  - pembayaran pariwisata keluar negeri
17. Berikut merupakan komponen neraca pembayaran yang termasuk neraca modal.
- pembayaran cicilan utang
  - pembelian surat berharga
  - penjualan jasa pengiriman
  - penjualan aset perusahaan
  - pembayaran asuransi
18. Berikut merupakan organisasi kerja sama internasional yang bergerak dalam bidang keuangan.
- International Monetary Fund (IMF)*
  - World Bank*
  - Consultant Group on Indonesia (CGI)*
  - Asian Development Bank (ADB)*
  - General Agreement on Tariff and Trade (GATT)*
  - World Trade Organization (WTO)*
19. Di bawah ini termasuk dalam organisasi kerjasama internasional yang bergerak dalam bidang perdagangan.
- International Monetary Fund (IMF)*
  - World Bank*
  - General Agreement on Tariff and Trade (GATT)*
  - World Trade Organization (WTO)*
  - Asean Free Trade Area (AFTA)*

20. Di bawah merupakan contoh lembaga kerjasama internasional yang termasuk dalam satu kawasan.

- North American Free Trade Agreement (NAFTA)*
- International Monetary Fund (IMF)*
- General Agreement on Tariff and Trade (GATT)*
- Asean Free Trade Area (AFTA)*
- European Economic Community (EEC)*

### III. Kategori Benar-Salah

Berikan centang (✓) pada jawaban "Benar" atau "Salah"!

No.	Pernyataan	Benar	Salah
21.	Teori perdagangan yang menyatakan bahwa negara akan kaya apabila mampu mengakumulasi logam mulia dengan cara meningkatkan ekspor dan menekan impor merupakan teori merkantilisme.	<input type="radio"/>	<input type="radio"/>
22.	Faktor penentu daya saing ekspor Indonesia adalah kualitas komoditas ekspor dan pendapatan per kapita penduduk Indonesia.	<input type="radio"/>	<input type="radio"/>
23.	Kebijakan perdagangan internasional dimana pemerintah membatasi jumlah rotan mentah yang boleh diekspor adalah kebijakan tarif atau bea.	<input type="radio"/>	<input type="radio"/>
24.	Apabila bea masuk barang jadi dinaikkan, maka jumlah barang yang diimpor akan berkurang dan harganya lebih tinggi daripada produk barang dalam negeri.	<input type="radio"/>	<input type="radio"/>

No.	Pernyataan	Benar	Salah
25.	Ketika pelaku usaha di Indonesia akan mengekspor produk ke Jepang, hal yang harus diperhatikan adalah nilai tukar mata uang dan pendapatan penduduk negara Jepang.	<input type="radio"/>	<input type="radio"/>
26.	Indonesia melakukan ekspor udang ke Jepang dan Australia. Kegiatan ini dicatat dalam neraca perdagangan sebagai transaksi kredit karena Indonesia menerima aliran dana.	<input type="radio"/>	<input type="radio"/>
27.	Apabila nilai ekspor lebih besar daripada nilai impor, neraca perdagangannya bersifat pasif.	<input type="radio"/>	<input type="radio"/>
28.	Indonesia dan Inggris mengadakan kerjasama bidang pendidikan dengan melaksanakan kegiatan pertukaran pelajar. Berdasarkan ilustrasi tersebut, bentuk kerjasama yang dijalin adalah kerjasama bilateral.	<input type="radio"/>	<input type="radio"/>
29.	ASEAN merupakan organisasi regional di kawasan Asia Tenggara yang didirikan dengan tujuan untuk membuka kawasan perdagangan bebas. Jumlah negara anggotanya sebanyak 11 negara.	<input type="radio"/>	<input type="radio"/>
30.	Sebagai negara berkembang, Indonesia membutuhkan kerjasama dengan negara lain dalam berbagai bidang. Salah satu lembaga kerja sama antar negara yang pernah diikuti oleh Indonesia adalah OPEC.	<input type="radio"/>	<input type="radio"/>

## IV. Uraian

Jawablah pertanyaan berikut dengan tepat!

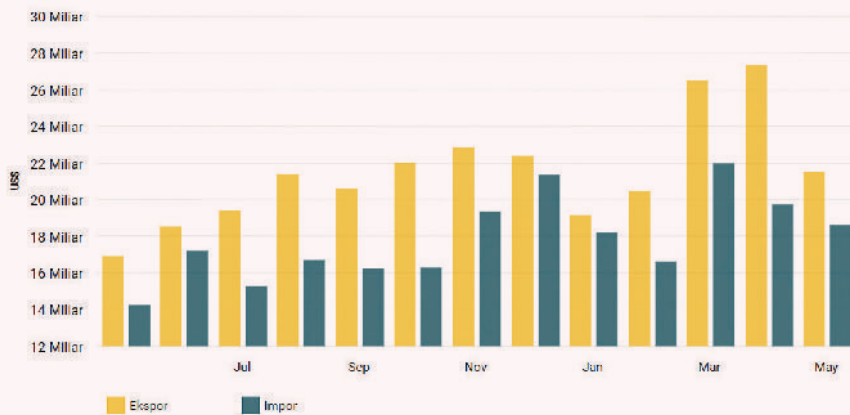
1. Tidak semua negara membuka diri untuk melakukan perdagangan internasional. Sehingga mereka hanya memenuhi kebutuhannya sendiri. Jelaskan secara rinci faktor yang menghambat suatu negara untuk tidak terlibat dalam kegiatan perdagangan internasional!
2. Salah satu dari jenis kebijakan perdagangan internasional yaitu pengenaan tarif dan kuota. Jelaskan dampak penerapan kedua kebijakan perdagangan internasional tersebut!
3. Indonesia memiliki tingkat daya saing ekspor yang masih rendah sehingga masih terus melakukan impor. Uraikan bagaimana upaya untuk meningkatkan daya saing produk ekspor Indonesia! Jelaskan dampak yang akan dirasakan apabila Indonesia bisa meningkatkan daya saing produk ekspornya!
4. Dilihat dari bentuknya, terdapat beberapa kerja sama internasional baik itu kerja sama bilateral maupun kerja sama multilateral. Sebutkan beberapa jenis kerjasama yang diikuti Indonesia dan apa yang melandasi Indonesia untuk ikut bergabung dalam organisasi tersebut!
5. Uraikan latar belakang berdirinya organisasi *G20/The Group of Twenty*. Mengapa Indonesia bergabung dalam organisasi tersebut?



## Nilai Ekspor dan Impor RI Turun secara Bulanan pada Mei 2022

Nilai Ekspor dan Impor Indonesia (Mei 2021-Mei 2022)

Sumber: Badan Pusat Statistik (BPS), 15 Juni 2022



Katadata

databoks

Penulis: Cindy Mutia Annur

Editor: Adi Ahdiat

15/6/2022, 18.50 WIB

Sumber: <https://databoks.katadata.co.id/datapublish/2022/06/15/nilai-ekspor-dan-impor-ri-turun-secara-bulanan-pada-mei-2022>

Badan Pusat Statistik (BPS) melaporkan nilai ekspor Indonesia mencapai US\$21,5 miliar pada Mei 2022.

Jika dilihat secara bulanan, nilai tersebut menurun 21,29% (*month-on-month/mom*) dibanding ekspor April 2022 yang nilainya US\$27,32 miliar.

Menurut catatan BPS, penurunan ekspor secara bulanan pada Mei 2022 disebabkan oleh menurunnya ekspor nonmigas sebesar 22,71% (*mom*), dari US\$25,88 miliar menjadi US\$20 miliar. Sedangkan ekspor migas naik 4,38% (*mom*) dari US\$1,43 miliar menjadi US\$1,49 miliar.

Sama halnya dengan ekspor, nilai impor menurun secara bulanan pada Mei 2022. Nilai impor Indonesia tercatat sebesar US\$18,61 miliar pada Mei 2022, turun 5,81% (*mom*) dibanding April 2022 yang nilainya US\$19,75 miliar.

Penurunan nilai impor secara bulanan ini didorong oleh turunnya impor migas sebesar 12,07% (*mom*) menjadi US\$3,35 miliar. Impor nonmigas juga turun 4,31% (*mom*) menjadi US\$15,25 miliar.

Adapun nilai ekspor pada Mei 2022 lebih tinggi dari impornya, sehingga Indonesia mencatatkan surplus neraca perdagangan sebesar US\$2,89 miliar.

Namun, angka tersebut menurun dari surplus April 2022 yang besarnya US\$7,56 miliar.

### **Nilai Ekspor-Impor Naik Dibanding Tahun Lalu**

Meski turun secara bulanan, nilai ekspor-impor Indonesia tercatat mengalami peningkatan jika dilihat secara tahunan (*year-on-year/yoy*).



Jika dibandingkan dengan posisi Mei 2021, nilai ekspor pada Mei 2022 naik 27% (yoy). Ekspor nonmigas tercatat meningkat 25,34% (yoy) dan ekspor migas naik 54,49% (yoy).

Secara kumulatif, nilai ekspor Indonesia selama periode Januari-Mei 2022 juga sudah mencapai US\$114,97 miliar, naik 36,34% (yoy) dibanding periode sama pada tahun sebelumnya yang berjumlah US\$84,32 miliar.

Nilai impor nonmigas pada Mei 2022 juga naik secara tahunan sebesar 25,33% (yoy) dan impor migas naik 62,64% (yoy).

Jika diakumulasikan, nilai impor Indonesia periode Januari-Mei 2022 mencapai US\$95,17 miliar. Nilai ini naik 28,93% (yoy) dibanding periode sama pada tahun sebelumnya yang berjumlah US\$73,82 miliar.

Berdasarkan artikel di atas, jawablah pertanyaan di bawah ini dengan tepat!

1. Berdasarkan diagram batang yang ditampilkan, berikan kesimpulan terkait kondisi neraca perdagangan Indonesia selama tiga bulan terakhir!
2. Jelaskan faktor yang menyebabkan nilai ekspor bulan Mei 2022 mengalami penurunan dibandingkan bulan sebelumnya!
3. Jelaskan faktor yang memengaruhi penurunan nilai impor pada bulan Mei 2022!
4. Apabila nilai ekspor dan impor sama-sama mengalami penurunan, apa dampaknya terhadap perekonomian?
5. Bagaimana upaya yang bisa dilakukan pemerintah untuk mendorong ekspor dan meminimalisir impor? Berikan argumen kalian!

## Refleksi

Kalian telah mempelajari materi ekonomi internasional. Apakah kalian bisa mengikuti pembelajaran dengan baik? Manfaat apa yang kalian peroleh setelah mempelajari materi ekonomi internasional? Peran apa yang bisa kalian lakukan dalam kegiatan ekonomi internasional?

## Pengayaan

Jika kalian tertarik untuk mempelajari lebih lanjut materi perdagangan internasional, lakukanlah pengayaan berikut!

## Petunjuk Pengerjaan

---

1. Carilah data Neraca Pembayaran Indonesia (NPI) selama dua tahun terakhir pada web Badan Pusat Statistik (BPS)!
2. Sajikan laporan dalam kertas HVS bisa berupa *print out* ataupun tulis tangan!

Berdasarkan data yang kalian peroleh, jawablah pertanyaan berikut!

1. Jelaskan kondisi neraca perdagangan Indonesia berdasarkan data yang kalian peroleh!
2. Sajikan analisis data yang kalian peroleh dalam infografis!

**KEMENTERIAN PENDIDIKAN, KEBUDAYAAN, RISET, DAN TEKNOLOGI  
REPUBLIK INDONESIA, 2022**

Buku Siswa Ekonomi untuk SMA/MA Kelas XII

Penulis: Aisyah Nurjanah dan Yeni Fitriani

ISBN 978-602-427-972-1 (jil.2)

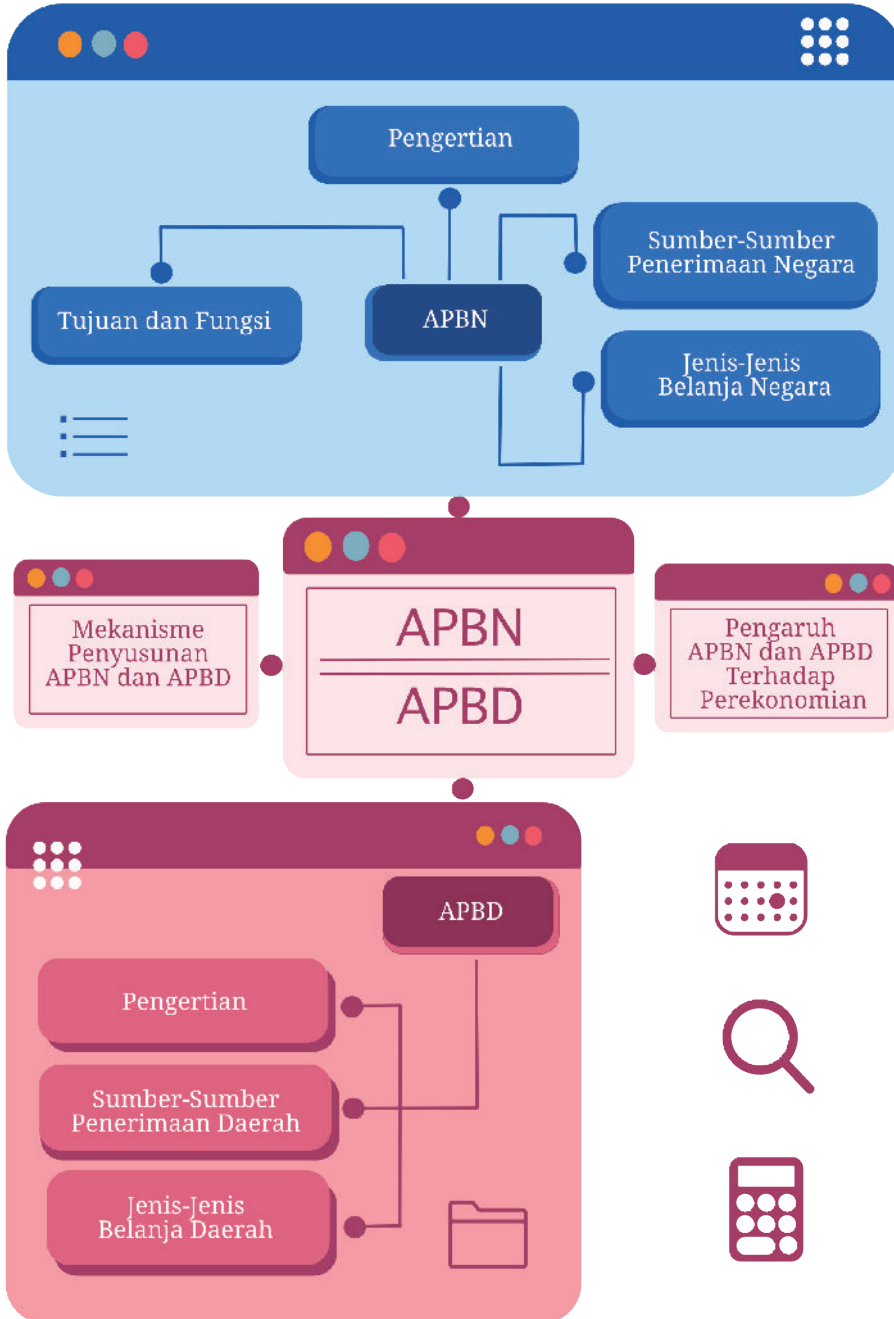


### **BAB 3**

## **APBN dan APBD**

Pada bab ini, kalian akan mempelajari konsep APBN, APBD, dan pajak, serta manfaatnya bagi perekonomian. Selama pembelajaran, kalian akan diminta untuk menjelaskan konsep APBN dan APBD, mengidentifikasi jenis penerimaan dan belanja, menjelaskan manfaat APBN dan APBD, serta menjelaskan konsep pajak.

## Peta Konsep





## Pertanyaan Pemantik

Dalam upaya melakukan pembangunan ekonomi di berbagai sektor, pemerintah harus membuat anggaran belanja barang dan jasa. Dari mana pemerintah mendapatkan penerimaan untuk alokasi tersebut? Untuk apa saja pemerintah membelanjakan pendapatannya? Bagaimana pula langkah pemerintah dalam membuat anggaran belanja?



## Kata Kunci

APBN, APBD, alokasi, distribusi, anggaran, perpajakan, otorisasi, dan stabilisasi.



## Apersepsi

Pada bab sebelumnya, kalian telah mempelajari ekonomi internasional. Kegiatan ekonomi internasional berkaitan erat dengan ekspor dan impor yang memiliki dampak pada penerimaan dan belanja negara. Penerimaan dan belanja negara merupakan hal yang penting bagi pembangunan ekonomi di suatu daerah sehingga harus dirancang secara teliti agar tujuan dari negara dapat tercapai.

Pada bab ini kalian akan mempelajari Anggaran Pendapatan dan Belanja Negara (APBN) serta Anggaran Pendapatan dan Belanja Daerah (APBD). Dengan mempelajari bab ini, kalian diharapkan mampu memahami fungsi dari APBN dan APBD sehingga dapat memenuhi kewajiban pada negara sesuai peran sebagai seorang pelajar.

## A. APBN



**Gambar 3.1** Vaksinasi Covid-19

*Sumber: Aprilia Dwi Adha/ANTARA FOTO (2021)*

Sudahkah kalian melakukan vaksinasi Covid-19? Tahukah kalian bahwa vaksinasi yang dilaksanakan oleh pemerintah merupakan salah satu upaya pemerintah dalam menanggulangi Covid-19 yang memengaruhi anggaran negara. Selama pandemi Covid-19, Indonesia menambah anggaran di sektor kesehatan. Hal ini dilakukan sebagai upaya pemerintah untuk menekan laju kenaikan kasus Covid-19. Hal tersebut tentunya menyebabkan perubahan anggaran negara dari segi belanja dan pendapatan. Lalu, bagaimana Indonesia mengatur pendapatan dan belanja negara?

Pada dasarnya, negara memiliki kesamaan seperti setiap individu yang membutuhkan dana untuk memenuhi kebutuhan hidupnya. Secara makro, negara juga membutuhkan dana untuk membangun perekonomian. Maka dari itu, sebuah negara akan menyusun anggaran

pendapatan dan belanja negara secara berkala. Anggaran pendapatan dan belanja negara inilah yang dikenal dengan istilah APBN. Untuk mengawali pemahaman terkait APBN, kalian diminta untuk mengerjakan lembar aktivitas berikut.

## **Aktivitas 1**

### **Konsep APBN**

#### **Petunjuk Pengerjaan**

1. Kerjakanlah tugas berikut secara berkelompok!
2. Lakukan pengamatan dan tuliskan fasilitas umum yang ada di lingkungan sekitar kalian!
3. Carilah informasi dari berbagai sumber, seperti jurnal, internet, dan sebagainya!
4. Setelah selesai, buat simpulan dalam bentuk tabel dan presentasikan hasilnya di depan kelas!

No.	Fasilitas Umum	Penyedia Fasilitas Umum	Sumber Dana Pembangunan Fasilitas Umum
1.			
2.			
3.			
4.			
5.			

## 1. Pengertian APBN

Anggaran belanja dan pendapatan negara (APBN) adalah rencana keuangan tahunan pemerintahan negara Indonesia yang disetujui oleh Dewan Perwakilan Rakyat (DPR). APBN berisi daftar sistematis dan terperinci yang memuat rencana penerimaan dan pengeluaran negara selama satu tahun anggaran (1 Januari–31 Desember). APBN setiap tahun ditetapkan dengan undang-undang.

Merujuk Pasal 12 Undang-Undang Nomor 1/2004 tentang Perbendaharaan Negara, APBN dalam satu tahun anggaran meliputi beberapa hal berikut.

- a. Hak pemerintah pusat yang diakui sebagai penambah nilai kekayaan.
- b. Kewajiban pemerintah pusat yang diakui sebagai pengurang nilai kekayaan.
- c. Penerimaan yang perlu dibayar kembali dan atau pengeluaran yang akan diterima kembali, baik pada tahun anggaran yang bersangkutan maupun pada tahun-tahun anggaran berikutnya.

Semua penerimaan dan pengeluaran negara dilakukan melalui rekening kas umum negara (Pasal 12 Ayat (2) UU Nomor 1/2004). Tahun anggaran adalah periode pelaksanaan APBN selama 12 bulan. Sejak tahun 2000, Indonesia menggunakan tahun kalender sebagai tahun anggaran, yaitu dari tanggal 1 Januari sampai dengan tanggal 31 Desember. Sebelumnya, tahun anggaran dimulai tanggal 1 April sampai dengan 31 Maret tahun berikutnya. Penggunaan tahun kalender sebagai tahun anggaran ini kemudian dikukuhkan dalam UU Keuangan Negara dan UU Perbendaharaan Negara (Pasal 4 UU Nomor 17/2003 dan Pasal 11 UU Nomor 1/2004).



## 2. Fungsi APBN

APBN merupakan instrumen untuk mengatur pengeluaran dan pendapatan negara dalam rangka membiayai pelaksanaan kegiatan pemerintahan dan pembangunan, mencapai pertumbuhan ekonomi, meningkatkan pendapatan nasional, mencapai stabilitas perekonomian, dan menentukan arah serta prioritas pembangunan secara umum.

Penyusunan APBN memiliki tujuan sebagai pedoman pengeluaran dan penerimaan negara agar terjadi keseimbangan yang dinamis dalam melaksanakan kegiatan kenegaraan untuk meningkatkan produksi dan kesempatan kerja dalam rangka meningkatkan pertumbuhan ekonomi. Oleh karena itu, anggaran pendapatan dan belanja negara harus dirumuskan sedemikian rupa yang mencakup perkiraan periodik dari semua pengeluaran dan sumber penerimaan. Berdasarkan Undang-Undang Nomor 17 Tahun 2003 Pasal 3, dikemukakan tentang fungsi APBN sebagai berikut.

### a. Fungsi otorisasi

Fungsi otorisasi, artinya anggaran negara menjadi dasar untuk melaksanakan pendapatan dan belanja pada tahun yang bersangkutan sehingga setiap kegiatan yang berdasar dari APBN dapat dipertanggungjawabkan karena berlandaskan hukum.

### b. Fungsi perencanaan

Fungsi perencanaan, artinya anggaran negara menjadi pedoman bagi pemerintah dalam merencanakan kegiatan pada tahun yang bersangkutan.

### c. Fungsi pengawasan

Fungsi pengawasan, artinya anggaran negara menjadi pedoman untuk menilai apakah kegiatan penyelenggaraan pemerintahan negara sesuai dengan ketentuan yang telah ditetapkan.

#### **d. Fungsi alokasi**

Fungsi alokasi, artinya anggaran negara harus diarahkan untuk mengurangi pengangguran dan pemborosan sumber daya, serta meningkatkan efisiensi dan efektivitas perekonomian.

#### **e. Fungsi distribusi**

Fungsi distribusi, artinya kebijakan anggaran negara harus memperhatikan rasa keadilan dan kepatutan.

#### **f. Fungsi stabilisasi**

Fungsi stabilisasi, artinya anggaran pemerintah menjadi alat untuk memelihara dan mengupayakan keseimbangan fundamental perekonomian.

### **3. Tujuan APBN**

Setiap tahun pemerintah menyusun anggaran penerimaan dan belanja negara. Secara umum, tujuan penyusunan APBN sebagai berikut.

- a. Memelihara stabilitas ekonomi dan mencegah terjadinya defisit anggaran.
- b. Sebagai pedoman penerimaan dan pengeluaran negara dalam rangka pelaksanaan kegiatan kenegaraan serta peningkatan kesempatan kerja yang diarahkan pada peningkatan pertumbuhan ekonomi dan kemakmuran masyarakat.

Untuk menambah pemahaman kalian tentang fungsi dan tujuan APBN, kalian diminta untuk mengerjakan lembar aktivitas berikut.

## Aktivitas 2

# Menganalisis Fungsi APBN

## Petunjuk Pengerjaan

1. Bacalah artikel berikut ini dengan saksama!
2. Jawablah tiga pertanyaan yang tersedia!
3. Kemukakan jawaban kalian di depan kelas dengan panduan guru!

### **Menkeu: Anggaran Perlinsos Naik Seiring Guncangan yang Dirasakan Masyarakat**

Jakarta, 01/07/2022 Kemenkeu – Menteri Keuangan (Menkeu), Sri Mulyani Indrawati mengatakan bahwa anggaran perlindungan sosial (Perlinsos) mengalami kenaikan seiring dengan guncangan yang dirasakan oleh masyarakat. Realisasi perlinsos semester I tahun 2022, yaitu sebesar Rp188,2 triliun atau tumbuh 5,1 persen dibandingkan tahun lalu.

“Kalau kita lihat dari kenaikan, terdiri dari kenaikan yang non-Covid maupun yang Covid *related* atau yang berhubungan dengan pemulihan ekonomi,” ungkap Menkeu pada Rapat Kerja Badan Anggaran dengan Menkeu dan Gubernur Bank Indonesia di Jakarta, Jumat (01/07).

Dalam paparannya, Menkeu menyampaikan realisasi ini dipengaruhi oleh peningkatan realisasi baik dari belanja kementerian/lembaga (K/L), belanja non-K/L, dan transfer ke daerah dan dana desa (TKDD). Realisasi belanja K/L antara lain

berupa program kartu sembako, pelaksanaan penyaluran bantuan langsung tunai (BLT) minyak goreng, pemberian bantuan pedagang kaki lima warung dan nelayan, serta pelaksanaan penyaluran program keluarga harapan (PKH). Sementara itu, pada realisasi belanja non K/L terdapat peningkatan realisasi subsidi energi yang meliputi subsidi BBM, listrik dan LPG, serta pada realisasi TKDD terjadi peningkatan penyaluran BLT Desa.

“Program prakerja, PKH, kartu sembako, BLT desa, dan subsidi untuk bunga kredit usaha rakyat (KUR) dirasakan oleh berbagai jutaan masyarakat kita,” jelas Menkeu.

Adapun yang menikmati perlinsos ini, yaitu program prakerja yang diterima oleh 1,7 juta peserta; PKH untuk 10 juta keluarga penerima manfaat (KPM); kartu sembako yang diterima 18,7 juta KPM; BLT Desa diterima 7,5 Juta KPM; dan subsidi bunga KUR untuk 3,7 juta debitur.

“Inilah yang menjadi salah satu *blanket* atau selimut untuk *shock absorber* APBN agar masyarakat kita terlindungi dari guncangan, baik itu ancaman pandemi sebelumnya dan sekarang adalah guncangan kenaikan harga,” pungkas Menkeu. (dj/dep/hpy)

Sumber: <https://www.kemenkeu.go.id/publikasi/berita/menkeu-anggaran-perlinsos-naik-seiring-guncangan-yang-dirasakan-masyarakat/>

Berdasarkan artikel tersebut, jawablah pertanyaan-pertanyaan berikut dengan benar!

1. Mengapa anggaran Perlinsos perlu ditingkatkan?
2. Apa dampak bagi perekonomian dengan meningkatnya anggaran perlindungan sosial?
3. Termasuk fungsi APBN manakah kebijakan pemerintah tersebut?

## 4. Sumber-Sumber Penerimaan Negara

Sumber penerimaan pendapatan negara adalah semua penerimaan negara yang berasal dari pendapatan dalam negeri dan penerimaan hibah. Berikut beberapa sumber penerimaan pendapatan negara di Indonesia.

### a. Pajak

Pajak merupakan pungutan yang dilakukan oleh pemerintah (pusat/daerah) terhadap wajib pajak tertentu berdasarkan undang-undang. Proses pungutan tersebut dapat dipaksakan tanpa ada imbalan langsung bagi pembayar pajak. Sumber pajak ada yang berasal dari dalam negeri dan dari kegiatan internasional seperti impor. Pajak yang berasal dari dalam negeri di antaranya pajak penambahan nilai (PPN), pajak bumi dan bangunan, serta pajak penghasilan, sedangkan pajak yang berasal dari kegiatan ekonomi internasional di antaranya bea masuk dan bea keluar.

### b. Penerimaan negara bukan pajak

Penerimaan negara bukan pajak adalah seluruh penerimaan pemerintah pusat yang sumbernya bukan dari pajak. Contoh penerimaan negara bukan pajak adalah penerimaan yang bersumber dari pengelolaan BUMN, penerimaan dari pemanfaatan sumber daya alam, penerimaan dari jasa pelayanan yang diberikan pemerintah, penerimaan yang bersumber dari utang luar negeri, dan penerimaan lainnya yang diatur dalam undang-undang.

### c. Penerimaan hibah

Penerimaan hibah dapat diperoleh pemerintah dari individu, institusi, atau pemerintah dari dalam maupun luar negeri. Tidak ada kewajiban bagi pemerintah untuk mengembalikan hibah. Hibah bukan penerimaan pemerintah yang dapat dipastikan perolehannya karena tergantung pada kerelaan dari pihak yang memberi hibah.

## 5. Jenis-Jenis Pengeluaran Negara

Dalam anggaran pendapatan dan belanja negara (APBN) Indonesia, pengeluaran negara/pemerintah (*government expenditure*) dibedakan menjadi dua, yaitu pengeluaran yang dimasukkan sebagai kelompok belanja dan pengeluaran yang dimasukkan sebagai kelompok pengeluaran pembiayaan.

Belanja negara dibagi menjadi dua, yaitu belanja pemerintah pusat dan belanja pemerintah daerah. Belanja negara diarahkan untuk mencapai tujuan pembangunan nasional sehingga fokus belanja pemerintah ada pada pembangunan sumber daya manusia, penguatan infrastruktur, dan program perlindungan sosial.

Untuk menambah pemahaman kalian tentang jenis-jenis pengeluaran APBN, kalian diminta untuk mengerjakan lembar aktivitas berikut.

### Aktivitas 3

## Menganalisis Jenis Pengeluaran Pemerintah

### Petunjuk Pengerjaan

1. Kerjakanlah tugas di bawah ini secara berkelompok!
2. Carilah artikel terbaru mengenai jenis pengeluaran pemerintah!
3. Data bisa kalian peroleh melalui internet atau sumber lainnya!
4. Presentasikan hasil diskusi kelompok kalian di depan kelas!

5. Berdasarkan data tersebut jawablah pertanyaan di bawah ini!

No.	Pertanyaan
1.	Identifikasi apa saja jenis-jenis pengeluaran pemerintah!
2.	Identifikasi jenis belanja apa saja yang memiliki pengeluaran tertinggi!
3.	Carilah data APBN 3 tahun terakhir, kemudian bandingkan uraian penerimaan dan belanja tiap tahunnya!

## 6. Mekanisme Penyusunan APBN

Mekanisme penyusunan APBN merujuk pada Undang-Undang Nomor 17 Tahun 2003 tentang Keuangan Negara. APBN disusun sesuai kebutuhan penyelenggaraan pemerintahan negara dan kemampuan dalam menghimpun pendapatan negara. Penyusunan APBN tiap tahun akan disesuaikan dengan rencana kerja pemerintah tahunan (RKP) sehingga tujuan negara dapat tercapai. Untuk menambah pemahaman kalian tentang mekanisme penyusunan APBN, kalian diminta untuk mengerjakan lembar aktivitas berikut.

### Aktivitas 4

## Mekanisme Penyusunan APBN

### Petunjuk Pengerjaan

1. Kerjakanlah tugas berikut secara berkelompok!
2. Buatlah bagan mekanisme penyusunan APBN berdasarkan Undang-Undang Nomor 17 Tahun 2003!
3. Diskusikan jawaban dengan kelompok kalian!
4. Carilah informasi tambahan dari berbagai sumber, seperti buku ajar yang tersedia, internet, atau *link* berikut!

<https://peraturan.bpk.go.id/Home/Details/43017/uu-no-17-tahun-2003>



5. Setelah selesai, diskusikan hasil pekerjaan kelompok kalian dengan kelompok lain!


## Aktivitas 5

# Merancang APBN

## Petunjuk Pengerjaan

1. Kerjakanlah tugas berikut secara individu atau berpasangan!
2. Lakukan simulasi perancangan APBN melalui web kementerian keuangan pada *link* berikut!

<https://simulasiapbn.kemenkeu.go.id/education/introduction>



3. Setelah selesai, diskusikan hasil pekerjaan kelompok kalian dengan kelompok lain!



## 7. Pengaruh APBN terhadap Perekonomian

APBN merupakan salah satu sarana yang efektif untuk mengarahkan dan mempermudah pencapaian tujuan pembangunan negara. Dengan adanya APBN, setiap tindakan negara dapat dikendalikan sesuai dengan tujuan APBN. Melalui APBN juga, kita dapat mengetahui prioritas apa yang sedang mendapat perhatian dari pemerintah sehingga seluruh masyarakat dapat menyatukan pandangan dan gerak langkah bersama pemerintah dalam mewujudkan pembangunan yang menjadi prioritas utama sesuai dengan yang digariskan dalam APBN.

Pengaruh APBN terhadap perekonomian akan sejalan dengan fungsi APBN, yaitu sebagai instrumen kebijakan fiskal. Melalui APBN pemerintah dapat menjalankan kebijakan fiskal yang bertujuan menjaga stabilitas dan mengembangkan perekonomian negara, mendorong investasi, dan dapat mengatur tingkat harga.

### B. APBD

Pembangunan suatu negara tentunya tidak terlepas dari peran tiap-tiap daerah di Indonesia. Pembangunan daerah yang optimal merupakan bagian dari pembangunan nasional. Selain itu, pembangunan daerah juga menjadi tolok ukur keberhasilan suatu daerah dalam mengelola sumber daya yang dimilikinya dan cara daerah tersebut dalam memajukan perekonomian juga kesejahteraan masyarakatnya. Pada hal ini, APBD memiliki peran penting untuk mewujudkan pembangunan daerah.

APBD adalah singkatan dari anggaran pendapatan dan belanja daerah. Rencana keuangan tahunan daerah yang tertuang dalam APBD akan dibahas dan disetujui bersama oleh pemerintah daerah dan DPRD, kemudian ditetapkan dengan peraturan daerah (Permendagri Nomor 13 Tahun 2006). Dengan demikian, APBD merupakan alat/wadah untuk menampung berbagai kepentingan publik yang diwujudkan melalui

berbagai kegiatan dan program yang pada saat tertentu manfaatnya benar-benar akan dirasakan oleh masyarakat. Tahun anggaran APBD meliputi masa satu tahun, mulai dari tanggal 1 Januari sampai dengan tanggal 31 Desember.

## 1. Tujuan APBD

Secara umum, APBD disusun sebagai pedoman penerimaan dan pengeluaran penyelenggaraan negara di daerah dalam rangka pelaksanaan otonomi daerah untuk meningkatkan kegiatan ekonomi, produksi, menambah kesempatan kerja, serta meningkatkan pertumbuhan ekonomi dan kesejahteraan masyarakat. Secara khusus APBD disusun dengan tujuan sebagai berikut.

- a. Meningkatkan pembangunan sarana dan prasarana daerah yang efisien, efektif, kompetitif, dan terjangkau.
- b. Mewujudkan pembangunan daerah yang adil, ramah lingkungan, dan berbasis peran serta masyarakat.
- c. Menciptakan rasa aman dan adanya penegakkan keadilan.
- d. Meningkatkan pelayanan kepada masyarakat.
- e. Memperluas lapangan pekerjaan dan kesejahteraan masyarakat.

Untuk menambah pemahaman kalian tentang tujuan APBD, kalian diminta untuk mengerjakan lembar aktivitas berikut.

## **Aktivitas 6**

# Tujuan APBD

## **Petunjuk Pengerjaan**

1. Carilah artikel terbaru mengenai hubungan APNB dengan kebijakan fiskal!
2. Data bisa diperoleh melalui internet atau sumber lainnya!
3. Berdasarkan artikel yang kalian peroleh, jawablah pertanyaan di bawah ini!

No.	Pertanyaan
1.	Identifikasi apa saja tujuan APBD!
2.	Mengapa APBD harus selaras dengan arah kebijakan fiskal?
3.	Apa yang harus dilakukan pemerintah daerah agar APBD dapat selaras dengan arah kebijakan fiskal?

## **2. Sumber-Sumber Penerimaan Daerah**

Dalam penyusunan APBD, pemerintah daerah memiliki sumber-sumber pendapatan, baik pemberian dari pemerintah pusat maupun dari pendapatan asli daerah. Adapun sumber-sumber pendapatan daerah sebagai berikut.

- a. Pendapatan asli daerah (PAD), yaitu pendapatan yang diperoleh daerah yang dipungut sesuai dengan peraturan. PAD bertujuan untuk memberikan dana pada pelaksanaan otonomi suatu daerah sesuai dengan potensinya. Penerimaan asli daerah merupakan penerimaan yang bersumber dari pajak daerah, retribusi, keuntungan atau laba dari pengelolaan BUMD, dan hasil pengelolaan

kekayaan daerah yang dipisahkan dan sumber lain pendapatan asli daerah yang sah.

1) Retribusi

Retribusi merupakan pungutan yang dilakukan oleh pemerintah daerah berdasarkan undang-undang yang manfaatnya dapat dirasakan langsung. Contohnya retribusi pada bidang kebersihan yang manfaatnya dapat dirasakan langsung oleh pembayar retribusi dengan diangkutnya sampah oleh petugas.

2) Keuntungan atau laba dari pengelolaan Badan Usaha Milik Daerah (BUMD)

Pemerintah daerah mendapatkan penerimaan yang bersumber dari keuntungan Badan Usaha Milik Daerah (BUMD) yang dijalankan. Pendapatan daerah dibutuhkan untuk mewujudkan kesejahteraan masyarakat melalui keuntungan atau laba dari kegiatan yang dilakukan BUMD, baik dari berbagai sektor seperti perhubungan, sumber daya mineral, maupun pariwisata.

- b. Dana Perimbangan merupakan dana yang dialokasikan dari APBN untuk daerah sebagai pengeluaran pemerintah pusat untuk belanja daerah, yang meliputi dana bagi hasil, dana alokasi umum, dan dana alokasi khusus.
- c. Lain-lain pendapatan daerah yang sah merupakan pendapatan daerah selain dari pendapatan asli daerah dan dana perimbangan, seperti dana darurat, hibah, dan sumber lainnya yang sesuai dengan peraturan perundang-undangan.

### 3. Belanja Pemerintah Daerah

Berdasarkan PP Nomor 58 Tahun 2005 tentang Pengelolaan Keuangan, belanja daerah meliputi semua pengeluaran dari rekening kas umum daerah yang mengurangi ekuitas dana lancar dan merupakan

kewajiban daerah dalam satu tahun anggaran yang tidak akan diperoleh pembayarannya kembali oleh daerah. Menurut Undang-Undang Nomor 33 tahun 2004, belanja daerah adalah semua kewajiban daerah yang diakui sebagai pengurang nilai kekayaan bersih dalam periode tahun anggaran yang bersangkutan.

Belanja daerah dibagi menjadi empat jenis belanja yaitu, belanja operasional, belanja modal, belanja tidak terduga, dan belanja transfer. Belanja operasional merupakan belanja sehari-hari yang dikeluarkan oleh pemerintah daerah, contohnya belanja pegawai, belanja bunga, dan subsidi. Belanja modal adalah pengeluaran untuk menambah aset tetap yang memberikan manfaat lebih dari satu tahun. Belanja tidak terduga merupakan belanja untuk keadaan darurat maupun musibah. Belanja transfer adalah pengeluaran pemerintah daerah provinsi kepada pemerintah daerah kabupaten/kota.

Untuk menambah pemahaman kalian tentang pendapatan dan belanja daerah, kalian diminta untuk mengerjakan lembar aktivitas berikut.

## **Aktivitas 7**

# Proyek Menganalisis APBD

## **Petunjuk Pengerjaan**

1. Kerjakanlah tugas berikut secara berkelompok!
2. Buatlah laporan berdasarkan instruksi berikut!
  - a. Carilah data APBD 3 tahun terakhir berdasarkan kota/kabupaten tempat tinggal kalian!
  - b. Identifikasi pendapatan apa saja yang termasuk kedalam PAD!

- c. Identifikasi belanja apa saja yang termasuk ke dalam belanja operasional!
  - d. Analisis informasi apa saja yang kalian peroleh dari data APBD tersebut!
  - e. Carilah data APBD kota lain dan bandingkan dengan APBD kota/kabupaten kalian!
3. Buatlah laporan dalam bentuk Microsoft Word dengan ukuran kertas A4, font *Times New Roman*, font size 12, dan spasi 1,5!
  4. Boleh mencari informasi di buku ajar yang tersedia atau dari sumber lain, seperti jurnal dan internet!
  5. Setelah selesai, presentasikan hasil pekerjaan kelompok kalian dengan kelompok lain!

## Aktivitas 8

# Alokasi Dana Desa

## Petunjuk Pengerjaan

1. Bacalah artikel dalam *link* berikut ini dengan saksama!

[https://www.medcom.id/nasional/daerah/ob3X080k-bupati-lebak-klaim-dana-desa-berhasil-kurangi-kemiskinan.](https://www.medcom.id/nasional/daerah/ob3X080k-bupati-lebak-klaim-dana-desa-berhasil-kurangi-kemiskinan)



2. Jawablah pertanyaan yang tersedia!
3. Kemukakan jawaban kalian di depan kelas dengan panduan guru!

## **Bupati Lebak Klaim Dana Desa Berhasil Kurangi Kemiskinan**

Lebak: Pemerintah Kabupaten Lebak, Provinsi Banten, optimistis pencairan dana desa (DD) dari pemerintah pusat mampu mengatasi kemiskinan melalui pembangunan infrastruktur dan peningkatan ekonomi di daerah itu.

“Kami mendorong DD dapat mensejahterakan masyarakat desa,” kata Wakil Bupati Lebak Ade Sumardi di Citorek, Kabupaten Lebak, Sabtu, 10 September 2022.

Ia mengatakan penyaluran DD yang digulirkan Presiden Joko Widodo sejak tahun 2014 membuat Kabupaten Lebak terbebas dari status sebagai daerah tertinggal. Saat ini, menurutnya, infrastruktur di desa-desa di daerah ini relatif baik, seperti jalan desa dan jalan lingkungan, termasuk jembatan semi permanen dan jembatan gantung.

Selain itu, pertumbuhan ekonomi masyarakat pedesaan meningkat karena DD bisa dialokasikan untuk pelatihan dan pembinaan pelaku usaha mikro, kecil, dan menengah (UMKM). Oleh karena itu, pemerintah daerah optimistis pencairan DD dapat mengatasi persoalan masyarakat kecil dan pengangguran, terkait penyesuaian harga bahan bakar minyak (BBM).

“Kita diperkirakan mendapatkan DD sekitar Rp250 miliar untuk 340 desa dan dipastikan dapat menggulirkan pertumbuhan ekonomi masyarakat,” kata Ade.

Dia menyebutkan bahwa masing-masing desa menerima antara Rp700 juta hingga Rp1,2 miliar dari DD yang dialokasikan APBN dengan prioritas penggunaan untuk pembangunan dan pemberdayaan masyarakat. Dia berharap DD digunakan untuk

kegiatan usaha ekonomi masyarakat sehingga meningkatkan pendapatan warga dan untuk kegiatan usaha ekonomi desa guna meningkatkan pendapatan asli desa.

*Sumber: <https://www.medcom.id/nasional/daerah/ob3X080k-bupati-lebak-klaim-dana-desaberhasil-kurangi-kemiskinan>.*

Berdasarkan artikel di atas jawablah pertanyaan-pertanyaan berikut dengan benar!

1. Manakah pernyataan berikut yang sesuai dengan isi artikel yang berjudul “Bupati Lebak Klaim Dana Desa Berhasil Kurangi Kemiskinan”. Berilah tanda centang (✓) pada kolom “Sesuai” jika pernyataan sesuai dan berilah tanda centang (✓) pada kolom “Tidak Sesuai” jika pernyataan tidak sesuai.

No.	Pernyataan	Sesuai	Tidak Sesuai
1.	Dana desa berhasil mengurangi kemiskinan di daerah Lebak.	<input type="radio"/>	<input type="radio"/>
2.	Pembangunan infrastruktur tidak bisa mengurangi kemiskinan di Lebak.	<input type="radio"/>	<input type="radio"/>
3.	Pembinaan dan pelatihan UMKM merupakan pengeluaran yang diambil dari dana desa.	<input type="radio"/>	<input type="radio"/>
4.	Dana desa diberikan kepada masyarakat untuk memenuhi kebutuhan akan BBM.	<input type="radio"/>	<input type="radio"/>

2. Menurut pendapat kalian, apakah dana desa dapat meningkatkan sumber penerimaan daerah ?



## 4. Mekanisme Penyusunan APBD

Sebelumnya kalian telah mempelajari mekanisme penyusunan APBN. Apakah persamaan dan perbedaan penyusunan APBN dan APBD? Secara umum, tahapan penyusunan APBN dengan APBD tidak jauh berbeda. Adapun langkah-langkah penyusunan APBD adalah sebagai berikut.

- a. Pemerintah daerah membuat perencanaan APBD, yang disebut dengan rancangan APBD (RAPBD).
- b. Selanjutnya RAPBD akan diusulkan kepada DPRD. Apabila DPRD setuju, RAPBD akan disahkan menjadi APBD. Namun sebaliknya, apabila DPRD tidak setuju, pemerintah dapat melaksanakan pengeluaran sebesar APBD tahun sebelumnya.
- c. Pelaksanaan APBD yang telah disetujui dan ditetapkan DPRD melalui peraturan daerah akan dituangkan melalui keputusan gubernur/walikota/bupati.

Untuk menambah pemahaman kalian tentang mekanisme penyusunan APBN, kalian diminta untuk mengerjakan lembar aktivitas berikut.


### Aktivitas 9

## Mekanisme Penyusunan APBD

### Petunjuk Pengerjaan

1. Kerjakanlah tugas berikut ini secara mandiri!
2. Buatlah bagan mekanisme penyusunan APBD berdasarkan Undang-Undang Nomor 17 Tahun 2003!
3. Carilah informasi dari buku ajar atau sumber lain seperti jurnal dan internet atau melalui *link* berikut.

<https://peraturan.bpk.go.id/Home/Details/43017/uu-no-17-tahun-2003>



## 5. Pengaruh APBD terhadap Perekonomian

APBD sebagai instrumen kebijakan fiskal berpengaruh pada perekonomian melalui alokasi dan distribusi anggaran pemerintah daerah. Distribusi anggaran yang sesuai dengan kebutuhan daerah diharapkan dapat meningkatkan kesejahteraan masyarakat dan dapat meningkatkan pembangunan ekonomi.

Melalui alokasi anggaran di berbagai sektor, APBD juga diharapkan mampu menstabilkan perekonomian, meningkatkan pertumbuhan ekonomi, dan pemerataan pendapatan masyarakat. Selain dari pembangunan di berbagai sektor, APBD juga menjadi salah satu pertimbangan investor dari pihak swasta dalam menanamkan modalnya.

Untuk menambah pemahaman tentang APBN dan APBD, kalian diminta untuk mengerjakan lembar aktivitas berikut.


### Aktivitas 10

## TTS APBN dan APBD

### Petunjuk Pengerjaan

1. Kerjakanlah tugas berikut secara mandiri!
2. Isilah teka-teki berikut dengan jawaban yang tepat!

- Carilah informasi dari buku ajar atau sumber lain, seperti jurnal dan internet!



### **Mendatar:**

- Pihak yang mengesahkan/menolak RAPBN.
- Salah satu sumber penerimaan pusat.
- Kondisi ketika penerimaan lebih kecil daripada pengeluaran.
- Anggaran pendapatan dan belanja negara.
- Salah satu pengeluaran rutin.
- Salah satu penerimaan daerah.
- Salah satu unsur penerimaan negara yang paling penting.
- Fungsi ini diarahkan untuk mengurangi pengangguran dan pemborosan sumber daya.
- Kondisi ketika penerimaan lebih besar daripada pengeluaran.
- Bantuan dari pihak lain yang bersifat hadiah.

### **Menurun:**

- Alokasi dana pengeluaran pemerintah pusat yang disesuaikan dengan kebutuhan.
- Komponen dalam APBN.

5. Fungsi untuk melaksanakan pendapatan dan belanja pada tahun bersangkutan.
7. Pungutan pemerintah bersifat resmi dan memberikan balas jasa secara langsung.
8. Dana peruntukan daerah dari pemerintah pusat.

## C. Perpajakan



**Gambar 3.2** Pembangunan jalan merupakan salah satu penerapan fungsi pajak.

*Sumber: Ardiasyah/ANTARA (2018)*

Pada materi APBN dan APBD diketahui penyumbang penerimaan pemerintah paling besar adalah dari pajak. Selain itu, masyarakat sering kali diimbau agar menjadi warga yang taat pajak melalui iklan layanan masyarakat maupun papan reklame. Hal tersebut dilakukan pemerintah guna meningkatkan kesadaran masyarakat dalam membayar pajak. Mengapa masyarakat harus membayar pajak? Apa manfaat dari pajak? Pada bahasan ini, kalian akan mempelajari konsep perpajakan.

## 1. Pengertian Pajak

Menurut Kamus Besar Bahasa Indonesia (KBB), pajak merupakan pungutan wajib. Secara istilah, pajak adalah iuran atau pungutan wajib yang dibayarkan rakyat untuk negara dan akan digunakan untuk kepentingan pemerintah dan masyarakat umum.

Pajak merupakan salah satu sumber dana pemerintah dalam melakukan pembangunan, baik pemerintah pusat maupun pemerintah daerah. Pemungutan pajak dapat dipaksakan karena dilaksanakan berdasar kepada undang-undang negara Indonesia. Definisi atau pengertian pajak juga tertulis dalam Pasal 1 Undang-Undang Nomor 28 Tahun 2007. Dalam pasal tersebut dijelaskan bahwa pajak adalah kontribusi wajib kepada negara oleh perseorangan atau kelompok. Pajak bersifat memaksa, berdasarkan undang-undang, dengan tidak mendapatkan timbal balik secara langsung, dan digunakan untuk kepentingan negara bagi sebesar-besarnya kemakmuran rakyat.

Berdasarkan definisi tersebut, terdapat ciri-ciri melekat dari pajak sebagai berikut.

- a. Iuran wajib warga negara.
- b. Bersifat memaksa.
- c. Tidak ada timbal balik secara langsung.
- d. Digunakan untuk melayani kepentingan masyarakat umum.

## 2. Fungsi Pajak

Pajak yang dipungut dari rakyat ke negara memiliki beberapa fungsi berikut.

### a. Fungsi anggaran

Pajak berfungsi sebagai sumber utama kas negara. Pajak yang dikumpulkan atau diperoleh dari rakyat digunakan untuk membiayai pengeluaran negara. Makin banyak masyarakat yang membayar pajak,

makin tinggi pula penerimaan negara. Pajak yang diterima negara akan kembali kepada masyarakat dalam bentuk pembangunan infrastruktur atau perluasan lapangan kerja.



**Gambar 3.3** Penerimaan calon aparatur sipil negara (ASN) merupakan salah satu bentuk perluasan lapangan kerja

*Sumber: M. Agung Rajasa/ANTARA FOTO (2020)*

## **b. Fungsi alokasi**

Fungsi ini menekankan bahwa pajak harus digunakan untuk mendanai atau menyediakan barang atau jasa yang dibutuhkan masyarakat. Menurut fungsi ini, pajak merupakan salah satu sumber pembiayaan bagi pemerintah dalam melaksanakan proses pembangunan di semua sektor. Misalnya untuk pembangunan sarana dan prasarana atau bahkan membangun infrastruktur.

## **c. Fungsi distribusi**

Fungsi distribusi disebut pula fungsi pemerataan. Menurut fungsi ini, pajak digunakan untuk pembangunan ekonomi. Artinya pajak yang diterima pemerintah digunakan dan disebarakan ke berbagai sektor pembangunan dan berbagai wilayah pembangunan, baik di tingkat

pusat maupun tingkat daerah. Distribusi hasil pajak juga harus adil, tidak tercemar unsur korupsi, kolusi, dan nepotisme (KKN), serta tidak memprioritaskan kampung halaman pejabat. Dengan adanya pendistribusian pajak yang merata, diharapkan dapat memperbaiki taraf hidup masyarakat.

#### **d. Fungsi regulasi**

Menurut fungsi ini, pajak berfungsi sebagai salah satu alat pengatur kegiatan ekonomi. Fungsi mengatur tersebut antara lain, mengatasi inflasi melalui kebijakan fiskal, memberikan perlindungan terhadap barang produksi, dan alat pendorong ekspor.

### **3. Manfaat Pajak**

Pajak merupakan sumber utama penerimaan negara. Tanpa pajak, sebagian besar kegiatan negara sulit untuk dapat dilaksanakan. Uang pajak digunakan untuk pembiayaan dalam rangka memberikan rasa aman bagi seluruh lapisan masyarakat. Setiap warga negara bebas menikmati fasilitas atau pelayanan dari pemerintah yang semuanya dibiayai dengan uang yang berasal dari pajak. Oleh karena itu, kita wajib bertanggung jawab dalam penggunaan dan penyaluran pajak tersebut.

Pajak juga digunakan untuk memberikan subsidi pada barang-barang yang sangat dibutuhkan masyarakat; membayar utang negara; dan digunakan untuk membantu usaha mikro, kecil, dan menengah (UMKM), baik dalam hal pembinaan maupun modal. Dengan demikian, jelas bahwa peranan penerimaan pajak bagi suatu negara menjadi penting dalam menunjang jalannya roda pemerintahan dan pembiayaan pembangunan.

Pajak juga mempunyai peranan dalam pembangunan di bidang pendidikan. Pendidikan mempunyai peran penting dalam peningkatan kualitas sumber daya manusia. Pendidikan memengaruhi secara penuh



pertumbuhan ekonomi suatu bangsa. Pembangunan pendidikan di Indonesia membutuhkan biaya yang besar. Kebutuhan biaya pendidikan tersebut sebagian besar bergantung pada penerimaan pajak.

Untuk menambah pemahaman kalian tentang manfaat pajak, kalian diminta untuk mengerjakan lembar aktivitas berikut.


## Aktivitas 11

### **Game: Yuk Taat Pajak**

#### Petunjuk Pengerjaan

1. Kerjakan tugas berikut secara berkelompok!
2. Kunjungilah *link* di bawah ini atau dengan memindai QR-code berikut!

<https://edukasi.pajak.go.id/game/01-Yuk-Taata-Pajak-Yuk/>



3. Lakukan simulasi atau permainan pajak secara mandiri dengan bimbingan guru!
4. Setelah selesai, buatlah simpulan dan presentasikan hasil simulasi kalian!



## **Aktivitas 12**

### **Manfaat Pajak**

#### **Petunjuk Pengerjaan**

1. Kerjakanlah tugas berikut secara berkelompok!
2. Lakukan pengamatan dan pendataan berbagai fasilitas umum di lingkungan tempat tinggal kalian!
3. Carilah informasi pendukung dari berbagai sumber, seperti buku, jurnal, atau internet!
4. Setelah selesai, buat simpulan dalam bentuk tabel dan presentasikan hasil pekerjaan kelompok kalian dengan kelompok lain!

No.	Fasilitas Umum	Manfaat bagi Masyarakat


## **Aktivitas 13**

### **Literasi Pajak**

#### **Petunjuk Pengerjaan**

1. Bacalah artikel pada *QR code* berikut ini dengan saksama!

<https://www.pajak.com/pajak/lasi-sebut-50-persen-masyarakat-paham-literasi-pajak/>



2. Jawablah pertanyaan yang tersedia!
3. Kemukakan jawaban kalian di depan kelas dengan panduan guru!

## **LSI Sebut 50 Persen Masyarakat Paham Literasi Pajak**

Pajak.com, Jakarta - Menurut Direktur Eksekutif LSI Djayadi Hanan, jumlah masyarakat Indonesia yang memahami dan tidak memahami mengenai pajak dan manfaatnya cukup berimbang. Djayadi memaparkan, dari studi yang dilakukan LSI menemukan bahwa secara umum sekitar 50% responden paham akan pajak dan manfaat uang pajak. Adapun sebanyak 40% lebih responden mengaku kurang atau tidak paham mengenai pajak dan manfaatnya.

Angka tersebut diperoleh dari survei nasional yang dilakukan LSI pada periode 13-21 Agustus 2022 melalui wawancara tatap muka dengan 1.220 sampel responden berusia 17 tahun atau lebih atau sudah menikah. Lebih jauh, survei itu menyebutkan sebanyak 16,1% paham akan pajak, sementara 14,6% paham manfaat uang pajak. Kemudian, sebanyak 34,8% memilih cukup paham akan pajak dan 31,2% cukup paham dengan manfaat uang pajak.

“Sebanyak 26,2% responden memilih kurang paham mengenai pajak, sedangkan 29,4% memilih kurang paham dengan manfaat

pajak. Sementara, 18,7% tidak paham soal pajak dan 20,5% tidak paham mengenai manfaat pajak. Selanjutnya, 4,2% dan 4,3% masing-masing tidak tahu atau tidak menjawab terkait pajak dan manfaat uang pajak.” Demikian rincian survei yang disampaikan dalam Rilis Survei Nasional LSI pekan ini.

Berdasarkan artikel di atas, jawablah pertanyaan berikut dengan benar!

1. Manakah pernyataan berikut yang sesuai dengan isi wacana yang berjudul “LSI Sebut 50 Persen Masyarakat Paham Literasi Pajak” berilah tanda centang (✓) pada kolom “sesuai” jika pernyataan sesuai dan berilah tanda centang (✓) pada kolom “Tidak Sesuai” jika pernyataan tidak sesuai.

No.	Pernyataan	Sesuai	Tidak Sesuai
1.	Masyarakat lebih paham akan pajak dibanding manfaat pajak.	<input type="radio"/>	<input type="radio"/>
2.	Masyarakat yang tidak memahami pajak sebesar 50%.	<input type="radio"/>	<input type="radio"/>
3.	Secara umum, masyarakat cukup paham akan pajak dan manfaat pajak.	<input type="radio"/>	<input type="radio"/>
4.	Literasi pajak dapat dimulai dari usia 17 tahun.	<input type="radio"/>	<input type="radio"/>

2. Menurut pendapat kalian, apa dampak yang akan terjadi apabila literasi pajak masyarakat rendah?

## 4. Jenis-Jenis Pajak

Pernahkah kalian membeli barang di pusat perbelanjaan dan saat hendak membayar ternyata harga yang tertera di etalase toko berbeda dengan harga yang harus kalian bayar saat di kasir? Jika kalian pernah mengalami peristiwa tersebut, berarti kalian mengetahui salah satu jenis pajak.

Pajak terbagi menjadi dua, yakni pajak pusat dan pajak daerah.

### a. Pajak Pusat

Pajak pusat adalah pajak yang dikelola oleh direktorat jenderal pajak dan digunakan untuk membiayai belanja rutin negara dan pembangunan. Contoh pajak pusat adalah pajak penghasilan (PPh), pajak pertambahan nilai (PPN), pajak penjualan barang mewah (PPnBM), bea materai, PBB tertentu.

### b. Pajak Daerah

Pajak daerah adalah semua jenis pajak yang dikelola oleh pemerintah daerah. Hasil dari pajak tersebut nantinya akan dimasukkan ke dalam sumber penerimaan daerah dan dialokasikan untuk membiayai pengeluaran pemerintah daerah. Contoh dari pajak daerah adalah pajak restoran, pajak hiburan, pajak kendaraan bermotor, Bea Perolehan Hak atas Tanah dan Bangunan (BPHTB), PBB perdesaan dan perkotaan, dan pajak daerah lainnya.

## I. Bentuk soal AKM

Pilihlah jawaban yang tepat!

1. Perhatikan tabel berikut.

No.	Kebijakan Pemerintah dalam APBN
1.	Meningkatkan pemberian subsidi harga barang-barang kebutuhan pokok.
2.	Meningkatkan subsidi langsung ke objek sasaran produktif yaitu kepada pengusaha lemah.
3.	Meningkatkan pajak pada saat Inflasi.
4.	Meningkatkan pengeluaran pemerintah pada saat deflasi.

Berdasarkan data tabel tersebut, kebijakan pemerintah yang dilakukan dalam rangka melaksanakan fungsi APBN, yaitu ....

- A. fungsi stabilisasi  
B. fungsi otorisasi  
C. fungsi distribusi  
D. fungsi alokasi  
E. fungsi sosial
2. Peranan APBN dalam pembangunan ekonomi berfungsi secara sinergis berperan besar dalam perbaikan dan penguatan fundamental perekonomian. Berikut ini adalah hal-hal yang dapat memperkuat fundamental perekonomian, *kecuali* ....
- A. mendorong pertumbuhan ekonomi yang berkelanjutan  
B. menciptakan dan memperluas lapangan kerja produktif untuk menurunkan tingkat pengangguran  
C. meningkatkan PDB dan kualitas hidup seperti transportasi, telekomunikasi, kelistrikan, dan irigasi  
D. menjaga stabilitas ekonomi khususnya stabilitas harga  
E. memperbaiki distribusi pendapatan dalam mengurangi tingkat kemiskinan

3. Dari hasil penerimaan pajak, pemerintah menggunakannya untuk membiayai berbagai program seperti pengobatan gratis, raskin, jaringan pengaman sosial, dan sebagainya. Dalam hal ini APBN berfungsi ....
- A. stabilisasi                      C. efisiensi                      E. pemerataan  
B. alokasi                              D. distribusi
4. Pajak dikumpulkan atau diperoleh dari rakyat, digunakan untuk membiayai pengeluaran negara, misalnya membayar gaji Aparatur Sipil Negara (ASN). Berdasarkan ilustrasi di atas, fungsi pajak yang dimaksud adalah ....
- A. distribusi                      C. stabilisasi                      E. regulasi  
B. alokasi                              D. budgeter
5. Pajak digunakan pemerintah untuk menjaga stabilitas ekonomi negara. Salah satu contoh caranya yaitu pengenaan biaya atau tarif untuk barang-barang impor. Dampak yang ditimbulkan dari pengenaan fungsi pajak ini adalah ....
- A. produk dalam negeri dapat bersaing dengan produk luar negeri  
B. pemerintah mengurangi pengeluaran karena pajaknya berkurang  
C. harga barang-barang impor akan menjadi murah  
D. masyarakat akan lebih senang untuk membeli barang impor  
E. pemerintah menambah subsidi untuk pengusaha
6. Negara sedang menghadapi masalah inflasi, oleh karena itu pemerintah berencana untuk mengatasinya dengan menerapkan kebijakan fiskal. Kebijakan yang dapat dilakukan adalah ....
- A. menambah anggaran subsidi untuk masyarakat  
B. mengurangi tarif pajak untuk masyarakat ekonomi menengah ke bawah  
C. melaksanakan belanja sesuai anggaran yang telah dibuat dan disahkan

- D. mengurangi tabungan negara untuk subsidi masyarakat  
E. mengurangi dan menunda beberapa belanja negara
7. Pemerintah daerah meningkatkan pembagian penerimaan pajak yang lebih besar pada APBD tahun 2023 untuk pembangunan bagi daerah tertinggal. Berdasarkan ilustrasi tersebut, fungsi pajak adalah ....
- A. alokasi                      C. mengatur                      E. pembiayaan  
B. distribusi                      D. stabilisasi
8. Dana yang diperuntukan bagi daerah-daerah untuk mengurangi ketimpangan, dengan mempertimbangkan keutuhan dan potensi daerah adalah ....
- A. dana bagi hasil                      D. pendapatan hibah  
B. dana alokasi umum                      E. dana darurat  
C. dana alokasi khusus
9. Ana membeli Album Seventeen dari Korea, ia harus membayar lebih dari harga sebenarnya karena terkena pajak. Berdasarkan ilustrasi tersebut pajak yang dikenakan pada Ana adalah ....
- A. PPN                      C. PBB                      E. PD  
B. PPh                      D. PPnBM
10. Jeonghan adalah tenaga kerja asing yang bekerja di Indonesia, maka dari itu, ia harus membayar pajak atas penerimaan yang ia terima sesuai aturan yang berlaku di Indonesia. Pajak yang dikenakan pada Jeonghan adalah ....
- A. PPN                      C. PBB                      E. PD  
B. PPh                      D. PPnBM

## II. Pilihan Ganda Komplek

Pilihlah tiga (3) jawaban yang tepat dengan cara memberikan tanda centang (✓)!

11. Berikut merupakan fungsi APBN.

- menjaga kestabilan arus uang dan arus barang sehingga dapat mencegah terjadinya inflasi maupun deflasi yang tinggi
- membiayai seluruh pengeluaran negara di berbagai sektor pembangunan dan di berbagai departemen
- pendorong pertumbuhan ekonomi dan pengendali tingkat inflasi
- pedoman pengeluaran dan penerimaan negara agar terjadi keseimbangan yang dinamis
- meningkatkan produksi dan kesempatan kerja dalam rangka meningkatkan pertumbuhan ekonomi

12. Berikut yang termasuk belanja pemerintah pusat.

- dana bagi hasil
- pembiayaan bunga utang
- subsidi BBM
- dana alokasi umum
- belanja pegawai
- belanja barang
- dana alokasi khusus
- belanja modal

13. Berikut yang termasuk komponen APBN.

- Bea Perolehan Hak atas Tanah dan Bangunan (BPHTB)
- pos retribusi
- bagi hasil dan bantuan keuangan
- bagian laba BUMN
- subsidi BBM dan non BBM

14. Berikut ini yang merupakan sumber penerimaan pemerintah daerah.

- pajak penghasilan
- bagian laba BUMN



- pajak dan retribusi
- bea masuk dan pajak ekspor
- bagian daerah dari bagi hasil

15. Berikut ini merupakan jenis pajak tidak langsung.

- pajak penghasilan
- pajak bumi dan bangunan
- pajak pertambahan nilai
- pajak penjualan atas barang mewah
- bea impor

16. Berikut ini yang termasuk pajak wilayah kabupaten/kota.

- cukai
- pajak hiburan
- pajak reklame
- pajak pengambilan dan pengelolaan bahan galian
- pajak bahan bakar kendaraan bermotor

17. Berikut mekanisme penyusunan APBN.

- diajukan dan disetujui oleh pemerintah daerah
- dirancang oleh pemerintah bersama dengan DPR
- dirancang oleh pemerintah pusat
- diajukan dan disetujui oleh pemerintah pusat

18. Berikut ini merupakan penerimaan pemerintah pusat.

- PPh dan PBB
- pajak kendaraan bermotor
- hibah
- dana perimbangan
- bagian laba BUMN

19. Berikut kebijakan anggaran untuk mengendalikan inflasi.

- anggaran disusun dengan mengurangi belanja negara

- anggaran disusun dengan menambah belanja negara
- anggaran disusun dengan menyeimbangkan antara belanja dan penerimaan
- anggaran disusun dengan meningkatkan penerimaan melalui menaikkan pajak

20. Berikut ini fungsi alokasi APBN.

- pembiayaan jalan tol
- pemberian bantuan operasional sekolah (BOS)
- pembiayaan untuk penerangan jalan
- perancangan pembuatan jalan raya
- pembuatan bendungan

### III. Kategori Benar-Salah

Berikan centang (✓) pada jawaban "Benar" atau "Salah"!

No.	Pertanyaan	Kategori	
		Benar	Salah
21.	Sejumlah anggaran dalam APBN akan digunakan oleh pemerintah untuk membangun infrastruktur seperti perbaikan jalan, membangun terminal, stasiun kereta api, dan lainnya, merupakan fungsi alokasi APBN.	<input type="radio"/>	<input type="radio"/>
22.	Tujuan APBN adalah untuk mendorong pertumbuhan ekonomi dan pengendali tingkat inflasi, karena penerimaan dan pengeluaran APBN digunakan untuk meningkatkan pertumbuhan ekonomi.	<input type="radio"/>	<input type="radio"/>
23.	Apabila Dewan Perwakilan Rakyat tidak menyetujui Rancangan APBN, pemerintah pusat dapat melakukan pengeluaran setinggi-tingginya sebesar angka APBN tahun anggaran sebelumnya.	<input type="radio"/>	<input type="radio"/>

24.	Pajak bisa digunakan sebagai instrumen penerapan kebijakan dalam rangka mengatasi inflasi di suatu negara.	<input type="radio"/>	<input type="radio"/>
25.	Pemungutan pajak ditujukan untuk membiayai pengeluaran negara yang tertuang di dalam APBN.	<input type="radio"/>	<input type="radio"/>
26.	Pengalokasian dana BOS merupakan penerapan fungsi stabilisasi dari APBN.	<input type="radio"/>	<input type="radio"/>
27.	Pajak penghasilan diterapkan kepada setiap warga negara yang sudah memiliki pendapatan dengan tanpa nominal minimal.	<input type="radio"/>	<input type="radio"/>
28.	Penerapan bea masuk yang tinggi untuk produk luar negeri merupakan salah satu manfaat pajak untuk mengatur stabilitas ekonomi.	<input type="radio"/>	<input type="radio"/>
29.	APBN merupakan pedoman untuk menilai kegiatan penyelenggaraan pemerintah negara sesuai dengan ketentuan yang ditetapkan.	<input type="radio"/>	<input type="radio"/>
30.	Rancangan APBD (RAPBD) harus dirancang bersama pemerintah pusat dan disetujui oleh DPRD.	<input type="radio"/>	<input type="radio"/>

## IV. Uraian

Jawablah pertanyaan berikut dengan tepat!

1. APBN memuat penerimaan negara. Uraikan macam-macam penerimaan pemerintah pusat!
2. APBN memegang peranan penting dalam pelaksanaan negara. Tanpa adanya anggaran, kegiatan operasional suatu negara tidak akan berjalan. APBN juga merupakan komponen yang akan memengaruhi perekonomian suatu negara. Analisislah pengaruh APBN terhadap perekonomian suatu negara!
3. Pajak merupakan pungutan yang bersifat memaksa. Uraikan manfaat pajak bagi perekonomian suatu negara!

4. Pajak berbeda dengan pungutan resmi lainnya yang ditetapkan pemerintah. Uraikan perbedaan pajak dengan pungutan resmi lainnya!
5. Dilihat berdasarkan cara pemungutannya, pajak dibedakan menjadi dua yaitu pajak langsung dan pajak tidak langsung. Jelaskan perbedaan dua jenis pajak tersebut! Berikan contohnya!

## Refleksi

Kalian telah belajar tentang APBN dan APBD. Manfaat apa yang kalian dapatkan setelah mempelajari bab ini? Apa peran yang kalian lakukan yang dapat mempengaruhi APBN dan APBD?

## Pengayaan

### Petunjuk Pengerjaan

1. Membaca atau mencari informasi terkait fungsi pajak dalam pembangunan.
2. Peserta didik dapat mengunjungi *link* atau memindai QR-Code berikut.

[https://edukasi.pajak.go.id/images/buku\\_pt/Materi\\_Terbuka/BAB\\_IV.pdf](https://edukasi.pajak.go.id/images/buku_pt/Materi_Terbuka/BAB_IV.pdf)



**KEMENTERIAN PENDIDIKAN, KEBUDAYAAN, RISET, DAN TEKNOLOGI  
REPUBLIK INDONESIA, 2022**

Buku Siswa Ekonomi untuk SMA/MA Kelas XII

Penulis: Aisyah Nurjanah dan Yeni Fitriani

ISBN 978-602-427-972-1 (jil.2)

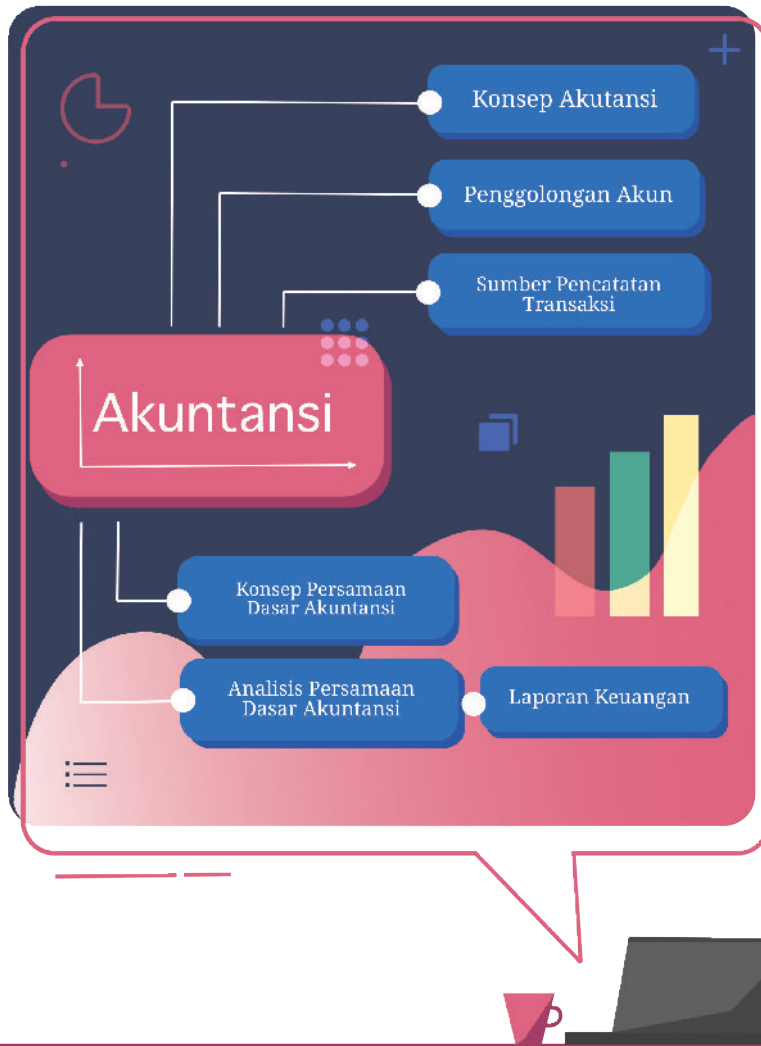


## **BAB 4**

# **Akuntansi**

Pada bab ini, kalian akan mempelajari akuntansi. Setelah mempelajari bab ini, kalian mampu memahami peranan akuntansi sebagai alat bantu dalam pengambilan keputusan keuangan dan ekonomi, serta menyajikan hasil laporan keuangan pada salah satu badan usaha di Indonesia.

## Peta Konsep





## Pertanyaan Pemantik

Pernahkah kalian melihat sebuah perusahaan yang mengalami kerugian sehingga menyebabkan kebangkrutan?

Bagaimana kalian bisa mengetahui perusahaan mengalami kerugian?



## Kata Kunci

Akun, akuntan, aset, beban, ekuitas, laporan keuangan, liabilitas, modal, pendapatan, utang, prinsip akuntansi, dan persamaan dasar akuntansi.



## Apersepsi

Di kelas XI, kalian sudah mempelajari konsep badan usaha. Kinerja sebuah badan usaha akan terlihat dari laporan keuangan yang dibuatnya. Adanya informasi laporan keuangan yang relevan dan dapat dipercaya menjadi modal utama keberlangsungan usaha badan usaha tersebut. Setelah membuat perencanaan usaha atau bisnis, lebih lanjut kalian perlu mempelajari tentang bagaimana menyusun laporan keuangan sesuai dengan jenis usaha yang kalian rintis, agar kalian mampu mengambil keputusan berdasarkan laporan keuangan yang telah dibuat. Laporan keuangan perusahaan digunakan oleh investor, karyawan, pemberi pinjaman, pemasok, kreditur usaha lainnya, pelanggan, pemerintah, lembaga-lembaga lainnya, dan masyarakat untuk menentukan berbagai macam keputusan bisnis. Pada bab ini, kalian akan mempelajari materi akuntansi yang meliputi konsep ilmu akuntansi, pencatatan persamaan dasar akuntansi, dan laporan keuangan. Sejumlah informasi yang tidak termuat dalam buku ini dapat kalian cari dari sumber lain yang relevan. Pelajarilah bab ini dengan saksama!



**Gambar 4.1** Laporan keuangan perusahaan.

*Sumber: Unsplash/Scott Graham (2016)*

## A. Persamaan Dasar Akuntansi

### 1. Konsep Akuntansi

Menurut Ikatan Akuntan Indonesia (IAI), akuntansi merupakan ilmu yang mencatat, menganalisis, dan mengomunikasikan transaksi atau kejadian ekonomi suatu entitas bisnis yang bertujuan untuk menghasilkan dan melaporkan informasi yang relevan bagi berbagai pihak yang berkepentingan dalam mengambil keputusan.

Menurut Rudianto (2012), akuntansi merupakan sistem informasi yang menghasilkan laporan kepada pihak-pihak yang berkepentingan mengenai aktivitas ekonomi dan kondisi suatu badan usaha.

Berdasarkan pengertian tersebut, terdapat tiga poin penting dari pengertian akuntansi, sebagai berikut.



- a. Proses mencatat, menganalisis, dan mengomunikasikan transaksi ekonomi.
- b. Produk yang dihasilkan merupakan laporan keuangan.
- c. Digunakan sebagai dasar dalam pengambilan keputusan. Itulah sebabnya akuntansi disebut sebagai bahasa bisnis (*language of business*).

Sebagai bahasa bisnis, akuntansi memberikan banyak manfaat bagi badan usaha. Adapun manfaatnya, sebagai berikut.

- a. Menyediakan informasi ekonomi suatu perusahaan yang akan digunakan sebagai dasar pengambilan keputusan.
- b. Memberikan gambaran tentang kondisi perusahaan dari satu periode ke periode yang lain.
- c. Merupakan bentuk pertanggungjawaban kepada pihak luar perusahaan.

Orang atau pihak yang bekerja di bidang akuntansi disebut sebagai akuntan. Pernahkan kalian mendengar profesi akuntan?

Untuk menambah pengetahuan kalian tentang profesi akuntan, kerjakan aktivitas berikut.

## **Aktivitas 1**

# **Apakah Kalian Tahu Profesi Akuntan?**

## **Bagian 1 - Wawancara**

### **Petunjuk Pengerjaan**

1. Kerjakan aktivitas ini secara mandiri!
2. Lakukan wawancara kepada saudara atau keluarga yang berprofesi akuntan.

3. Ajukan berbagai pertanyaan yang terdapat dalam tabel berikut ini sebagai alat bantu kalian dalam melakukan wawancara.

No.	Daftar Pertanyaan	Jawaban
1.	Berapa lama kalian menjadi seorang akuntan?	
2.	Apa yang kalian kerjakan sebagai seorang akuntan di kantor tempat kalian bekerja?	
3.	Apa tahapan yang sudah kalian lalui untuk menjadi seorang akuntan?	
4.	Bagaimana etika profesi yang harus kalian jalankan sebagai seorang akuntan?	
5.	Apa suka dan duka yang kalian alami selama bekerja sebagai seorang akuntan?	

Buatlah kesimpulan mengenai profesi akuntan berdasarkan wawancara yang telah kalian lakukan!

## Bagian 2 - Mencari Informasi tentang Profesi Akuntan



### Petunjuk Pengerjaan

1. Kerjakan aktivitas ini secara mandiri!
2. Carilah informasi dari sumber yang relevan terkait profesi akuntan di Indonesia!
3. Berdasarkan hasil pencarian yang telah kalian lakukan, jawablah pertanyaan berikut!

### Pertanyaan

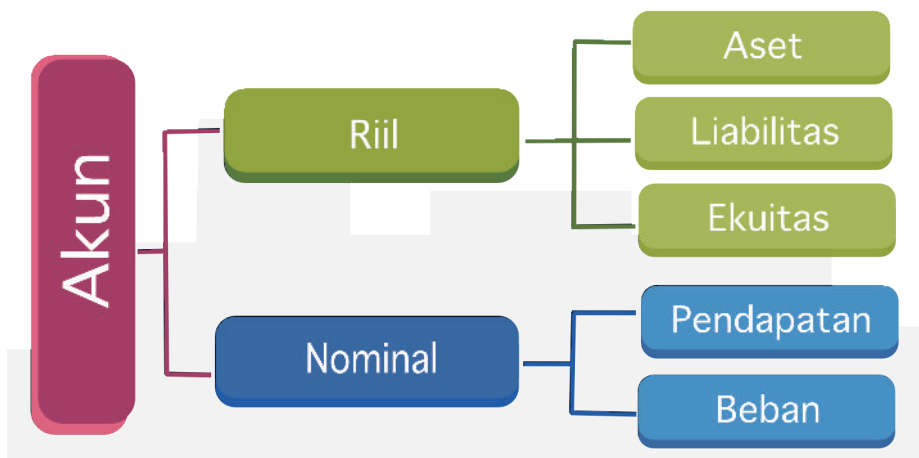
1. Apa yang dikerjakan oleh seorang akuntan?

2. Apa saja jenis profesi akuntan yang ada di Indonesia?
3. Apa langkah yang harus dilakukan apabila ingin berprofesi sebagai seorang akuntan?
4. Isilah daftar berikut ini!

Kelebihan Profesi Akuntan	Kekurangan Profesi Akuntan

## 2. Penggolongan Akun

Akun disebut juga rekening atau perkiraan, merupakan daftar untuk mencatat perubahan aset, liabilitas, ekuitas, perubahan pendapatan dan beban dari transaksi keuangan. Dengan kata lain, akun merupakan alat untuk mencatat transaksi. Terdapat dua kelompok akun, yaitu akun riil dan akun nominal. Adapun pembagiannya sebagai berikut.



Bagan 1. Penggolongan akun

## **a. Akun riil**

Akun riil merupakan akun yang tercantum dalam laporan posisi keuangan. Menurut standar akuntansi keuangan (SAK) entitas mikro kecil dan menengah (EMKM), akun riil terdiri dari tiga akun, sebagai berikut.

### **1) Aset**

Aset merupakan sumber daya yang dikuasai oleh entitas sebagai hasil usaha di masa lalu, manfaat ekonomi di masa depan diharapkan akan diperoleh oleh entitas. Aset juga diartikan sebagai sumber daya yang dimiliki oleh perusahaan, berupa kumpulan dari berbagai harta atau kekayaan yang dimiliki perusahaan dan bisa dipergunakan untuk memperoleh penghasilan selama tahun berjalannya perusahaan.

### **2) Liabilitas**

Liabilitas merupakan kewajiban terkini entitas yang timbul dari peristiwa masa lalu, penyelesaiannya mengakibatkan arus keluar dari sumber daya entitas yang mengandung manfaat ekonomi. Sederhananya, liabilitas merupakan kewajiban perusahaan untuk membayar kepada pihak lain berupa sejumlah uang maupun barang di masa depan akibat transaksi di masa lalu.

### **3) Ekuitas**

Ekuitas merupakan hak residual atas aset entitas setelah dikurangi liabilitasnya. Dengan kata lain, ekuitas merupakan salah satu sumber dana perusahaan dari pemilik perusahaan maupun pemegang saham.

## **b. Akun nominal**

Akun nominal akan tercantum di laporan laba rugi di akhir periode. Akun ini terdiri dari dua akun, sebagai berikut.

### 1) Pendapatan

Merupakan hasil yang diperoleh dari kegiatan usaha atau berasal dari kegiatan operasional perusahaan yang mengalir ke kas perusahaan.

### 2) Beban

Merupakan uang yang dikeluarkan oleh perusahaan untuk menunjang kegiatan operasionalnya.

Untuk menambah informasi tentang penggolongan akun, kerjakan lembar aktivitas berikut!



## Aktivitas 2

# Penggolongan Akun

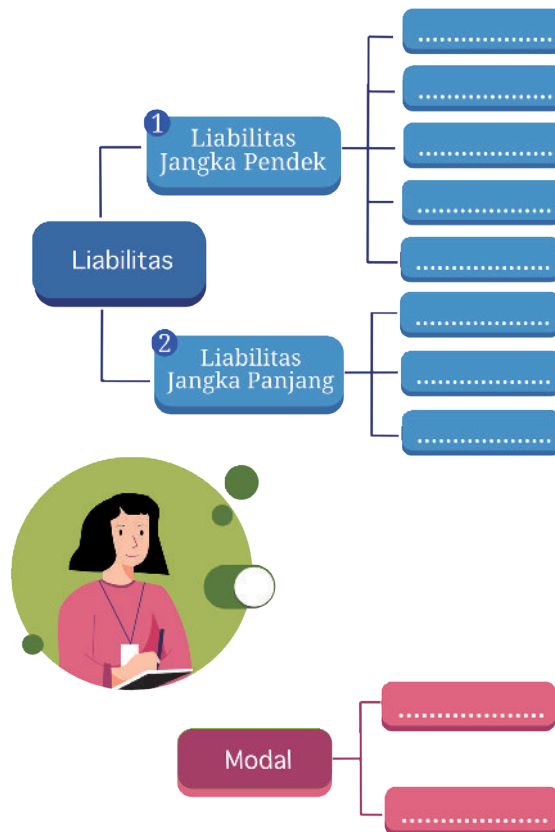


## Petunjuk Pengerjaan

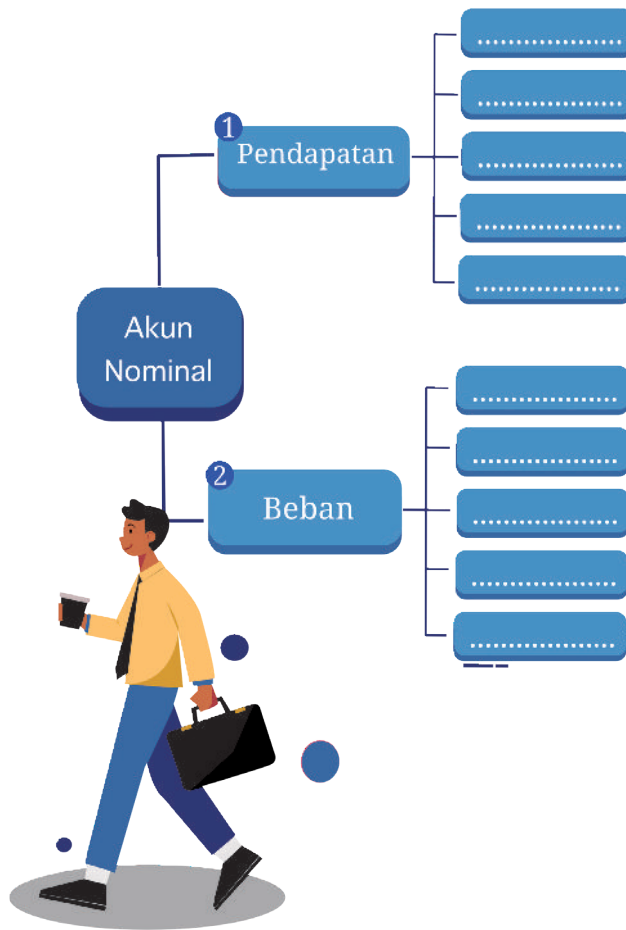
1. Kerjakan aktivitas ini secara berkelompok!
2. Buatlah bagan penggolongan akun dalam karton dengan cara mengelompokkan jenis-jenis akun di bawah ini sesuai dengan kelompoknya!
3. Presentasikan hasil pengerjaan kelompok kalian di depan kelas! Setelah itu, tempelkan kartonnya di dinding kelas!

Jenis-Jenis Akun		
Pendapatan jasa	Gedung/Bangunan	Utang dagang
Utang usaha	Peralatan	Pendapatan diterima dimuka
Piutang usaha	Beban asuransi	Beban sewa
Utang obligasi	Mesin	Kendaraan

Jenis-Jenis Akun		
Laba penjualan aset	Beban listrik, air, dan telepon	Sewa dibayar dimuka
Pendapatan penjualan barang	Pendapatan usaha	Biaya yang masih harus dibayar
Surat berharga	Hak paten	Pendapatan bunga
Utang hipotek	<i>Goodwill</i>	Perlengkapan
Prive	Beban gaji	Beban bunga
Hak cipta	Modal pemilik	Utang bank
Utang gaji	Tanah	Kas







Untuk mengecek penguasaan materi kalian terhadap materi penggolongan akun, kerjakan aktivitas berikut.

### Aktivitas 3

## Post Test : Penggolongan Akun

### Petunjuk Pengerjaan

1. Kerjakan aktivitas ini secara mandiri!



2. Berilah tanda centang (✓) pada setiap kolom jawaban yang dianggap benar!

**Keterangan:**

A = Aset

L = Liabilitas

E = Ekuitas

P = Pendapatan

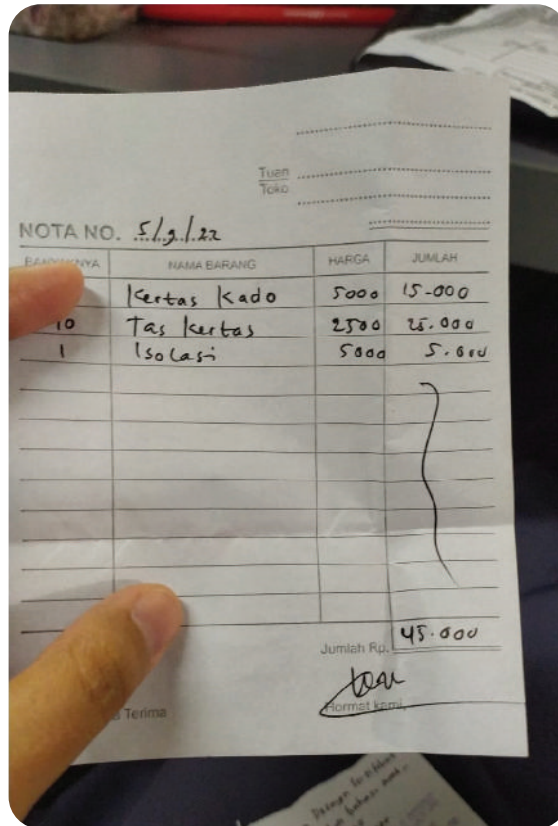
B = Beban

No.	Nama Akun	A	L	E	P	B
1.	Kas	<input type="radio"/>	<input type="radio"/>	<input type="radio"/>	<input type="radio"/>	<input type="radio"/>
2.	Pendapatan diterima dimuka	<input type="radio"/>	<input type="radio"/>	<input type="radio"/>	<input type="radio"/>	<input type="radio"/>
3.	Beban yang masih harus dibayar	<input type="radio"/>	<input type="radio"/>	<input type="radio"/>	<input type="radio"/>	<input type="radio"/>
4.	Kendaraan	<input type="radio"/>	<input type="radio"/>	<input type="radio"/>	<input type="radio"/>	<input type="radio"/>
5.	Beban gaji	<input type="radio"/>	<input type="radio"/>	<input type="radio"/>	<input type="radio"/>	<input type="radio"/>
6.	Beban bunga	<input type="radio"/>	<input type="radio"/>	<input type="radio"/>	<input type="radio"/>	<input type="radio"/>
7.	Pendapatan sewa	<input type="radio"/>	<input type="radio"/>	<input type="radio"/>	<input type="radio"/>	<input type="radio"/>
8.	Gaji yang masih harus dibayar	<input type="radio"/>	<input type="radio"/>	<input type="radio"/>	<input type="radio"/>	<input type="radio"/>
9.	Sewa diterima dimuka	<input type="radio"/>	<input type="radio"/>	<input type="radio"/>	<input type="radio"/>	<input type="radio"/>
10.	Prive	<input type="radio"/>	<input type="radio"/>	<input type="radio"/>	<input type="radio"/>	<input type="radio"/>
11.	Akumulasi penyusutan kendaraan	<input type="radio"/>	<input type="radio"/>	<input type="radio"/>	<input type="radio"/>	<input type="radio"/>
12.	Modal pemilik	<input type="radio"/>	<input type="radio"/>	<input type="radio"/>	<input type="radio"/>	<input type="radio"/>

No.	Nama Akun	A	L	E	P	B
13.	Beban penyusutan	<input type="radio"/>	<input type="radio"/>	<input type="radio"/>	<input type="radio"/>	<input type="radio"/>
14.	Piutang usaha	<input type="radio"/>	<input type="radio"/>	<input type="radio"/>	<input type="radio"/>	<input type="radio"/>
15.	Asuransi dibayar dimuka	<input type="radio"/>	<input type="radio"/>	<input type="radio"/>	<input type="radio"/>	<input type="radio"/>
16.	Laba penjualan kendaraan	<input type="radio"/>	<input type="radio"/>	<input type="radio"/>	<input type="radio"/>	<input type="radio"/>
17.	Utang hipotek	<input type="radio"/>	<input type="radio"/>	<input type="radio"/>	<input type="radio"/>	<input type="radio"/>
18.	Hak paten	<input type="radio"/>	<input type="radio"/>	<input type="radio"/>	<input type="radio"/>	<input type="radio"/>
19.	Perlengkapan kantor	<input type="radio"/>	<input type="radio"/>	<input type="radio"/>	<input type="radio"/>	<input type="radio"/>
20.	Pendapatan bunga	<input type="radio"/>	<input type="radio"/>	<input type="radio"/>	<input type="radio"/>	<input type="radio"/>

### 3. Sumber Pencatatan Transaksi

Pernahkan kalian menerima nota belanja setiap membeli sesuatu? Seberapa penting bukti transaksi dalam transaksi keuangan?



**Gambar 4.2** Contoh nota belanja.

*Sumber: Yeni Fitriani/Kemendikbudristek (2022)*

Setiap melakukan pencatatan transaksi keuangan, harus mengacu kepada dokumen sumber pencatatan atau yang biasa disebut bukti transaksi. Hal ini sangat diperlukan karena bukti transaksi merupakan bukti yang sah dan bisa dipertanggungjawabkan sebelum mencatatnya ke dalam transaksi keuangan. Terdapat dua jenis bukti transaksi, sebagai berikut.

**a. Bukti internal**

Bukti internal merupakan bukti yang bersumber dari dalam perusahaan itu sendiri. Contohnya adalah memo. Memo merupakan bukti transaksi yang dikeluarkan oleh pimpinan perusahaan atau pihak yang memiliki wewenang di perusahaan tersebut.

<b>CV. Imam Bonjol</b> Jl. Wanayasa Nomor 23 Bandung	Tanggal, 25 Agustus 2022
<b>MEMO</b>	
No : 037 /BM	
Dari : Kepala Bagian Personalia	
Kepada : Kepala Bagian Keuangan	
Hal : Laporan Pembagian Gaji Karyawan Bulan Agustus 2022	
	<b>Kepala Bagian Personalia</b>
	Deni Rahman, S. E

**Gambar 4.3** Contoh memo.

*Sumber: Yeni Fitriani/Kemendikbudristek (2022)*

## b. Bukti eksternal

Bukti eksternal merupakan bukti yang bersumber dari transaksi dengan pihak luar perusahaan. Adapun yang termasuk dalam bukti eksternal sebagai berikut.

### 1) Kuitansi

Menurut Kamus Besar Bahasa Indonesia (KBBI), kuitansi merupakan surat bukti penerimaan uang. Dengan kata lain, kuitansi merupakan bukti transaksi penerimaan uang atas pembayaran tertentu secara tunai.

<b>KUITANSI</b>	
No : .....	Tanggal : .....
Tanggal : .....	
Terima dari : .....	No : .....
.....	Tanggal : .....
Jumlah : .....	Terima dari : .....
.....	Terbilang : .....
Untuk Pembayaran : .....	Untuk Pembayaran : .....
.....	.....
.....	Rp. ....
.....	Penerima    Penyetor

**Gambar 4.4** Contoh kuitansi.

*Sumber: Yeni Fitriani/Kemendikbudristek (2022)*

## 2) Cek

Cek merupakan bukti transaksi yang berupa surat perintah untuk memindahkan sejumlah uang dari pihak yang memiliki rekening di suatu bank kepada pihak lain sesuai permintaan pemilik rekening.

**BANK MONAS** CEK No. 000001  
Jakarta, 15 April 2018

Atas penyerahan Cek ini bayarliah kepada..... *Ani Santika* ..... (atau-pembawa\*)  
uang sejumlah rupiah (dalam huruf) ..... *Seratus Lima Puluh Juta Rupiah* .....  
..... **Rp.150.000.000,00**

**9876543210**  
**Badu Saputra**

Materai  
Rp3000

*Badusaputra*  
**Badu Saputra**

\*) coret kata-kata "atau pembawa" apabila cek dimaksudkan untuk dibawarkan hanya kepada nasabah yang namanya tercantum dalam cek  
Tanda tangan (dan cap perusahaan) (jangan melewati garis batas ini)

Gambar 4.5 Contoh cek.

Sumber: Bank Indonesia (2020)

## 3) Nota kontan

Nota kontan merupakan bukti transaksi yang dikeluarkan oleh penjual kepada pembeli yang melakukan transaksi jual beli secara tunai.

<b>Toko Kecantikan "Rania"</b> Jl. Mawar Indah Nomor 17 Bandung	Kepada : Namira Beauty Tanggal : 11 Agustus 2022 NK : 1		
<b>NOTA KONTAN</b>			
Nama barang	Banyaknya	Harga	Jumlah
Shampoo	50	Rp 45,000	Rp 2,250,000
Conditioner	30	Rp 55,000	Rp 1,650,000
<b>Total</b>		<b>Rp 3,900,000</b>	
Barang yang sudah dibeli tidak dapat ditukar kembali			<b>KASSA 07</b>

Gambar 4.6 Contoh nota kontan.

Sumber: Yeni Fitriani/Kemendikbudristek (2022)

#### 4) Faktur

Faktur merupakan bukti transaksi yang dikeluarkan oleh penjual kepada pembeli untuk transaksi jual beli secara kredit.

<b>CV. Cantik</b> Jl. Banda Nomor 23 Bandung	Kepada Tanggal NK	: Namira Beauty : 13 Agustus 2022 : 1	
<b>FAKTUR</b>			
Nama barang	Banyaknya	Harga	Jumlah
Hair Dryer	5	Rp 500,000	Rp 2,500,000
Alat alat salon			Rp 7,800,000
<b>Total</b>		<b>Rp 10,300,000</b>	
<b>KASSA 07</b>			Hormat Kami,  <b>CV. Cantik</b>

**Gambar 4.7** Bukti transaksi faktur.

*Sumber: Yeni Fitriani/Kemendikbudristek (2022)*

#### 5) Nota debit

Nota debit merupakan bukti transaksi yang dikeluarkan oleh pembeli karena ingin mengembalikan barang yang telah dibeli kepada penjual. Nota debit digunakan untuk transaksi retur pembelian.

**PT. Trimukti Herang**  
**Jalan Banda Nomor 15**  
**Bandung**  
**Telepon (022) 324 4576**

### **NOTA DEBIT**

Kepada Yth.	Nomor	: ND/002/2022
CV. Makmur Jaya	Tanggal	: 23 Agustus 2022
Jalan Binong Nomor 21	Mata Uang	: Rupiah
Bandung	Atas No. Dokumen	: BTB/003/2022
	Tanggal Dokumen	: 12 Agustus 2022

<b>No</b>	<b>Keterangan</b>	<b>Jumlah</b>
1	Produk Reject 15 Pcs	Rp 7,000,000
<b>Total</b>		<b>Rp 7,000,000</b>

Hormat Kami,

**Rara Namira**  
Manajer Accounting

**Gambar 4.8** Contoh nota debit.

*Sumber: Yeni Fitriani/Kemendikbudristek (2022)*

## **6) Nota kredit**

Nota kredit merupakan bukti transaksi yang dikeluarkan oleh penjual apabila menerima pengembalian barang dari pembeli. Ketika terjadi suatu transaksi jual beli, dan pembeli mengembalikan barang yang telah dibeli karena rusak atau tidak sesuai pesanan maka bukti transaksi yang dikeluarkan oleh penjual tersebut dinamakan nota kredit. Sederhananya nota kredit digunakan untuk transaksi retur penjualan.

CV. Lawa Mandiri  
Jalan Malaka Nomor 57  
Bandung  
Telepon (021) 324 4576

### NOTA KREDIT

**Kepada**  
PT. Trimukti Herang  
Jalan Banda Nomor 15  
Bandung

Kami telah mengkredit rekening Saudara atas barang yang telah kami terima sebagai berikut:

No	Kode	Deskripsi	Unit	Harga Satuan	Jumlah
1		Hair Dryer	1	Rp 500,000	Rp 500,000
2		Televisi 32 Inch	1	Rp 5,000,000	Rp 5,000,000
<b>Total</b>					<b>Rp 5,500,000</b>

Hormat Kami,

**Irfan**  
Bagian Penjualan

**Gambar 4.9** Contoh nota kredit.

*Sumber: Yeni Fitriani/Kemendikbudristek (2022)*

## 4. Konsep Persamaan Dasar Akuntansi

Tahukah kalian persamaan dasar akuntansi? Menyusun persamaan dasar akuntansi merupakan langkah awal yang bisa dilakukan untuk mempermudah dalam melakukan proses pencatatan dan pelaporan transaksi keuangan.

Persamaan dasar akuntansi merupakan sistematika pencatatan yang menggambarkan suatu hubungan pada perusahaan yaitu meliputi pengaruh transaksi terhadap posisi keuangan perusahaan yang meliputi aset dengan sumber dananya.

Pada persamaan dasar akuntansi, kalian akan mengetahui posisi keseimbangan keuangan dari suatu perusahaan, dalam posisi keuangan tersebut terdapat aset, liabilitas, dan ekuitas.



Persamaan dasar akuntansi diperlukan untuk mengenalkan pencatatan transaksi keuangan. Setiap transaksi akan dicatat secara berpasangan dan menggunakan prinsip keseimbangan antara aktiva dengan pasiva. Adapun bentuk persamaan dasar akuntansi sebagai berikut.

$$\text{Aset} = \text{Liabilitas} + \text{Ekuitas}$$

Kolom sebelah kiri menunjukkan aktiva yang meliputi aset atau harta, sedangkan di kolom kanan menunjukkan adanya pasiva, meliputi utang dan modal. Sederhananya persamaan dasar akuntansi akan mencatat sebagai berikut.

- a. Sumber pendanaan perusahaan baik yang bersumber dari modal sendiri maupun dari pinjaman pihak ketiga.
- b. Pengalokasian uang yang diperoleh perusahaan.

Apabila mempertimbangkan unsur pendapatan dan beban, maka bentuk persamaan dasar akuntansinya sebagai berikut.

$$\text{Aset} = \text{Liabilitas} + \text{Ekuitas} + \text{Pendapatan} - \text{Beban}$$

Persamaan dasar akuntansi tidak hanya mencatat transaksi. Persamaan dasar akuntansi berkaitan langsung dengan harta, utang, dan modal. Persamaan dasar akuntansi juga digunakan untuk mengetahui pengaruh dari pendapatan dan juga beban terhadap ketiga akun tersebut.

## 5. Analisis Transaksi Persamaan Dasar Akuntansi

Suatu transaksi keuangan akan sangat berpengaruh terhadap persamaan dasar akuntansi. Berdasarkan rumus, suatu transaksi dalam persamaan dasar akuntansi akan memengaruhi kondisi aset, liabilitas, dan ekuitas. Adapun jenis transaksi yang biasa ditemukan dalam transaksi persamaan dasar akuntansi, sebagai berikut.

**Tabel 4.1 Jenis Transaksi dalam Persamaan Dasar Akuntansi**

Jenis Transaksi	Contoh Transaksi
Perubahan aset yang akan diikuti oleh perubahan aset yang lain.	Pembelian perlengkapan maupun peralatan secara tunai.
Perubahan aset akan diikuti perubahan liabilitas dalam jumlah yang sama.	<ul style="list-style-type: none"> <li>a. Pembelian perlengkapan maupun peralatan secara kredit.</li> <li>b. Transaksi peminjaman uang kepada pihak lain.</li> </ul>
Perubahan aset akan diikuti oleh perubahan ekuitas dengan jumlah yang sama.	<ul style="list-style-type: none"> <li>a. Kegiatan investasi pemilik.</li> <li>b. Transaksi penerimaan pendapatan.</li> <li>c. Transaksi pembayaran beban untuk kegiatan operasional perusahaan.</li> <li>d. Pengambilan uang tunai untuk kepentingan pribadi.</li> </ul>

Dalam transaksi persamaan dasar akuntansi, sebuah transaksi akan dapat menambah maupun mengurangi aset, liabilitas, dan ekuitas. Secara praktis, perubahan transaksinya disajikan dalam tabel berikut!

**Tabel 4.2 Pengaruh Transaksi dalam Persamaan Dasar Akuntansi**

No.	Transaksi	Pengaruh Pencatatan		
		Aset	Liabilitas	Ekuitas
1.	Pembelian perlengkapan maupun peralatan secara tunai.	Bertambah dan berkurang		

		Pengaruh Pencatatan		
No.	Transaksi	Aset	Liabilitas	Ekuitas
2.	Pembelian perlengkapan maupun peralatan secara kredit.	Bertambah	Bertambah	
3.	Peminjaman uang kepada pihak lain.	Bertambah	Bertambah	
4.	Pembayaran utang.	Berkurang	Berkurang	
5.	Penerimaan pendapatan secara tunai.	Bertambah		Bertambah
6.	Penerimaan pendapatan secara kredit/ penerimaan yang ditangguhkan.	Bertambah		Bertambah
7.	Transaksi investasi awal dari pemilik perusahaan.	Bertambah		Bertambah
8.	Pembayaran beban-beban untuk kegiatan perusahaan.	Berkurang		Berkurang
9.	Pengambilan uang tunai perusahaan untuk kepentingan pribadi.	Berkurang		Berkurang

No.	Transaksi	Pengaruh Pencatatan		
		Aset	Liabilitas	Ekuitas
10.	Penerimaan pelunasan piutang.	Bertambah dan berkurang		

Adapun contoh analisis transaksi dan pencatatannya adalah sebagai berikut.

#### a. Transaksi investasi awal dari pemilik perusahaan

Ibu Afra mendirikan usaha yang diberi nama Toko Nada. Transaksi pertama dari perusahaan ini, diinvestasikan sebagai modal awal berupa uang tunai sebesar Rp24.000.000,00 dan peralatan kantor sebesar Rp2.700.000,00. Transaksi ini akan mengakibatkan kas (+), peralatan kantor (+), dan modal (+).

(dalam ribuan rupiah)

Aktiva			Pasiva	
Kas	Perlengkapan	Peralatan	Utang	Modal
24.000	-	2.700	-	26.700

#### b. Pembelian perlengkapan maupun peralatan secara tunai

Toko Nada membeli perlengkapan kantor yang meliputi ATK seharga Rp4.000.000,00 dan peralatan kantor seharga Rp12.000.000,00 secara tunai dari PT. Pramesti Sejahtera.

Transaksi ini mengakibatkan perlengkapan kantor (+), peralatan kantor (+), dan kas (-).

(dalam ribuan rupiah)

Aktiva			Pasiva	
Kas	Perlengkapan	Peralatan	Utang	Modal
24.000		2.700		26.700
(16.000)	4.000	12.000	-	-
<b>8.000</b>	<b>4.000</b>	<b>14.700</b>		<b>26.700</b>

### c. Pembelian perlengkapan maupun peralatan secara kredit

Toko Nada membeli perlengkapan toko sebesar Rp2.500.000,00 baru dibayar Rp1.000.000,00. Sisanya akan dibayar bulan depan.

Transaksi ini mengakibatkan perlengkapan kantor (+), kas (-), dan utang (+).

(dalam ribuan rupiah)

Aktiva			Pasiva	
Kas	Perlengkapan	Peralatan	Utang	Modal
24.000		2.700		26.700
(16.000)	4.000	12.000	-	-
<b>8.000</b>	<b>4.000</b>	<b>14.700</b>		<b>26.700</b>
(1.000)	2.500	-	1.500	-
<b>7.000</b>	<b>6.500</b>	<b>14.700</b>	<b>1.500</b>	<b>26.700</b>

### d. Peminjaman uang kepada pihak lain

Untuk menambah kegiatan usahanya, Toko Nada meminjam uang ke bank sebesar Rp15.000.000,00 yang akan dibayar setiap bulannya. Transaksi ini akan mengakibatkan kas (+) dan utang (+).

(dalam ribuan rupiah)

Aktiva			Pasiva	
Kas	Perlengkapan	Peralatan	Utang	Modal
24.000		2.700		26.700
(16.000)	4.000	12.000	-	-
<b>8.000</b>	<b>4.000</b>	<b>14.700</b>		<b>26.700</b>
(1.000)	2.500	-	1.500	-
<b>7.000</b>	<b>6.500</b>	<b>14.700</b>	<b>1.500</b>	<b>26.700</b>
15.000			15.000	
<b>22.000</b>	<b>6.500</b>	<b>14.700</b>	<b>16.500</b>	<b>26.700</b>

#### e. Pembayaran utang

Toko Nada membayar cicilan pertamanya ke bank sebesar Rp1.500.000,00. Transaksi ini akan mengakibatkan kas (-) dan utang (-).

(dalam ribuan rupiah)

Aktiva			Pasiva	
Kas	Perlengkapan	Peralatan	Utang	Modal
24.000		2.700		26.700
(16.000)	4.000	12.000	-	-
<b>8.000</b>	<b>4.000</b>	<b>14.700</b>		<b>26.700</b>
(1.000)	2.500	-	1.500	-
<b>7.000</b>	<b>6.500</b>	<b>14.700</b>	<b>1.500</b>	<b>26.700</b>
15.000			15.000	
<b>22.000</b>	<b>6.500</b>	<b>14.700</b>	<b>16.500</b>	<b>26.700</b>
(1.500)			(1.500)	
<b>20.500</b>	<b>6.500</b>	<b>14.700</b>	<b>15.000</b>	<b>26.700</b>

#### f. Penerimaan pendapatan secara tunai

Toko Nada memperoleh pendapatan dari kegiatan usahanya sebesar Rp3.000.000,00.

Transaksi ini akan memengaruhi kas (+) dan pendapatan (+).

(dalam ribuan rupiah)

Aktiva			Pasiva		
Kas	Perlengkapan	Peralatan	Utang	Modal	Pendapatan
24.000		2.700		26.700	
(16.000)	4.000	12.000	-	-	
<b>8.000</b>	<b>4.000</b>	<b>14.700</b>		<b>26.700</b>	
(1.000)	2.500	-	1.500	-	
<b>7.000</b>	<b>6.500</b>	<b>14.700</b>	<b>1.500</b>	<b>26.700</b>	
15.000			15.000		
<b>22.000</b>	<b>6.500</b>	<b>14.700</b>	<b>16.500</b>	<b>26.700</b>	
(1.500)			(1.500)		
<b>20.500</b>	<b>6.500</b>	<b>14.700</b>	<b>15.000</b>	<b>26.700</b>	
3.000					3.000
<b>23.500</b>	<b>6.500</b>	<b>14.700</b>	<b>15.000</b>	<b>26.700</b>	<b>3.000</b>

#### g. Penerimaan pendapatan secara kredit/penerimaan yang ditangguhkan

Menerima pendapatan jasa sebesar Rp3.500.000,00 baru dibayar Rp2.000.000,00 sisanya dibayar kemudian.

Transaksi ini akan memengaruhi kas (+), piutang (+), dan pendapatan (+).

(dalam ribuan rupiah)

Aktiva				Pasiva		
Kas	Piutang	Perlengkapan	Peralatan	Utang	Modal	Pendapatan
24.000			2.700		26.700	
(16.000)		4.000	12.000	-	-	
<b>8.000</b>		<b>4.000</b>	<b>14.700</b>		<b>26.700</b>	
(1.000)		2.500	-	1.500	-	
<b>7.000</b>		<b>6.500</b>	<b>14.700</b>	<b>1.500</b>	<b>26.700</b>	
15.000				15.000		
<b>22.000</b>		<b>6.500</b>	<b>14.700</b>	<b>16.500</b>	<b>26.700</b>	
(1.500)				(1.500)		
<b>20.500</b>		<b>6.500</b>	<b>14.700</b>	<b>15.000</b>	<b>26.700</b>	
3.000						3.000
<b>23.500</b>		<b>6.500</b>	<b>14.700</b>	<b>15.000</b>	<b>26.700</b>	<b>3.000</b>
2.000	1.500					3.500
<b>25.500</b>	<b>1.500</b>	<b>6.500</b>	<b>14.700</b>	<b>15.000</b>	<b>26.700</b>	<b>6.500</b>

#### h. Pembayaran beban-beban untuk kegiatan perusahaan

Toko Nada membayar listrik bulan Januari 2021 sebesar Rp750.000,00.

Transaksi ini memengaruhi kas (-) dan beban (-).

(dalam ribuan rupiah)

Aktiva				Pasiva			
Kas	Piutang	Perlengkapan	Peralatan	Utang	Modal	Pendapatan	Beban
24.000			2.700		26.700		
(16.000)		4.000	12.000	-	-		
<b>8.000</b>		<b>4.000</b>	<b>14.700</b>		<b>26.700</b>		
(1.000)		2.500	-	1.500	-		



Aktiva				Pasiva			
Kas	Piutang	Perlengkapan	Peralatan	Utang	Modal	Pendapatan	Beban
7.000		6.500	14.700	1.500	26.700		
15.000				15.000			
22.000		6.500	14.700	16.500	26.700		
(1.500)				(1.500)			
20.500		6.500	14.700	15.000	26.700		
3.000						3.000	
23.500		6.500	14.700	15.000	26.700	3.000	
2.000	1.500					3.500	
25.500	1.500	6.500	14.700	15.000	26.700	6.500	
(750)							(750)
24.750	1.500	6.500	14.700	15.000	26.700	6.500	(750)

## Aktivitas 4

# Analisis Transaksi Persamaan Dasar Akuntansi

## Petunjuk Pengerjaan

1. Kerjakan lembar aktivitas ini secara berpasangan!
2. Analisis transaksi berikut ini, apakah transaksi tersebut akan memengaruhi penambahan atau pengurangan terhadap masing-masing akunnya.

Ibu Dewi Susanti membuka usaha *laundry* yang bernama “Susanti Laundry”. Berikut ini merupakan transaksi yang terjadi pada bulan April 2021.

		Pengaruh Transaksi				
Tgl.	Transaksi	Aset	Liabilitas	Ekuitas	Pendapatan	Beban
3	Ibu Dewi memulai usaha laundry dengan menginvestasikan dana sebesar Rp27.000.000,00 dan peralatan sebesar Rp9.000.000,00.					
5	Dibayar beban iklan untuk melakukan promosi sebesar Rp2.500.000,00.					
7	Dibeli perlengkapan tambahan sebesar Rp6.000.000,00. Baru dibayar Rp4.500.000,00. Sisanya akan dibayar kemudian.					
8	Menerima pendapatan jasa dari kegiatan operasionalnya sebesar Rp3.200.000,00.					

		Pengaruh Transaksi				
Tgl.	Transaksi	Aset	Liabilitas	Ekuitas	Pendapatan	Beban
12	Dibayar angsuran pembelian perlengkapan yang dilakukan pada tanggal 7.					
14	Telah diselesaikan pekerjaan cuci pakaian untuk pelanggan yang bernama Ibu Hanin sebesar Rp250.000,00. Jumlah tersebut difakturkan untuk ditagih.					
17	Ibu Dewi mengambil uang dari kas <i>laundry</i> untuk kepentingan pribadi sebesar Rp800.000,00.					
20	Diterima pembayaran dari pelanggan yang bernama Ibu Hanin yang terjadi pada tanggal 14.					

Tgl.	Transaksi	Pengaruh Transaksi				
		Aset	Liabilitas	Ekuitas	Pendapatan	Beban
23	Diterima pendapatan dari pelanggan sebesar Rp5.750.000,00.					
24	Dibayar gaji karyawan sebesar Rp1.500.000,00.					

Setelah menganalisis penambahan dan pengurangan akun pada Susanti Laundry, catat transaksi tersebut ke dalam persamaan dasar akuntansi.



## Aktivitas 5

# Pencatatan Transaksi Persamaan Dasar Akuntansi



## Petunjuk Pengerjaan

1. Kerjakan lembar aktivitas ini secara berpasangan!
2. Analisis setiap transaksi dan buatlah persamaan dasar akuntansinya!

## Soal Bagian 1

Pada tanggal 2 September 2021, Pak Salman mendirikan sebuah usaha *tour & travel*. Transaksi keuangan yang terjadi selama bulan September 2021, sebagai berikut.

Sep	3	Pak Salman menyetorkan uang tunai pada usaha miliknya sebesar Rp100.000.000,00.
	4	Membayar sewa ruko sebesar Rp10.000.000,00.

5	Membeli perlengkapan sebesar Rp7.000.000,00.
6	Membeli peralatan usaha sebesar Rp75.000.000,00 secara kredit.
9	Menerima pendapatan atas jasa perjalanan Rp5.000.000,00.
11	Membayar beban listrik Rp450.000,00.
13	Menerima pendapatan jasa sebesar Rp6.000.000,00 baru dibayar Rp4.000.000,00 sisanya dibayar kemudian.
16	Meminjam uang di bank Rp25.000.000,00.
18	Membeli perlengkapan Rp5.000.000,00.
21	Menerima pendapatan jasa Rp4.000.000,00.
24	Membeli peralatan Rp8.000.000,00 secara tunai.
27	Membayar gaji karyawan Rp5.000.000,00.
30	Memperoleh pendapatan jasa Rp15.000.000,00.

Setelah kalian menyelesaikan soal persamaan dasar akuntansi bagian 1, silahkan kerjakan soal bagian 2 berikut.

## Soal Bagian 2



### Petunjuk Pengerjaan

1. Kerjakan aktivitas ini secara berpasangan!
2. Analisis masing-masing bukti transaksi di bawah ini!
3. Catatlah transaksi tersebut ke dalam persamaan dasar akuntansi!

Namira membuka usaha salon yang diberi nama “Namira Beauty”. Namira menginvestasikan uangnya sebesar Rp67.000.000,00 untuk membuka usaha ini. Selama bulan Agustus 2022, bukti transaksi yang ada sebagai berikut.

4. Bukti penerimaan uang pada tanggal 2 Agustus 2022.

<b>Namira Beauty</b> Jl. Bangka No.7 Bandung	Tanggal : 2 Agustus 2022 Nomor : BKM 1
<b>BUKTI KAS MASUK</b>	
Diterima dari Jumlah	: Rahma : Rp3.000.000,00 <b>Tiga juta rupiah</b>
Keterangan	: Penerimaan jasa
	Diterima Oleh:  <b>Dessy</b>

5. Bukti pengeluaran pada tanggal 5 Agustus 2022.

<b>Namira Beauty</b> Jl. Bangka No.7 Bandung	Tanggal : 5 Agustus 2022 Nomor : BKK 1
<b>BUKTI KAS KELUAR</b>	
Diterima dari Jumlah	: PLN dan PDAM : Rp600.000,00 <b>Enam Ratus Ribu Rupiah</b>
Keterangan	: Pembayaran Listrik : Rp400.000,00 : Pembayaran Air : Rp200.000,00
	Dibayarkan: Diterima: <b>Dessy</b> <b>Ilham</b>

6. Bukti transaksi pada tanggal 11 Agustus 2022.

<b>Toko Kecantikan "Rania"</b>		Kepada	: Namira Beauty	
Jl. Mawar Indah Nomor 17		Tanggal	: 11 Agustus 2022	
Bandung		NK	: 1	
<b>NOTA KONTAN</b>				
<b>Nama barang</b>	<b>Banyaknya</b>	<b>Harga</b>	<b>Jumlah</b>	
Shampoo	50	Rp 45,000	Rp	2,250,000
Conditioner	30	Rp 55,000	Rp	1,650,000
<b>Total</b>		<b>Rp 3,900,000</b>		
Barang yang sudah dibeli tidak dapat ditukar kembali			<b>KASSA 07</b>	

7. Bukti transaksi pada tanggal 12 Agustus 2022.

<b>Namira Beauty</b>		Tanggal	: 12 Agustus 2022	
Jl. Bangka No.7 Bandung		Nomor	: BKM 2	
<b>BUKTI KAS MASUK</b>				
Diterima dari	: Aida			
Jumlah	: Rp5.500.000,00			
<b>Lima juta lima ratus ribu rupiah</b>				
Keterangan	: Penerimaan jasa			
		Diterima Oleh:		
		<b>Dessy</b>		

8. Bukti transaksi pada tanggal 13 Agustus 2022.

<b>CV. Cantik</b>		Kepada	: Namira Beauty	
Jl. Banda Nomor 23		Tanggal	: 13 Agustus 2022	
Bandung		NK	: 1	
<b>FAKTUR</b>				
Nama barang	Banyaknya	Harga	Jumlah	
Hair Dryer	5	Rp 500,000	Rp	2,500,000
Alat alat salon			Rp	7,800,000
<b>Total</b>		<b>Rp 10,300,000</b>		
<b>KASSA 07</b>		Hormat Kami,  <b>CV. Cantik</b>		

9. Bukti transaksi pada tanggal 16 Agustus 2022.

<b>Toko Meubeul Jatiwangi</b>		Kepada	: Namira Beauty	
Jl. Cikutra Nomor 17		Tanggal	: 16 Agustus 2022	
Bandung		NK	: 12	
<b>NOTA KONTAN</b>				
Nama barang	Banyaknya	Harga	Jumlah	
Kursi	5	Rp 350,000	Rp	1,750,000
Meja Rias	5	Rp 450,000	Rp	2,250,000
<b>Total</b>		<b>Rp 4,000,000</b>		
Barang yang sudah dibeli tidak dapat ditukar kembali		<b>KASSA 01</b>		



10. Bukti transaksi pada tanggal 15 Agustus 2022.

<b>Namlra Beauty</b> Jl. Bangka No.7 Bandung	Tanggal : 15 Agustus 2022 Nomor : BKM 3
<b>BUKTI KAS MASUK</b>	
Diterima dari : Hanan Jumlah : Rp500.000,00	<b>Lima ratus ribu rupiah</b>
Keterangan : Penerimaan jasa Make Up Wisuda	Diterima Oleh:
	<b>Dessy</b>

11. Bukti transaksi pada tanggal 20 Agustus 2022.

<b>CV. Imam Bonjol</b> Jl. Wanayasa Nomor 23 Bandung	Kepada : Namira Beauty Tanggal : 20 Agustus 2022 NK : 3		
<b>FAKTUR</b>			
<b>Nama barang</b>	<b>Banyaknya</b>	<b>Harga</b>	<b>Jumlah</b>
Lemari	2	Rp 3,000,000	Rp 3,000,000
<b>Total</b>		<b>Rp 3,000,000</b>	
<b>KASSA 02</b>	Hormat Kami, <b>CV. Imam Bonjol</b>		

12. Bukti transaksi pada tanggal 25 Agustus 2022.

<b>Namira Beauty</b> Jl. Bangka No.7 Bandung	Tanggal : 25 Agustus 2022 Nomor : BKK 4
<b>BUKTI KAS KELUAR</b>	
Diterima dari Jumlah	: Pembayaran Gaji : Rp3.600.000,00 <b>Tiga Juta Enam Ratus Ribu Rupiah</b>
Keterangan	: Tim 1 : Rp1.600.000,00 : Tim 2 : Rp2.000.000,00
	Dibayarkan: Diterima:
	Dessy Nindi

13. Bukti transaksi pada tanggal 27 Agustus 2022.

<b>Namira Beauty</b> Jl. Bangka No.7 Bandung	Tanggal : 27 Agustus 2022 Nomor : BKM 4
<b>BUKTI KAS MASUK</b>	
Diterima dari Jumlah	: Nn. Nirina : Rp3.500.000,00 <b>Tiga juta lima ratus ribu rupiah</b>
Keterangan	: Penerimaan jasa Make Up dan Baju
	Diterima Oleh:
	Dessy

Setelah kalian menyelesaikan persamaan dasar akuntansi, langkah selanjutnya adalah membuat laporan keuangan.

## B. Laporan Keuangan

Sebagai peserta didik, tentunya kalian mendapatkan uang saku dari orang tua kalian, entah itu diberikan secara harian, mingguan, atau bulanan. Pernahkah kalian mencatat berapa pemasukan kalian setiap

harinya? Apakah kalian juga mencatat uang saku tersebut kalian pergunakan untuk apa saja?

Sebagai langkah awal untuk memahami laporan keuangan, mari isi aktivitas berikut!

## **Aktivitas 6**

# Membuat Laporan Keuangan Sederhana

## **Petunjuk Pengerjaan**

1. Kerjakan aktivitas ini secara mandiri!
2. Catatlah uang yang kalian terima, baik dari orang tua kalian maupun sumber lain dalam kolom pemasukan dan catat juga pengeluaran kalian selama satu pekan!

No.	Hari	Pemasukan	Pengeluaran
1.	Senin		
2.	Selasa		
3.	Rabu		
4.	Kamis		
5.	Jumat		
6.	Sabtu		
7.	Minggu		
	<b>Total</b>		

Berdasarkan pengamatan kalian, apakah jumlah pendapatan kalian lebih besar dibandingkan pengeluaran, atau sebaliknya? Berikan kesimpulan kalian!

Setelah kalian mengisi tabel tersebut, secara tidak langsung kalian sudah bisa mencatat laporan keuangan sederhana secara mandiri. Laporan keuangan sederhana tersebut akan memberikan gambaran mengenai kondisi keuangan kalian. Apabila pemasukan kalian lebih besar dibandingkan dengan pengeluarannya, maka kalian telah menjalankan pola hidup hemat. Tetapi apabila pengeluaran kalian lebih besar dibandingkan dengan pemasukannya, maka kalian telah menjalankan pola hidup boros. Jika dikaitkan dalam konteks badan usaha, penyusunan laporan keuangan juga dapat memberikan gambaran mengenai kondisi keuangan perusahaan. Apa yang dimaksud dengan laporan keuangan?

Menurut Ikatan Akuntan Indonesia (IAI) dalam Pernyataan Standar Akuntansi Keuangan (PSAK) Nomor 1 tentang Penyajian Laporan Keuangan, disebutkan bahwa laporan keuangan merupakan penyajian terstruktur dari posisi keuangan dan kinerja keuangan suatu entitas. Sederhananya, laporan keuangan merupakan catatan atas berbagai informasi keuangan badan usaha yang mendeskripsikan baik tidaknya kondisi suatu badan usaha.

Menurut Standar Akuntansi Keuangan Entitas Mikro, Kecil, dan Menengah (SAK-EMKM), tujuan laporan keuangan adalah untuk menyediakan informasi keuangan dan kinerja keuangan suatu entitas yang bermanfaat bagi sejumlah besar pengguna dalam pengambilan keputusan ekonomi oleh siapapun. Dalam memenuhi tujuannya, laporan keuangan juga menunjukkan pertanggungjawaban manajemen atas sumber daya yang dipercayakan kepadanya. Laporan keuangan yang dibuat oleh entitas harus memenuhi syarat sebagai berikut.

## 1. Relevan

Relevan menunjukkan bahwa laporan keuangan dapat digunakan oleh pengguna untuk proses pengambilan keputusan.

## 2. Representasi tepat

Representasi tepat menunjukkan bahwa informasi keuangan disajikan secara tepat dan bebas dari kesalahan.

## 3. Keterbandingan

Keterbandingan menunjukkan bahwa informasi keuangan dapat dibandingkan antara satu periode dengan periode lain. Selain itu bisa dibandingkan juga antar perusahaan.

## 4. Keterpahaman

Keterpahaman bermakna bahwa informasi keuangan disajikan dengan mudah sehingga dapat dipahami oleh pengguna.

Terdapat tiga jenis laporan keuangan menurut SAK-EMKM, sebagai berikut.

### 1. Laporan Posisi Keuangan pada Akhir Periode

Laporan ini menyajikan informasi aset, liabilitas, dan ekuitas entitas pada akhir periode pelaporan. Adapun bentuk laporan posisi keuangan sebagai berikut.

Nama Perusahaan			
Laporan Posisi Keuangan			
Aset		Liabilitas	
Aset Lancar		Liabilitas jangka pendek	
.....	Rpxxx	.....	Rpxxx
.....	Rpxxx	.....	Rpxxx
<b>Jumlah aset lancar</b>	<b>Rpxxx</b>	<b>Jumlah liabilitas jangka pendek</b>	
Aset tidak lancar		Liabilitas jangka Panjang	
.....	Rpxxx	.....	Rpxxx
.....	Rpxxx	.....	Rpxxx
<b>Jumlah aset tidak lancar</b>	<b>Rpxxx</b>	<b>Jumlah liabilitas jangka Panjang</b>	<b>Rpxxx</b>
		<b>Jumlah liabilitas</b>	<b>Rpxxx</b>
		<b>Ekuitas</b>	<b>Rpxxx</b>
<b>Total aset</b>	<b>Rpxxx</b>	<b>Total liabilitas + ekuitas</b>	<b>Rpxxx</b>

## 2. Laporan Laba Rugi Selama Periode

Laporan laba rugi selama periode merupakan laporan yang menunjukkan pendapatan dan beban dari suatu perusahaan dalam satu periode akuntansi. Laporan laba rugi menunjukkan kinerja suatu perusahaan.

## Ayo Cari Tahu

Terdapat dua jenis laporan laba rugi, sebagai berikut.

1. Bentuk langsung (*single step*).
2. Multi step bentuk bertahap (*multi step*).

Coba kalian cari tahu perbedaan keduanya!

Terdapat dua unsur penting dalam laporan laba rugi, sebagai berikut.

### a. Pendapatan

Pendapatan merupakan kenaikan manfaat ekonomi selama periode pelaporan dalam bentuk arus kas masuk atau kenaikan aset. Sederhananya pendapatan merupakan aliran uang yang masuk ke kas perusahaan dari kegiatan usaha yang dilakukan oleh perusahaan.

### b. Beban

Beban merupakan penurunan manfaat ekonomi selama periode pelaporan dalam bentuk arus kas keluar atau penurunan aset. Dengan kata lain beban merupakan biaya yang dikeluarkan oleh perusahaan untuk membiayai kegiatan operasional perusahaan.

Berdasarkan dua unsur tersebut, apabila pendapatan lebih besar daripada beban, maka badan usaha tersebut memperoleh laba. Sebaliknya, apabila pendapatan lebih kecil daripada beban, maka badan usaha tersebut memperoleh rugi.

Adapun bentuk laporan laba rugi, sebagai berikut.

Nama Perusahaan Laporan Laba/Rugi Periode		
<b>Pendapatan</b>	Rpxxx	
<b>Jumlah pendapatan</b>		Rpxxx
<b>Beban</b>	Rpxxx	
<b>Jumlah Beban</b>		(Rpxxx)
<b>Laba/Rugi</b>		Rpxxx

### 3. Catatan Atas Laporan Keuangan

Menurut SAK-EMKM, catatan atas laporan keuangan merupakan catatan yang menyajikan informasi mengenai pernyataan bahwa laporan keuangan telah disusun sesuai dengan SAK-EMKM, ikhtisar kebijakan akuntansi, serta informasi tambahan dan rincian akun tertentu yang menjelaskan transaksi penting dan material sehingga bermanfaat bagi pengguna untuk memahami laporan keuangan. Jenis informasi dan rincian yang disajikan bergantung pada pada jenis usaha yang dilakukan oleh entitas.

Laporan keuangan yang disusun berdasarkan SAK-EMKM dapat digunakan untuk jenis perusahaan jasa maupun perusahaan dagang.



## **Aktivitas 8**

# Laporan Keuangan

### **Petunjuk Pengerjaan**

1. Kerjakan lembar aktivitas ini secara berpasangan!
2. Buatlah laporan keuangan yang terdiri dari laporan posisi keuangan dan laporan laba rugi berdasarkan persamaan dasar akuntansi yang telah kalian kerjakan pada aktivitas 4 dan 5!

Setelah kalian mengerjakan kedua jenis laporan keuangan tersebut, kerjakan aktivitas berikut.

### **Petunjuk Pengerjaan**

1. Kerjakan aktivitas ini secara berpasangan!
2. Lengkapi laporan keuangan di bawah ini dengan nominal yang tepat!

#### **a. Laporan posisi keuangan**

**Perusahaan Umum Daerah Air Minum  
Kota Sukabumi  
Laporan Neraca/Posisi Keuangan  
Periode 31 Desember 2021 dan 2020  
(dalam rupiah)**

Komponen	2021	2020
<b>Aset</b>		
<b>Aset Lancar</b>		
Kas dan setara kas	1.878.495.241	1.368.157.579

Komponen	2021	2020
Deposito berjangka	3.700.000.000	3.700.000.000
Piutang usaha	30.942.440.726	28.376.571.606
Akumulasi penyisihan piutang	(12.401.749.723)	(11.962.088.394)
Piutang non air	391.646.998	373.455.848
Piutang lain-lain	325.861.765	501.444.510
Persediaan	638.767.244	518.945.714
Pembayaran dimuka	1.563.663.847	1.715.621.731
<b>Jumlah aset lancar</b>	.....	.....
<b>Aset tidak lancar</b>		
<b>Aset tetap</b>	.....	
Nilai perolehan aset tetap	71.448.421.950	68.793.694.889
Akumulasi penyusutan aset tetap	(32.067.785.377)	(30.524.610.657)
Akumulasi penurunan nilai	.....	.....
<b>Jumlah aset tetap</b>	.....	.....
<b>Aset tidak lancar lainnya</b>	.....	.....
Aset dalam penyelesaian	-	23.761.000
Uang jaminan	4.389.000	4.389.000
Beban ditangguhkan	522.640.600	1.446.158.100
<b>Jumlah aset tidak lancar lainnya</b>	.....	.....
<b>Total aset</b>	.....	.....

Komponen	2021	2020
<b>Liabilitas dan Ekuitas</b>		
<b>Liabilitas Jangka Pendek</b>		
Utang usaha	513.893.053	449.575.503
Beban yang masih harus dibayar	156.287	20.123.421
Titipan uang tunai	19.527.098	19.527.098
Utang pajak	349.170.037	3.630.452
Utang jangka panjang jatuh tempo	-	-
<b>Jumlah liabilitas jangka pendek</b>	.....	.....
<b>Liabilitas jangka panjang</b>		
Kewajiban imbalan pasca kerja	1.596.171.564	1.871.318.977
Utang kendaraan jangka panjang	137.557.000	268.585.000
Cadangan dana kesejahteraan pegawai	2.825.000	2.825.000
<b>Jumlah liabilitas jangka panjang</b>	.....	.....
<b>Ekuitas dan Cadangan</b>		
Modal pemerintah daerah	70.806.707.702	69.806.707.702
Penyertaan pemerintah YBDS	522.640.600	522.640.600
Modal hibah	630.281.326	630.281.326

Komponen	2021	2020
Selisih penilaian kembali aktiva tetap	177.492.268	177.492.268
Laba belum dibagikan	(9.954.102.949)	(11.986.665.774)
Laba rugi tahun berjalan	2.144.473.284	2.549.459.353
<b>Jumlah ekuitas &amp; cadangan</b>	.....	.....
<b>Total liabilitas dan ekuitas</b>	.....	.....

Berikan kesimpulan berdasarkan data laporan keuangan Perusahaan Daerah Air Minum (PDAM) Kota Sukabumi tersebut!

#### b. Laporan laba rugi

**Perusahaan Umum Daerah Air Minum  
Kota Sukabumi  
Laporan Laba Rugi  
Periode 31 Desember 2021 dan 2020  
(dalam rupiah)**

Komponen	2021	2020
<b>Pendapatan</b>		
<b>Pendapatan Usaha</b>		
Pendapatan penjualan air	22.661.254.775	23.453.575.170
Pendapatan non air	1.381.203.690	1.437.017.734
<b>Pendapatan Non Usaha</b>		
Pendapatan lain-lain	520.099.868	163.218.296

Komponen	2021	2020
<b>Total Pendapatan</b>	.....	.....
<b>Beban</b>		
<b>Beban Operasional</b>		
Beban pegawai	10.584.724.775	11.717.682.151
Beban energi	740.974.800	754.202.500
Beban kimia	352.181.250	602.179.875
Beban kompensasi air baku	443.840.896	173.694.650
Beban pemeliharaan	1.154.896.609	1.023.555.842
Pemakaian bahan pembantu	3.831.000	-
Beban penyusutan aset tetap	1.543.174.720	1.400.885.122
Beban penyisihan piutang	459.303.774	173.575.605
Beban umum dan administrasi	6.536.152.104	6.453.755.819
<b>Jumlah beban operasional</b>	.....	.....
<b>Beban non operasional</b>		
Beban non operasional	69.442.028	204.820.282
<b>Total beban</b>	.....	.....
<b>Laba/rugi sebelum pajak</b>	.....	.....
Pajak badan usaha	529.563.093	-

Komponen	2021	2020
Laba/rugi setelah pajak	.....	.....

Berikan kesimpulan berdasarkan data laporan laba rugi Perusahaan Daerah Air Minum (PDAM) Kota Sukabumi tersebut!

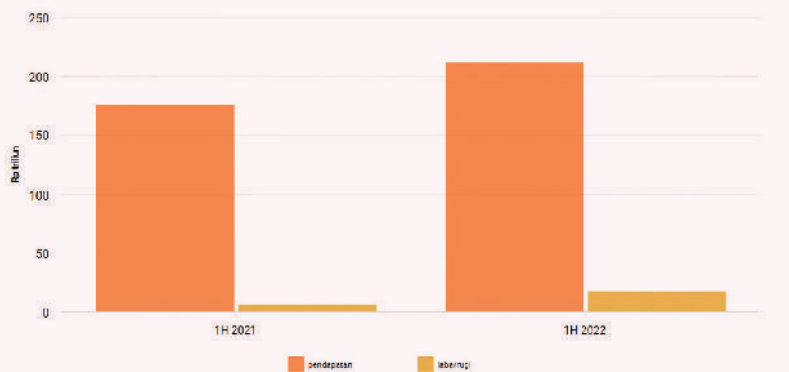
## Aktivitas 9

### Literasi

### Petunjuk Pengerjaan

1. Kerjakan lembar aktivitas ini secara berkelompok!
2. Baca artikel di bawah ini dan jawablah pertanyaan yang tersedia!

Penulis: **Reza Pahlevi**  
 Editor: **Annissa Mutia**  
 29/7/2022, 13.30 WIB



 Katadata

 databoks

PT Perusahaan Listrik Negara (PLN) Pesero mencatatkan pendapatan sebesar Rp211,66 triliun pada semester I-2022. Pendapatan ini sudah meningkat 20% secara tahunan (*year-on-year/yoy*) dari Rp175,92 triliun.

Penjualan listrik meningkat dari 125,49 TWh pada semester I-2021 menjadi 133,87 TWh pada semester I-2022. Ini juga yang membuat penjualan listrik naik 7,2% (*yoy*) menjadi Rp150,6 triliun.

Selain itu, PLN juga menerima subsidi listrik sebesar Rp26,19 triliun dan kompensasi sebesar Rp31,23 triliun pada periode ini.

Laba bersih PLN pun meningkat 162,4% (*yoy*) menjadi Rp17,4 triliun. Pada periode yang sama tahun lalu, laba bersih tercatat sebesar Rp6,6 triliun.

Kenaikan laba ini juga belum menghitung penyesuaian tarif listrik untuk pelanggan 3.500 VA ke atas. Aturan ini baru berlaku pada 1 Juli 2022.

**Sumber:** <https://databoks.katadata.co.id/datapublish/2022/07/29/laba-bersih-pln-terbang-1624-pada-semester-i-2022>.  
(diakses pada tanggal 30 Juli 2022)

## Pertanyaan

---

1. Mengapa nilai pendapatan PLN mengalami kenaikan pada periode semester I-2022?
2. Berilah argumen kalian, apabila PLN mengalami laba, kebijakan apa yang sebaiknya diterapkan?

## **Aktivitas 10**

### **Proyek Kelompok**

#### **Petunjuk Pengerjaan**

---

1. Kerjakan lembar aktivitas ini secara berkelompok!
2. Pergilah ke kantin sekolah kalian atau badan usaha maupun perusahaan yang ada di sekitar wilayah tempat tinggal kalian.

Langkah-langkah aktivitas yang harus kalian lakukan, sebagai berikut.

1. Lakukan pengamatan selama satu minggu dan apabila memungkinkan, ikutlah terlibat di dalam kegiatan operasional di tempat tersebut. Apabila tidak memungkinkan, lakukan wawancara kepada pemilik kantin tersebut!
2. Apabila catatan transaksi sudah ditemukan, catatlah transaksi tersebut dalam persamaan dasar akuntansi!
3. Setelah itu, buatlah laporan keuangan dalam bentuk sederhana!
4. Presentasikan hasil pekerjaan kalian di depan kelas!





### I. Bentuk soal AKM

Pilihlah jawaban yang tepat!

1. Informasi akuntansi dijadikan sebagai acuan untuk menilai kemampuan perusahaan dalam mengembalikan pinjaman dan bunga. Pihak yang membutuhkan informasi akuntansi tersebut adalah ....
  - A. investor
  - B. masyarakat
  - C. kreditur
  - D. pemerintah
  - E. karyawan
2. Perusahaan menerima pendapatan jasa karena telah menyelesaikan suatu pekerjaan tertentu. Perubahan yang terjadi pada persamaan dasar akuntansi adalah ....
  - A. harta kas bertambah modal pemilik berkurang
  - B. harta kas bertambah modal pemilik bertambah
  - C. aktiva berkurang diimbangi modal bertambah
  - D. aktiva berkurang diimbangi modal berkurang
  - E. aktiva bertambah diimbangi modal berkurang
3. Perusahaan Batik Bandung menerima pelunasan piutang sebesar Rp30.000.000,00. Pengaruh transaksi pada persamaan dasar akuntansi adalah ....
  - A. kas bertambah sebesar Rp30.000.000,00 dan modal berkurang Rp30.000.000,00.
  - B. kas bertambah sebesar Rp30.000.000,00 dan modal bertambah Rp30.000.000,00.
  - C. piutang berkurang sebesar Rp30.000.000,00 dan modal bertambah Rp30.000.000,00



Pendapatan salon	Rp18.000.000,00	Beban listrik dan telepon	Rp550.000,00
Beban asuransi	Rp6.500.000,00	Beban Sewa	Rp3.500.000,00
Beban gaji	Rp4.400.000,00	Modal awal	Rp10.700.000,00
Prive	Rp1.050.000,00		

Berdasarkan data keuangan tersebut, kesimpulan yang tepat dari laporan keuangan Pramesti Salon adalah ....

- A. memperoleh laba sebesar Rp5.150.000,00
  - B. memperoleh laba sebesar Rp5.350.000,00
  - C. memperoleh laba sebesar Rp5.470.000,00
  - D. mengalami kerugian sebesar Rp5.350.000,00
  - E. mengalami kerugian sebesar Rp6.325.000,00
7. Pada akhir periode, perusahaan jasa “Wieka Laundry” memperoleh laba sebesar Rp5.000.000,00. Pengambilan untuk keperluan pribadi sebesar Rp1.000.000,00. Apabila diketahui modal awal perusahaan sebesar Rp50.000.000,00 maka besarnya modal akhir adalah ....
- A. Rp50.000.000,00
  - B. Rp51.000.000,00
  - C. Rp53.000.000,00
  - D. Rp54.000.000,00
  - E. Rp56.000.000,00
8. Data dalam suatu laporan posisi keuangan perusahaan “Karimun” diketahui sebagai berikut.

Kas	Rp42.500.000,00
Surat-surat berharga	Rp30.000.000,00
Utang wesel	Rp15.000.000,00
Utang usaha	Rp32.000.000,00
Pendapatan diterima dimuka	Rp17.000.000,00

Peralatan toko	Rp44.000.000,00
Perlengkapan	Rp11.000.000,00
Asuransi dibayar dimuka	Rp1.500.000,00
Modal	Rp76.000.000,00
Prive	Rp2.000.000,00

Berdasarkan data di atas, jumlah pasiva dalam laporan posisi keuangan adalah ....

- A. Rp64.000.000,00
- B. Rp123.000.000,00
- C. Rp138.000.000,00
- D. Rp140.000.000,00
- E. Rp142.000.000,00

9. Data dalam suatu laporan posisi keuangan perusahaan “Manado” diketahui sebagai berikut.

Kas	Rp42.500.000,00
Surat-surat berharga	Rp30.000.000,00
Utang wesel	Rp15.000.000,00
Peralatan toko	Rp44.000.000,00
Asuransi dibayar dimuka	Rp1.500.000,00

Berdasarkan data di atas, jumlah aset lancar dalam laporan posisi keuangan adalah ....

- A. Rp74.000.000,00
- B. Rp127.500.000,00
- C. Rp122.500.000,00
- D. Rp112.500.000,00
- E. Rp82.500.000,00

10. Perhatikan laporan neraca perusahaan jasa ekspedisi Namira berikut.

Keterangan	2020	2021
Kas	Rp110.000.000,00	Rp110.000.000,00
Piutang usaha	Rp40.000.000,00	Rp90.000.000,00
Perlengkapan	Rp5.000.000,00	Rp5.000.000,00
Peralatan	Rp15.000.000,00	Rp5.000.000,00
Gedung	Rp250.000.000,00	Rp250.000.000,00
Tanah	Rp100.000.000,00	Rp100.000.000,00
Utang usaha	Rp200.000.000,00	Rp150.000.000,00
Utang bank	Rp100.000.000,00	Rp150.000.000,00

Berdasarkan neraca tersebut, kesimpulan yang benar adalah ....

- A. adanya penambahan aktiva sebesar Rp30.000.000,00
- B. adanya penambahan kewajiban sebesar Rp10.000.000,00
- C. adanya penambahan modal pemilik sebesar Rp40.000.000,00
- D. adanya penurunan aktiva sebesar Rp10.000.000,00
- E. adanya penurunan utang sebesar Rp10.000.000,00

## II. Pilihan Ganda Komplek

Pilihlah tiga (3) jawaban yang tepat dengan cara memberikan tanda centang (✓)!

11. Berikut merupakan pernyataan yang benar mengenai pengertian akuntansi sebagai sistem informasi.
- berguna untuk meningkatkan kesejahteraan manajemen dan karyawan

- menyediakan informasi keuangan suatu perusahaan selama satu periode tertentu
- digunakan sebagai pedoman dalam mengambil keputusan ekonomi
- menentukan besar gaji karyawan
- dinyatakan dalam satuan mata uang

12. Berikut ini merupakan kegunaan informasi akuntansi bagi pihak eksternal perusahaan.

- membuat berbagai kebijakan dalam mengalokasikan keuangan
- mengukur tingkat profitabilitas perusahaan jika akan menanamkan modalnya
- menentukan besarnya pajak
- menentukan besarnya kredit usaha yang diberikan
- mengevaluasi jalannya kegiatan usaha

13. Berikut ini yang termasuk dalam kelompok harta lancar.

- pendapatan diterima dimuka
- pendapatan yang masih harus diterima
- piutang usaha
- sewa dibayar dimuka
- pendapatan jasa

14. Pernyataan di bawah ini yang termasuk transaksi yang memengaruhi aset lancar.

- Ibu Indah menyetorkan modalnya sebesar Rp500.000.000,00
- Bu Zakiyah membeli sabun dan perlengkapan untuk usaha *laundry* sebesar Rp20.000.000,00
- Pak Kholid membeli mobil untuk mengirim barang-barang hasil produksinya sebesar Rp.125.000.000,00
- Bu Asma membeli gedung sebesar Rp100.000.000,00 secara tunai

15. Berikut ini merupakan pernyataan yang sesuai dengan persamaan dasar akuntansi.

- setiap transaksi yang dicatat dalam persamaan akuntansi hanya dicatat di satu lajur
- adanya pendapatan yang diterima perusahaan hanya akan dicatat di kolom kas
- adanya beban yang dikeluarkan perusahaan dan sifatnya mengurangi modal
- adanya pengambilan untuk keperluan pribadi (prive) akan mengurangi kas dan mengurangi modal di kolom pasiva
- penambahan atau pengurangan aktiva akan selalu timbul diimbangi dengan penambahan atau pengurangan terhadap pasiva

16. Berikut ini transaksi yang dapat memengaruhi kas dan ekuitas.

- pemilik usaha menyetorkan modal sebesar Rp70.000.000,00
- pemilik mengambil uang untuk keperluan pribadi sebesar Rp5.000.000,00
- perusahaan menerima pendapatan jasa dari kegiatan operasional perusahaan sebesar Rp17.000.000,00
- perusahaan membeli peralatan secara tunai sebesar Rp15.000.000,00
- perusahaan meminjam uang di salah satu bank konvensional sebesar Rp50.000.000,00

17. Berdasarkan pernyataan di bawah ini, pilihlah transaksi yang memengaruhi ekuitas dan liabilitas.

- pemilik usaha menyetorkan modal sebesar Rp3.000.000,00
- pemilik mengambil uang untuk keperluan pribadi sebesar Rp. 500.000,00
- perusahaan membeli kendaraan sebesar Rp500.000,00
- perusahaan membeli peralatan sebesar Rp300.000,00
- perusahaan meminjam uang di bank sebesar Rp10.000.000,00

18. Berikut ini merupakan akun-akun yang terdapat di laporan posisi keuangan perusahaan.
- pendapatan jasa
  - pendapatan diterima di muka
  - akumulasi penyusutan peralatan
  - beban penyusutan
  - piutang usaha
19. Berikut ini merupakan akun-akun yang terdapat di laporan laba rugi suatu perusahaan.
- pendapatan sewa
  - beban yang masih harus dibayar
  - beban gaji
  - beban operasional
  - piutang pendapatan
20. Berikut ini informasi tepat berkaitan dengan laporan keuangan.
- ketika nilai pendapatan lebih besar dibandingkan dengan nilai beban, maka perusahaan mengalami laba. Laba akan menambah modal perusahaan
  - tujuan dari penyusunan laporan neraca adalah untuk menyeimbangkan antara utang dan modal
  - akun prive termasuk dalam komponen modal di laporan neraca atau posisi keuangan
  - dalam pembuatan laporan keuangan, harus disusun secara berurutan mulai dari laporan laba rugi, laporan perubahan modal dan yang terakhir adalah penyusunan laporan neraca atau posisi keuangan
  - apabila dalam laporan neraca atau posisi keuangan kondisi aktiva dan pasiva belum menunjukkan keseimbangan, maka dapat dipastikan laporan keuangan tersebut keliru



### III. Kategori Benar-Salah

Berikan centang (✓) pada jawaban "Benar" atau "Salah"!

No.	Pertanyaan	Kategori	
		Benar	Salah
21.	Akuntansi disebut sebagai <i>language of business</i> karena dijadikan patokan untuk mengambil keputusan perusahaan.	<input type="radio"/>	<input type="radio"/>
22.	Orang yang bekerja di bidang akuntansi disebut akuntan. Adapun syarat untuk menjadi seorang akuntan hanya perlu mengikuti kursus di lembaga keuangan.	<input type="radio"/>	<input type="radio"/>
23.	Perusahaan membayar upah karyawan, perubahan yang terjadi pada persamaan akuntansi yaitu akan mengakibatkan aktiva berkurang diimbangi juga dengan beban berkurang dalam jumlah yang sama.	<input type="radio"/>	<input type="radio"/>
24.	Jika dalam periode yang sama total aktiva meningkat Rp72.000.000,00 dan total kewajiban meningkat Rp27.000.000,00, maka jumlah ekuitas pemilik dalam periode tersebut adalah sebesar Rp47.000.000,00.	<input type="radio"/>	<input type="radio"/>
25.	Salah satu transaksi dalam persamaan dasar akuntansi adalah perubahan aset akan diikuti perubahan liabilitas dalam jumlah yang sama. Adapun contoh transaksinya adalah transaksi peminjaman uang kepada pihak lain.	<input type="radio"/>	<input type="radio"/>
26.	Laporan laba rugi akan dibuat setelah laporan perubahan modal dan posisi keuangan menunjukkan keseimbangannya.	<input type="radio"/>	<input type="radio"/>

No.	Pertanyaan	Kategori	
		Benar	Salah
27.	Dalam laporan laba rugi, apabila nilai pendapatan lebih besar daripada pengeluarannya, maka kinerja perusahaan tersebut menunjukkan perolehan laba sehingga akan menambah modal perusahaan.	<input type="radio"/>	<input type="radio"/>
28.	Akun-akun yang terdapat dalam laporan posisi keuangan meliputi pendapatan diterima di muka, piutang usaha, beban yang masih harus dibayar, sewa dibayar di muka, dan kas.	<input type="radio"/>	<input type="radio"/>
29.	Apabila dalam sebuah laporan keuangan terdapat akun akumulasi penyusutan peralatan, akan dikelompokkan dalam aset lancar dan akan mengurangi nilai aset perusahaan.	<input type="radio"/>	<input type="radio"/>
30.	PT. Asmuni Berkah mencatat modal awal sebesar Rp20.000.000,00. Besarnya pendapatan yang diperoleh sebesar Rp15.000.000,00 dan beban yang dikeluarkan sebesar Rp7.000.000,00. Selama periode bulan tersebut, Ibu Mutia selaku pemilik perusahaan mengambil prive sebesar Rp3.000.000,00. Berdasarkan data tersebut, laba perusahaan adalah senilai Rp8.000.000,00.	<input type="radio"/>	<input type="radio"/>

## IV. Uraian

Jawablah pertanyaan berikut dengan tepat!

1. Uraikan transaksi-transaksi yang dapat memengaruhi persamaan dasar akuntansi!
2. Uraikan jenis-jenis bukti transaksi dan kegunaannya! Apabila dalam melakukan pencatatan transaksi keuangan tidak dilampirkan bukti transaksi, bagaimana pengaruhnya terhadap laporan keuangan tersebut?

3. Carilah informasi mengenai kegunaan informasi akuntansi dan isilah tabel berikut ini!

No.	Pemakai	Manfaat Informasi
1.	Pemilik perusahaan	
2.	Manajemen	
3.	Calon investor	
4.	Kreditur	
5.	Pemerintah	
6.	Karyawan	
7.	Masyarakat	

4. Jelaskan hal-hal yang harus diperhatikan sebelum membuat laporan keuangan! Jenis keputusan apa yang bisa diambil berdasarkan laporan keuangan?
5. Berikut merupakan data keuangan CV. Namira dua tahun terakhir.

Keterangan	Tahun 2020	Tahun 2021
Asuransi dibayar dimuka	Rp13.000.000,00	Rp14.500.000,00
Perlengkapan kantor	Rp2.500.000,00	Rp3.200.000,00
Sewa dibayar dimuka	Rp4.800.000,00	Rp3.800.000,00
Peralatan	Rp24.000.000,00	Rp24.000.000,00
Pendapatan diterima dimuka	Rp11.000.000,00	Rp7.000.000,00

Keterangan	Tahun 2020	Tahun 2021
Utang bank	Rp34.000.000,00	Rp24.000.000,00
Modal pemilik	Rp67.000.000,00	Rp75.000.000,00
Beban gaji	Rp4.500.000,00	Rp4.800.000,00
Beban sewa	Rp1.200.000,00	Rp1.200.000,00
Pendapatan jasa	Rp12.500.000,00	Rp15.600.000,00
Pendapatan bunga	Rp1.200.000,00	Rp1.800.000,00

Uraikan kesimpulan yang dapat kalian peroleh dari data keuangan tersebut!

- Buatlah persamaan dasar akuntansi berdasarkan transaksi di bawah ini!

Pada tanggal 2 Juli 2021 Pak Irvan mendirikan sebuah usaha konsultasi keuangan. Transaksi yang terjadi selama bulan Juli 2021 sebagai berikut.

Tgl.	Transaksi
2	Pak Irvan menyetorkan uang tunai pada perusahaannya miliknya sebesar Rp70.000.000,00.
3	Membayar sewa tempat operasional kantor untuk enam bulan sebesar Rp18.000.000,00.
5	Membeli perlengkapan kantor sebesar Rp4.500.000,00.
7	Menerima pendapatan jasa konsultasi sebesar Rp13.000.000,00.
10	Membayar beban listrik sebesar Rp750.000,00.
12	Membayar beban telepon Rp500.000,00.
14	Menerima pendapatan jasa sebesar Rp15.000.000 baru dibayar Rp7.000.000,00 sisanya dibayar kemudian.
17	Meminjam uang di Bank sebesar Rp24.000.000,00.

Tgl.	Transaksi
20	Membeli perlengkapan Rp6.000.000,00.
25	Menerima pendapatan jasa Rp15.000.000,00.
26	Membeli peralatan Rp9.000.000,00 secara tunai.
29	Membayar gaji karyawan Rp17.000.000,00.
31	Memperoleh pendapatan Jasa Rp12.500.000,00.

## Refleksi

Kalian telah belajar tentang akuntansi. Manfaat apa yang kalian dapatkan setelah mempelajari bab ini? Apakah ilmu yang kalian peroleh dari materi ini bisa kalian terapkan dalam kehidupan sehari-hari?

## Pengayaan

Jika kalian tertarik untuk mempelajari lebih lanjut materi akuntansi, lakukanlah pengayaan berikut.

1. Carilah laporan keuangan suatu perusahaan selama 3 tahun terakhir! Kalian bisa mencari datanya dari *website* perusahaan tersebut!
2. Analisis laporan keuangan perusahaan tersebut, apakah memperoleh keuntungan atau kerugian?
3. Jelaskan apabila kondisi keuangan perusahaan memperoleh keuntungan atau laba, mengapa dalam kurun waktu tersebut perusahaan mengalami keuntungan?
4. Apabila kondisi keuangan menunjukkan kondisi rugi, mengapa hal tersebut bisa terjadi? Apa strategi yang dapat dilakukan oleh perusahaan? Bisakah kalian memberikan argumen atau masukan untuk perusahaan tersebut?

# Glosarium

- Akuntansi** : Merupakan ilmu yang mencatat, menganalisis, dan mengkomunikasikan transaksi atau kejadian ekonomi suatu entitas bisnis yang bertujuan untuk menghasilkan dan melaporkan informasi yang relevan bagi berbagai pihak yang berkepentingan dalam mengambil keputusan.
- Akuntan** : Orang bekerja di bidang akuntansi.
- Aktiva** : Nama lain penyebutan untuk harta atau aset yang merupakan sumber daya yang dimiliki oleh perusahaan.
- Association of South East Asian Nation (ASEAN)* : Organisasi kerjasama negara-negara yang berada di wilayah asia tenggara.
- Asia-Pacific Economic Cooperation (APEC)* : Kerjasama ekonomi negara-negara di kawasan Asia Pasifik yang bertujuan mengukuhkan pertumbuhan ekonomi dan mempererat komunitas negara-negara di Asia Pasifik.
- APBN** : Rencana keuangan tahunan pemerintahan negara Indonesia yang disetujui oleh Dewan Perwakilan Rakyat yang berisi daftar sistematis dan terperinci yang memuat rencana penerimaan dan pengeluaran negara selama satu tahun anggaran.

APBD	:	Rencana keuangan tahunan pemerintahan daerah yang berisi daftar sistematis dan terperinci yang memuat rencana penerimaan dan pengeluaran daerah selama satu tahun anggaran.
Bea	:	Pungutan negara atas barang impor yang bertujuan untuk membatasi masuknya barang impor dalam rangka melindungi produk dalam negeri.
Beban ( <i>expense</i> )	:	Merupakan uang yang dikeluarkan oleh perusahaan untuk menunjang kegiatan operasionalnya.
Bilateral	:	Kerjasama internasional yang melibatkan dua negara.
<i>Crowdfunding</i>	:	Kegiatan mengumpulkan modal dengan cara penggalangan atau donasi dana melalui lembaga khusus.
Cukai	:	Pungutan negara yang dikenakan terhadap barang-barang tertentu yang mempunyai sifat atau karakteristik yang ditetapkan dalam Undang-Undang Cukai.
Diskriminasi harga	:	Memberlakukan harga jual produk yang berbeda untuk satu negara dengan negara lain.
<i>Dumping</i>	:	Menjual barang dengan harga yang murah ke negara lain dan menjual harga yang tinggi di dalam negeri.
Ekonomi digital	:	Kegiatan ekonomi menggunakan teknologi digital atau internet.

- Ekspor** : Kegiatan menjual barang dan jasa dari dalam negeri ke luar negeri.
- Fintech*** : Inovasi teknologi dari perusahaan jasa keuangan untuk meningkatkan berbagai aspek pelayanan keuangan.
- Heckscher-Ohlin** : Teori perdagangan internasional yang mengemukakan bahwa suatu negara akan mengekspor komoditi yang produksinya memerlukan lebih banyak faktor produksi yang relatif melimpah dan murah, dan dalam waktu bersamaan akan mengimpor komoditi yang produksinya memerlukan lebih banyak faktor produksi yang relatif langka dan mahal di negara tersebut.
- Impor** : Kegiatan membeli barang dari negara lain atau membeli barang atau jasa dari pasar global.
- Indeks Pembangunan Manusia (IPM)** : Indeks yang mengukur kualitas manusia.
- International Monetary Fund (IMF)*** : Merupakan organisasi internasional yang bertanggung jawab dalam mengatur sistem finansial global dan menyediakan pinjaman kepada negara anggotanya untuk membantu mengatasi masalah dalam neraca pembayaran masing-masing negara.
- International Labour Organization (ILO)*** : Merupakan organisasi buruh internasional yang berada dibawah naungan PBB.



Investor	:	Merupakan individu atau perusahaan yang menanamkan modalnya di perusahaan lain dengan harapan keuntungan.
Kerjasama regional	:	Kerjasama yang dilakukan oleh dua negara atau lebih dalam satu kawasan.
Kerjasama antar regional	:	Kerjasama internasional yang melibatkan beberapa negara dalam satu kawasan dengan beberapa negara di kawasan lain.
Kreditur	:	Orang yang memberikan pinjaman kepada orang lain.
Kuota	:	Pembatasan jumlah barang yang diimpor atau barang yang diekspor dengan tujuan mencukupi persediaan barang di dalam negeri.
<i>Language of business</i>	:	Menunjukkan bahwa istilah akuntansi merupakan bahasa bisnis karena ilmu akuntansi digunakan sebagai dasar dalam pengambilan keputusan.
Laporan keuangan	:	Merupakan catatan atas berbagai informasi keuangan badan usaha yang mendeskripsikan baik tidaknya kondisi suatu badan usaha.
<i>Merkantilisme</i>	:	Merupakan salah satu teori perdagangan internasional yang menyatakan bahwa kemakmuran suatu negara dilihat dari besarnya kepemilikan logam mulia, melakukan lebih banyak ekspor dibandingkan dengan impor.

- Microfinancing* : Layanan yang memberikan bantuan modal bagi masyarakat yang kesulitan untuk mendapatkan pinjaman modal dari industri perbankan.
- Modal : Merupakan salah satu sumber dana perusahaan dari pemilik perusahaan maupun pemegang saham.
- Multilateral : Bentuk kerjasama internasional yang melibatkan beberapa negara di dunia tanpa memandang batas tertentu.
- Neraca pembayaran : Suatu catatan ringkas dan sistematis dari semua transaksi ekonomi internasional yang melibatkan suatu negara dengan negara lain dalam kurun waktu tertentu.
- Neraca perdagangan : Merupakan catatan yang berisi tentang nilai barang dan jasa yang diekspor maupun diimpor oleh suatu negara.
- Neraca transaksi berjalan : Merupakan catatan neraca yang terdiri neraca perdagangan barang maupun jasa, penghasilan, dan transfer berjalan.
- Neraca transaksi modal dan finansial : Merupakan catatan transaksi modal yang meliputi modal jangka pendek maupun jangka panjang.
- Otorisasi : Fungsi APBN yang berarti bahwa anggaran negara menjadi dasar untuk melaksanakan pendapatan dan belanja pada tahun yang bersangkutan, sehingga setiap kegiatan yang berdasar dari APBN dapat dipertanggungjawabkan karena berlandaskan hukum.

Pajak	:	Pungutan yang dilakukan oleh pemerintah (pusat/daerah) terhadap wajib pajak tertentu berdasarkan undang-undang. Pemungutannya dapat dipaksakan tanpa ada imbalan langsung bagi pembayar pajak.
Pajak Bumi dan Bangunan (PBB)	:	Pajak atas bumi dan atau bangunan yang dimiliki atau dimanfaatkan oleh orang pribadi atau badan.
Pajak Penghasilan (PPh)	:	Pajak yang dibebankan pada pribadi atau badan atas penghasilan yang diperoleh dalam satu tahun pajak.
Pajak Pertambahan Nilai (PPn)	:	Pajak yang dikenakan dalam proses produksi maupun distribusi terhadap konsumsi barang atau jasa kena pajak.
Pasiva	:	Terdiri dari utang dan modal.
<i>Peer to peer lending</i>	:	Layanan pinjam meminjam dana bagi individu/ usaha yang membutuhkan dana dalam rangka memenuhi kebutuhan.
Pembangunan ekonomi	:	Proses yang berfokus pada pertumbuhan ekonomi baik kualitatif maupun kuantitatif yang mengukur semua aspek yang mencakup orang-orang di suatu negara menjadi lebih kaya, lebih sehat, berpendidikan lebih baik, dan memiliki akses yang lebih besar ke perumahan berkualitas baik.
Pendapatan per kapita	:	Ukuran atau pendapatan yang diperoleh per orang di suatu negara atau wilayah.

- Perdagangan internasional : Kegiatan untuk tukar menukar barang dan jasa yang melibatkan dua negara atau lebih dengan tujuan mencari keuntungan.
- Persamaan dasar akuntansi : Merupakan sistematika pencatatan yang menggambarkan suatu hubungan pada perusahaan yaitu meliputi pengaruh transaksi terhadap posisi keuangan perusahaan yang meliputi aset dengan sumber dananya.
- Perserikatan Bangsa-Bangsa (PBB) : Organisasi internasional terbesar di dunia yang diikuti oleh 193 negara anggota. Organisasi internasional antar pemerintah ini bertujuan untuk menjaga perdamaian dan keamanan internasional, membina hubungan persahabatan antar bangsa, dan membangun kerjasama internasional.
- Pertumbuhan ekonomi : Peningkatan produksi barang dan jasa yang dihasilkan oleh suatu negara dari waktu ke waktu dan diukur dengan peningkatan total output suatu negara.
- Produk Domestik Bruto (PDB) : Nilai total dari semua barang dan jasa akhir yang diproduksi dalam suatu negara selama periode waktu tertentu.
- Retribusi : Pungutan yang dilakukan oleh pemerintah daerah berdasarkan undang-undang dimana manfaatnya dapat dirasakan langsung.
- Subsidi : Pemberian bantuan kepada pengusaha untuk bisa menekan biaya produksi sehingga bisa menetapkan harga yang bersaing.

- Stabilisasi : Fungsi APBN yang berarti bahwa anggaran pemerintah menjadi alat untuk memelihara dan mengupayakan keseimbangan fundamental perekonomian.
- Tarif : Klasifikasi barang dan pembebanan bea masuk dan bea keluar yang dinyatakan dalam bentuk persentase atau nilai mata uang tertentu.
- Teori Harrod-Domar : Teori yang menyatakan terdapat hubungan positif antara pertumbuhan ekonomi dengan rasio tabungan, dan sebaliknya pertumbuhan ekonomi berhubungan negatif dengan rasio *capital-output*.
- Teori keunggulan mutlak : Teori keunggulan mutlak mengungkapkan pertukaran terjadi di antara dua negara jika setiap negara memiliki keunggulan dalam memproduksi barang tertentu. Artinya setiap negara akan memperoleh manfaat perdagangan internasional karena melakukan spesialisasi produksi dan mengekspor barang jika negara tersebut memiliki keunggulan mutlak, serta mengimpor barang jika negara tersebut memiliki ketidakunggulan mutlak.

- Teori keunggulan komparatif : Suatu negara akan menghasilkan dan kemudian mengekspor suatu barang yang memiliki *comparative advantage* terbesar dan mengimpor barang yang memiliki *comparative disadvantage*, yaitu suatu barang yang dapat dihasilkan dengan lebih murah dan mengimpor barang yang kalau dihasilkan sendiri memakan ongkos yang besar. Artinya, dua negara akan tetap melakukan pertukaran melalui perdagangan internasional walaupun salah satu negara mempunyai semua keunggulan.
- Teori klasik : Analisis proses dari pertumbuhan ekonomi menjadi pokok pemikiran para ekonom klasik. Dimana, pembagian kerja, akumulasi modal, dan juga keuntungan dari perdagangan internasional dipandang sebagai faktor utama pertumbuhan ekonomi.
- Teori Schumpeter : Teori yang menyatakan bahwa inovasi dari pengusaha atau wirausahawan berperan penting dalam meningkatkan pertumbuhan ekonomi.
- UMKM : Usaha mikro kecil dan menengah merupakan usaha produktif yang dimiliki perorangan maupun badan usaha yang telah memenuhi kriteria sebagai usaha mikro.

- United Nations Educational, Scientific and Cultural Organization (UNESCO)* : Organisasi di bawah naungan PBB yang bertanggung jawab untuk mempromosikan perdamaian, keadilan sosial, hak asasi manusia, dan keamanan nasional.
- United Nations Children's International Emergency Fund (UNICEF)* : Dikenal dengan dana anak perserikatan bangsa-bangsa. organisasi ini merupakan badan khusus PBB yang ditujukan untuk membantu upaya nasional meningkatkan kesehatan, gizi, pendidikan dan kesejahteraan umum anak-anak.
- Utang : Merupakan kewajiban atau sejumlah uang yang harus dibayarkan oleh entitas yang timbul dari peristiwa masa lalu.
- World bank* : Lembaga internasional yang memberikan bantuan pembiayaan dan nasihat keuangan kepada negara yang membutuhkan.
- World health organization (WHO)* : Merupakan lembaga yang berada di bawah naungan PBB yang bertanggung jawab terhadap persoalan kesehatan publik internasional.
- World Trade Organization (WTO)* : Organisasi perdagangan dunia yang bertujuan untuk membuat perdagangan antar negara semakin terbuka dengan penurunan bahkan peniadaan hambatan tarif maupun non tarif.

# Daftar Pustaka

- Bahri, Syaiful. 2019. *Pengantar Akuntansi Berdasarkan SAK-ETAP dan IFRS Edisi Revisi*. Yogyakarta: Penerbit Andi.
- Draft Eksposur Standar Akuntansi Keuangan Entitas Mikro, Kecil dan Menengah*. 2016. Ikatan Akuntan Indonesia.
- Halimah, Bachtiar Irmah, dkk. 2019. *Akuntansi Dasar: Buku Pintar Untuk Pemula*. Makassar: Deepublish.
- Hamdy, Hady. 2001. *Ekonomi Internasional: Teori dan Kebijakan perdagangan Internasional Jilid 1*. Jakarta: Ghalia Indonesia
- Harnanto. 2019. *Dasar-dasar Akuntansi*. Yogyakarta: Penerbit Andi
- Hery, Alexander. 2022. *Pengantar Akuntansi*. Bandung: Yrama Widia
- Hery. 2019. *Akuntansi: Aktiva = Utang + Modal*. Jakarta: Grasindo
- Hery. 2020. *Akuntansi Dasar 1 dan 2*. Jakarta: Gramedia
- Kusnendi, dkk. 2017. *Materi Ekonomi Makro dan Internasional Modul PPG Ekonomi UPI*. Bandung: FPEB UPI.
- Mulyani, Endang. 2022. *Ilmu Ekonomi untuk Kelas XI SMA dan MA*. Solo: PT. Tiga Serangkai Pustaka Mandiri.
- Prihadi, Toto. 2022. *Analisis Laporan Keuangan: Konsep dan Aplikasi*. Jakarta: Gramedia Pustaka Utama.
- Republik Indonesia. 2007. *Undang-Undang Nomor 17 Tahun 2007 tentang Rencana Pembangunan Jangka Panjang Nasional Tahun 2005-2025*.
- Republik Indonesia. 2020. *Undang-Undang Nomor 2 Tahun 2020 tentang Penetapan Peraturan Pemerintah Pengganti Undang-Undang Nomor 1 Tahun 2020 tentang Kebijakan Negara Dan Stabilitas Sistem Keuangan Untuk Penanganan Pandemi Corona Virus Disease 2019 (Covid-19) dan/atau Dalam Rangka Menghadapi Ancaman Membahayakan Perekonomian Nasional dan/atau Stabilitas Sistem Keuangan Menjadi Undang-Undang*.



- Republik Indonesia. 2021. *Peraturan Pemerintah Nomor 10 Tahun 2021 tentang Pajak Daerah dan Retribusi Daerah dalam Rangka Mendukung Kemudahan Berusaha dan Layanan Daerah*.
- Republik Indonesia. 2021. *Undang-Undang Nomor 6 Tahun 2021 tentang Anggaran Pendapatan dan Belanja Negara Tahun Anggaran 2022*.
- Republik Indonesia. 2021. *Undang-Undang Nomor 7 Tahun 2021 tentang Harmonisasi Peraturan Perpajakan*.
- Republik Indonesia. 2022. *Undang-Undang Nomor 1 Tahun 2022 tentang Hubungan Keuangan antara Pemerintah Pusat dan Pemerintah Daerah*
- Sadono, Sukirno. 2010. *Makroekonomi Teori Pengantar Edisi Ketiga*. Jakarta: PT. Raja Grasindo Perseda.
- Salvator, Dominick. 1997. *Ekonomi Internasional Edisi Kelima Jilid 1*. Jakarta : Erlangga.
- Sinaga, Yayah. 2016. *Metode Instan Kuasai Akuntansi Dasar*. Jakarta: Cahaya Duabelas Semesta.
- Yuni, Revita. Dkk. 2021. *Dampak perdagangan internasional terhadap pertumbuhan ekonomi Indonesia pada tahun 2009-2019*. Jurnal NIAGAWAN Vol 10 No. 1 Maret 2021 p-ISSN : 2301-7775 e-ISSN : 2579-8014.

## **SUMBER INTERNET**

- Badan Kebijakan Fiskal Kementerian Keuangan Republik Indonesia. Laporan Tim Kajian Neraca Pembayaran 2021. <https://fiskal.kemenkeu.go.id/files/berita-kajian/file/Neraca%20Pembayaran.pdf>. Diakses Pada Tanggal 13 September 2022.
- Biro Analisa Anggaran dan Pelaksana APBN, Analisis Struktur dan Perkembangan Neraca pembayaran Indonesia (NPI), [https://www.dpr.go.id/doksetjen/dokumen/apbn\\_ANALISIS\\_STRUKTUR\\_DAN\\_PERKEMBANGAN\\_NERACA\\_PEMBAYARAN\\_INDONESIA\\_\(NPI\)20140821142110.pdf](https://www.dpr.go.id/doksetjen/dokumen/apbn_ANALISIS_STRUKTUR_DAN_PERKEMBANGAN_NERACA_PEMBAYARAN_INDONESIA_(NPI)20140821142110.pdf). Diakses Pada 13 September 2022.

- BPK Kementerian Keuangan. Kajian atas Pengenaan Bea masuk menggunakan tarif Spesifik, 2022. <https://bppk.kemenkeu.go.id/content/berita/pusdiklat-bea-dan-cukai-kajian-atas-pengenaan-bea-masuk-menggunakan-tarif-spesifik-2019-11-05-4e2d8937/> . Diakses Pada tanggal 19 September 2022.
- Direktorat Penyusunan APBN, Direktorat Jenderal Anggaran, 2013. Dasar-Dasar Praktek Penyusunan APBN di Indonesia Edisi II. <https://anggaran.kemenkeu.go.id/api/Medias/3c84d414-45b8-45aa-a858-3083b785be70>. Diakses pada 5 Agustus 2022
- Heakal, Reem. International (Global) Trade : Definitions, Benefit, Criticisme, 2022. <https://www.investopedia.com/insights/what-is-international-trade/>. Diakses pada 4 Juni 2022.
- Ikatan Akuntan Indonesia, 2022. <https://web.iaiglobal.or.id/beranda>. Diakses pada 19 Oktober 2022.

# Daftar Kredit Gambar

Gambar 1.1: Yuniar, Angga, 2015. Kegiatan Produksi di Sebuah Pabrik. Diakses melalui <https://www.liputan6.com/bisnis/read/4249962/industri-garmen-nasional-tetap-berproduksi-di-tengah-pandemi-corona> pada tanggal 5 Oktober 2022.

Gambar 1.2: Saputra, Tommy, 2020. Pembangunan Jalan Tol. Diakses melalui <https://www.cnnindonesia.com/ekonomi/20200121155546-92-467354/progres-pembangunan-jalan-tol-pekanbaru-dumai-capai-90-persen> pada tanggal 5 Oktober 2022.

Gambar 2.2: Kementerian Perdagangan, 2022. Contoh Barang yang Diekspor dari Indonesia. Diakses melalui <http://ppejp.kemendag.go.id/produk-unggulan-indonesia/> pada tanggal 4 Juni 2022.

Gambar 2.3: Bank Indonesi, 2022. Contoh Neraca Perdagangan. Diakses melalui [https://www.bi.go.id/id/publikasi/ruang-media/news-release/Pages/sp\\_2421622.aspx](https://www.bi.go.id/id/publikasi/ruang-media/news-release/Pages/sp_2421622.aspx) pada tanggal 15 Juni 2022.

Gambar 2.4: Kedubes AS/Liputan 6, 2019. Kantor Kedutaan AS untuk Indonesia di Jakarta. Diakses melalui <https://www.liputan6.com/global/read/3916763/gedung-baru-kedubes-as-usung-konsep-ramah-lingkungan-dan-kolaborasi-seni> pada tanggal 5 Oktober 2022.

Gambar 2.5: Rachev, Laily, 2021. Indonesia dan Malaysia Merupakan Contoh Negara yang Melakukan Kerja sama Bilateral. Diakses melalui <https://nasional.kompas.com/read/2021/02/05/17450801/jokowi-dan-pm-malaysia-bahas-mou-perlindungan-pekerja-domestik-asal-ri> pada tanggal 5 oktober 2022.

Gambar 3.1: Adha, Dwi Aprilia, 2021. Vaksinasi Covid-19. Diakses melalui <https://tirto.id/update-vaksinasi-indonesia-data-vaksin-penerima-per-13-september-gjtE>. pada tanggal 5 Oktober 2022.

Gambar 3.2: Ardiasyah, 2018. Pembangunan Jalan Merupakan Salah Satu Penerapan Fungsi Pajak. Diakses melalui [https://kbr.id/nasional/012018/pembangunan\\_jalan\\_tol\\_padang\\_pekanbaru\\_dimulai\\_akhir\\_2018/94588.html](https://kbr.id/nasional/012018/pembangunan_jalan_tol_padang_pekanbaru_dimulai_akhir_2018/94588.html) pada tanggal 5 Oktober 2022.

Gambar 3.3: Rajasa, M. Agung, 2020. Penerimaan Calon Aparatur Sipil Negara (ASN) Merupakan Salah Satu Bentuk Perluasan Lapangan Kerja. Diakses melalui <https://tirto.id/apa-saja-tes-cpns-2021-simulasi-tes-gratis-cara-daftar-syarat-ggbj> pada tanggal 5 Oktober 2022.

Gambar 4.1: Graham, Scott, 2016. Laporan Keuangan Perusahaan. Diakses melalui <https://unsplash.com/photos/5fNmWej4tAA> pada tanggal 8 Desember 2022.

Gambar 4.6: Bank Indonesia, 2020. Contoh Cek. Diakses melalui <https://www.bi.go.id/id/fungsi-utama/sistem-pembayaran/ritel/instrumen/default.aspx> pada tanggal 9 Oktober 2022.

# Indeks

## A

- Aktiva 156, 157, 158, 159, 160, 205
- Akuntan 137, 138, 139, 172, 205
- Akuntansi 133, 136, 152, 153, 154, 161, 164, 172, 193, 205, 219, 220
- APBD iv, x, 91, 93, 105, 106, 107, 109, 110, 113, 114, 116, 124, 127, 131, 132, 206
- APBN iv, x, 66, 91, 93, 94, 95, 96, 97, 98, 99, 100, 102, 103, 104, 105, 108, 111, 113, 114, 115, 116, 124, 125, 126, 128, 129, 130, 131, 132, 206, 210, 212
- Aset 140, 145, 153, 154, 162, 174, 177, 178
- Asia-Pacific Economic Cooperation
  - APEC 205
- Association of South East Asian Nation
  - ASEAN 205

## B

- Badan Pusat Statistik 11, 19, 20, 87, 88, 90
- Bea 206
- Beban
  - expense 141, 142, 145, 146, 153, 160, 162, 175, 176, 178, 179, 181, 186, 187, 192, 196, 206
- Bilateral 74, 206

## C

- Crowdfunding 25, 206

- Cukai 129, 206

## D

- Diskriminasi harga 55, 207
- Dumping 55, 207

## E

- Ekonomi digital 24, 26, 28, 37, 207
- Ekspor 44, 79, 87, 89, 207
- Ekuitas 140, 145, 153, 154, 162, 174, 179

## F

- Fintech 25, 26, 29, 207

## H

- Heckscher-ohlin 207

## I

- Impor 45, 79, 87, 88, 89, 207
- Indeks pembangunan manusia 19, 21, 207
- International Labour Organization
  - ILO 208
- International Monetary Fund
  - IMF 63, 71, 208
- Investor 208

## K

- Kerjasama antar regional 208
- Kerjasama regional 208
- Kreditur 195, 208
- Kuota 208

## **L**

Laporan keuangan 135, 136,  
172, 209

Liabilitas 140, 145, 153, 154,  
162, 174, 179

## **M**

Merkantilisme 209

Microfinancing 25, 37, 209

Modal 10, 12, 142, 145, 156,  
157, 158, 159, 160, 179,  
187, 188, 196, 209

Multilateral 74, 209

## **N**

Neraca pembayaran 63, 209

Neraca perdagangan 64, 79,  
209

Neraca transaksi berjalan 210

Neraca transaksi modal dan  
finansial 210

## **O**

Otorisasi 210

## **P**

Pajak 101, 117, 118, 119, 120,  
121, 122, 123, 124, 126,  
127, 129, 131, 132, 181,  
210

Pajak penghasilan  
PPH 131

Peer to peer lending 211

Pembangunan ekonomi 16,  
18, 36, 37, 211

Pendapatan per kapita 18, 211

Perdagangan internasional  
41, 44, 77, 211

Persamaan dasar akuntansi  
152, 153, 211

Perserikatan Bangsa-Bangsa  
PBB 211

Pertumbuhan ekonomi 3, 4, 5,

8, 17, 36, 212

Produk domestik bruto 212

## **R**

Retribusi 108, 212

## **S**

Schumpeter 10

Stabilisasi 212

Subsidi 55, 212

## **T**

Tarif 212

Teknologi ii, iii, 23, 24, 219,  
222

Teori keunggulan komparatif  
52, 213

Teori keunggulan mutlak 52,  
213

Teori klasik 9, 214

## **U**

UMKM 38, 111, 112, 119, 214

Unesco 214

Unicef 214

Utang 141, 142, 146, 156, 157,  
158, 159, 160, 179, 187,  
188, 189, 195, 215

## **W**

World bank 83, 215

World health organization  
WHO 215

World trade organization 84

# Profil Penulis



Nama lengkap : Aisyah Nurjanah, S.Pd., Gr  
Email : buaisyahekonomi@gmail.com  
Instansi : SMAN 4 Jakarta  
Alamat Instansi : Jl. Batu 3 No. 3 Gambir, Jakarta Pusat  
Bidang Keahlian : Ekonomi

## Riwayat Pekerjaan (10 Tahun Terakhir) :

1. Guru SMPN 2 SATAP Durai (2015-2016)
2. Guru SMA Assalaam, Bandung (2018-2020)
3. Guru Alfa Centauri, Bandung (2019-2020)
4. Guru SMAN 4 Jakarta (2021 – Sekarang)

## Riwayat Pendidikan Tinggi dan Tahun Belajar:

1. S1 - Pendidikan Ekonomi, UPI (2010)
2. Pendidikan Profesi Guru - Pendidikan Ekonomi, UPI (2017)

## Judul Buku dan Tahun Terbit (10 tahun terakhir):

1. Buku Siswa Ekonomi Kelas XI (2021)
2. Buku Panduan Guru Ekonomi Kelas XI (2021)

## Judul Penelitian dan Tahun Terbit (10 tahun terakhir):

1. Pengaruh Metode Inkuiri Terhadap Kemampuan Berpikir Kritis Siswa (2014)
2. Upaya Meningkatkan Keterampilan Bertanya Peserta Didik Pada Pelajaran Ekonomi Kd. 3.3. Menganalisis Permasalahan Ketenagakerjaan Dalam Pembangunan Ekonomi Melalui Penerapan Teknik *Send A Problem* (2017)

# Profil Penulis



Nama lengkap : Yeni Fitriani, S.Pd., Gr  
Email : yenifitriani2017@gmail.com  
Instansi : SMA Al Wildan Islamic School  
Alamat Instansi : Jalan Layar 4 No.8 Kelapa Dua Tangerang  
Bidang Keahlian : Ekonomi

## **Riwayat Pekerjaan (10 Tahun Terakhir):**

1. SMA Negeri 2 Moro (2015-2016)
2. SMA Negeri 10 Bandung (2017)
3. SMA Insan Cendekia Madani (2018-2019)
4. SMA Al Wildan Islamic School (2019 – Sekarang)

## **Riwayat Pendidikan Tinggi dan Tahun Belajar:**

1. S1 - Pendidikan Ekonomi - Universitas Pendidikan Indonesia - (2010 – 2014)
2. Pendidikan Profesi Guru Pendidikan Ekonomi - Universitas Pendidikan Indonesia (2017)

## **Judul Buku dan Tahun Terbit (10 tahun terakhir):**

1. Buku Siswa Ekonomi Kelas XI (2021)
2. Buku Panduan Guru Ekonomi Kelas XI (2021)

## **Judul Penelitian dan Tahun Terbit (10 tahun terakhir):**

1. Analisis Efisiensi Penggunaan Faktor Produksi Pada Industri Kreatif Subsektor Kerajinan Keramik (2014)
2. Penggunaan *Model Cooperative Learning Tipe Group Investigation* dalam Meningkatkan Kemampuan Analisis Peserta Didik Pada Mata Pelajaran Ekonomi Materi Ayat Jurnal Penyesuaian Kelas XII IPS 1 SMA Negeri 10 Bandung (2017)

# Profil Penelaah

Nama lengkap : Dr Regina Niken Wilantari SE., M.Si  
*Email* : reginanikenw.feb@unej.ac.id  
Instansi : Universitas Jember  
Alamat Instansi : Jl Kalimantan No 37 Jember  
Bidang Keahlian : Ilmu Ekonomi  
Google Scholar : <https://scholar.google.com/citations?hl=en&user=bO26tAEAAAAJ>

## **Riwayat Pekerjaan (10 Tahun Terakhir):**

Dosen Fakultas Ekonomi dan Bisnis Universitas Jember

## **Riwayat Pendidikan Tinggi dan Tahun Belajar:**

1. S1 : Jurusan Ilmu Ekonomi dan Studi Pembangunan , Fakultas Ekonomi, Universitas Jember (1993 -1997)
2. S2 : Jurusan Ilmu Ekonomi, Fakultas Ekonomi, Universitas Gadjah Mada Yogyakarta (1998 -2000)
3. S3 : Jurusan Ilmu Ekonomi, Fakultas Ekonomi, Universitas Padjajaran Bandung (2006 – 2011)

## **Judul Buku dan Tahun Terbit (10 tahun terakhir):**

Indonesian Taxation, Triple Nine Communication Press Singapore, 2021

## **Judul Penelitian dan Tahun Terbit (10 tahun terakhir):**

Additive mixed modeling of impact of investment, labor, education and information technology on regional income disparity: An empirical analysis using the statistics Indonesia dataset, Data in Brief, Volume 45,2022,<https://doi.org/10.1016/j.dib.2022.108619>.



# Profil Penelaah

Nama lengkap : Fiktor Piawai, S.Pd., M.E.  
*Email* : fiktorpiawai@gmail.com  
Instansi : PT. Quipper Edukasi Indonesia  
Alamat Instansi : Gedung Wirausaha, *7th floor*, Jalan H.R. Rasuna  
Said Kav. C5, Setiabudi, Jakarta, Indonesia, 12920  
Bidang Keahlian : Teknologi Pendidikan (Ekonomi)

## **Riwayat Pekerjaan (10 Tahun Terakhir):**

PT. Quipper Edukasi Indonesia (2014 s.d. sekarang)

## **Riwayat Pendidikan Tinggi dan Tahun Belajar:**

1. S-1 Pendidikan Akuntansi, Universitas Pendidikan Indonesia (2007 - 2011)
2. S-2 Ilmu Ekonomi konsentrasi Keuangan Perbankan, Universitas Trisakti (2019 – 2021)

## **Buku yang Pernah ditelaah, direviu, dibuat ilustrasi dan/ atau dinilai (10 tahun terakhir):**

1. Cambridge IGSCE and O Level Economics (2nd Edition) Workbook - Hodder Education (2020)
2. Cambridge International As & A Level Economics - Cambridge University Press (2020)
3. Cambridge International As & A Level Economics Student Book - Hodder Education (2020)
4. Cambridge International As & A Level Economics Revision Guide – Hodder Education (2020)
5. Buku Siswa Ekonomi Kelas XI (2021)
6. Buku Panduan Guru Ekonomi Kelas XI (2021)

# Profil Penyunting

Nama lengkap : Ria Nita Fatimah, S.E.  
*Email* : fatimahria@gmail.com  
Bidang Keahlian : Ilmu Ekonomi

## **Riwayat Pekerjaan (10 Tahun Terakhir):**

1. 2019-2022, HRD di CV. Citra Pustaka, Sukoharjo.
2. 2016-2018, kepala editor di CV. Citra Pustaka, Sukoharjo.

## **Riwayat Pendidikan Tinggi dan Tahun Belajar:**

2005-2008, S1 Ekonomi Akuntansi, Fakultas Ekonomi Universitas Islam Batik Surakarta.

## **Judul Buku dan Tahun Terbit (10 tahun terakhir):**

1. Ensiklopedia Kekayaan Laut Indonesia. PT. Jepe Press Media Utama.
2. Ensiklopedia Hasil Tambang Indonesia. PT. Jepe Press Media Utama.
3. Mari Mengenal Bumbu Nusantara – Badan Pengembangan dan Pembinaan Bahasa Kementerian Pendidikan dan Kebudayaan.

## **Buku yang Pernah ditelaah, direviu, dibuat ilustrasi dan/ atau dinilai (10 tahun terakhir):**

1. Budaya Melayu Riau untuk SMP. PT. Inti Prima Aksara.
2. Teks Pendamping Buku Siswa Tematik Tema 1 s.d. Tema 8. CV. Citra Pustaka Sukoharjo.
3. Teks Pendamping Buku Guru Tematik Tema 1 s.d. Tema 8. CV. Citra Pustaka Sukoharjo.

# Profil Ilustrator

Nama lengkap : Febrilia Syahputri  
*Email* : febriliasyahputri@gmail.com  
Bidang Keahlian : Ilustrasi

## **Riwayat Pekerjaan/Profesi (10 Tahun Terakhir):**

Illustrator Freelance Buku Anak

## **Buku yang Pernah dibuat ilustrasi/desain (10 tahun terakhir):**

Dodo si Paus Biru, Wonderland Publisher 2021

## **Informasi Lain dari Ilustrator:**

Tautan Portofolio : [https://instagram.com/febriliasyahputri\\_](https://instagram.com/febriliasyahputri_)  
[https://www.behance.net/febriliasyahputri\\_](https://www.behance.net/febriliasyahputri_)  
<https://dribbble.com/FebriliaSyahputri>

# Profil Desainer

Nama Lengkap : Muhammad Nichal Zaki  
E-mail : [nichal.zaki@gmail.com](mailto:nichal.zaki@gmail.com)  
Instansi : Penerbit Alinea ([penerbitalinea.com](http://penerbitalinea.com))  
Alamat Instansi : Semarang  
Bidang Keahlian : Desainer sampul dan tata letak isi

## Riwayat Pekerjaan/Profesi (10 Tahun Terakhir):

1. Pendiri dan Pemimpin Redaksi Penerbit Alinea ([penerbitalinea.com](http://penerbitalinea.com)) (2020-sekarang)
2. Pemimpin Redaksi Penerbit Genesis (2018-2020)
3. *Freelance* Editorial Designer di Buku Mojok (2015)
4. *Freelance* Editorial Designer di Bentang Pustaka (2014-2017)
5. *Freelance* Cover Designer di Mizan Pustaka (2015-2016)

## Riwayat Pendidikan Tinggi dan Tahun Belajar:

S1: Fakultas Sains dan Teknologi, UIN Sunan Kalijaga  
Yogyakarta (2014)

## Judul Buku yang Dilayout atau Didesain dan Tahun Terbit (10 Tahun Terakhir):

1. *Balada Gathak Gathuk*. Bentang Pustaka (2016)
2. *Mati Ketawa ala Refotnasi*. Bentang Pustaka (2016).
3. *Surat Terbuka Kepada Pemilih Jokowi Sedunia*. Buku Mojok (2015).
4. *Sekolahnya Manusia*. Kaifa (2016).

## Informasi Lain:

Tautan Portofolio: [nichalzaki.myportfolio.com](http://nichalzaki.myportfolio.com)